











**ВП.1.1. Нормативные правовые акты Российской Федерации, регулирующие безопасность судоходства**




№	Вопрос	Иллюстрация	Варианты ответа (правильный выделен)
ВП.1.1.1	Что означает сигнал - горизонтальное движение флагом - отماشкой, подаваемый с патрульного судна ГИМС?		<ul style="list-style-type: none"> <li>• "Подойдите к моему борту"</li> <li>• "Прошу лечь на обратный курс"</li> <li>• "Проходите по борту со стороны отماشки"</li> <li>• "Прошу остановить судно"</li> </ul>
ВП.1.1.2	Какое движение флага-отماشки днем означает сигнал "Прошу остановиться"?		<ul style="list-style-type: none"> <li>• Вертикальное</li> <li>• Вращательное</li> <li>• Любое</li> <li>• Горизонтальное</li> </ul>
ВП.1.1.3	В каком случае требуется заключение договора водопользования для плавания на маломерном судне?		<ul style="list-style-type: none"> <li>• Если мощность двигателя маломерного судна более 55 кВт (75 л.с.)</li> <li>• Если на одного владельца зарегистрировано два и более маломерных судов</li> <li>• Если судовладелец использует судно для рыболовства, рыбоводства или охоты</li> <li>• Таких случаев законодательством не предусмотрено</li> </ul>

ВП.1.1.4	При какой мощности подвесного лодочного мотора (двигателя) маломерное судно массой более 200 кг подлежит государственной регистрации?		<ul style="list-style-type: none"> <li>• Более 3,68 кВт</li> <li>• Более 5 кВт</li> <li>• Более 8 кВт</li> <li>• Более 10 кВт</li> </ul>
ВП.1.1.1.	В каком из перечисленных случаев государственный инспектор по маломерным судам имеет право использовать суда, принадлежащие гражданам?		<ul style="list-style-type: none"> <li>• Для следования к месту работы</li> <li>• Для транспортировки судна нарушителя</li> <li>• Для доставки нарушителей на медицинское обследование</li> <li>• Для доставки в лечебные учреждения пострадавших людей</li> </ul>
ВП.1.1.5	В течение какого срока собственник маломерного судна обязан сообщить в орган государственной регистрации судна о любом изменении сведений, внесенных в судовую книгу?		<ul style="list-style-type: none"> <li>• В течение недели</li> <li>• В течение месяца</li> <li>• В течение трех недель</li> <li>• В течение двух недель</li> </ul>

ВП.1.1.6	Какова периодичность проведения очередного освидетельствования маломерного судна?		<ul style="list-style-type: none"> <li>• Один раз в 5 лет</li> <li>• Один раз в 2 года</li> <li>• Один раз в 3 года</li> <li>• Ежегодно</li> </ul>
ВП.1.1.7	Какие первоначальные действия должен осуществлять инспектор по маломерным судам при подходе к остановленному судну?		<ul style="list-style-type: none"> <li>• Представиться судоводителю и объявить причину остановки судна</li> <li>• Представиться судоводителю и информировать его о правах и обязанностях</li> <li>• Представиться судоводителю и потребовать от него судовые и судоводительские документы</li> <li>• Представиться судоводителю, предъявить служебное удостоверение, потребовать у судоводителя удостоверение на право управления, судовой билет и объявить причину остановки судна</li> </ul>
ВП.1.1.8	Через сколько дней заявитель, показавший неудовлетворительный результат при проверке теоретических знаний при аттестации на право управления маломерным судном, может быть повторно допущен к проверке теоретических знаний?		<ul style="list-style-type: none"> <li>• Такой срок не установлен</li> <li>• Через 3 дня</li> <li>• Через 5 дней</li> <li>• Через 7 дней</li> </ul>



<p>ВП.1.1.9</p>	<p>Какой документ, выдаваемый собственнику маломерного судна, подтверждает право плавания под Государственным флагом Российской Федерации?</p>		<ul style="list-style-type: none"> <li>• Удостоверение на право управления маломерными судами</li> <li>• Технический талон</li> <li>• Акт технического освидетельствования</li> <li>• Судовой билет</li> </ul>
<p>ВП.1.1.10</p>	<p>В присутствии какого лица осуществляется доступ судоводителя (судовладельца) к маломерному судну, задержанному и находящемуся на специализированной стоянке?</p>		<ul style="list-style-type: none"> <li>• Государственного инспектора по маломерным судам</li> <li>• Представителя милиции</li> <li>• Представителя прокуратуры</li> <li>• Лица, ответственного за хранение судна</li> </ul>
<p>ВП.1.1.11</p>	<p>Сколько метров составляет ширина береговой полосы водных объектов общего использования?</p>		<ul style="list-style-type: none"> <li>• 10 м</li> <li>• 30 м</li> <li>• 50 м</li> <li>• 20 м</li> </ul>






<p>ВП.1.1.12</p>	<p>На какие органы (организации) Водным кодексом РФ возложены обязанности об информировании жителей в случае введения запрета (ограничения) на использование маломерных судов на водных объектах общего пользования?</p>		<ul style="list-style-type: none"> <li>• На ВОСВОД</li> <li>• На инспекторские подразделения</li> <li>• ГИМС</li> <li>• На территориальные органы МЧС России</li> <li>• На органы местного самоуправления</li> </ul>
<p>ВП.1.1.13</p>	<p>Выберите правильное определение понятия «район плавания маломерного судна»</p>		<ul style="list-style-type: none"> <li>• район, по которому произведена предварительная прокладка перехода;</li> <li>• район, в котором фактически находится маломерное судно;</li> <li>• акватория, на которой допускается использование маломерного судна в соответствии с его техническими и конструктивными характеристиками;</li> <li>• акватория, в которой осуществляют плавание маломерные суда</li> </ul>
<p>ВП.1.1.14</p>	<p>Каким нормативным документом регулируется безопасность судоходства маломерных судов на внутренних водах, не включенных в Перечень внутренних водных путей Российской Федерации?</p>		<ul style="list-style-type: none"> <li>• Правилами плавания по внутренним водным путям Российской Федерации;</li> <li>• Правилами пользования маломерными судами на водных объектах Российской Федерации;</li> <li>• Кодексом внутреннего водного транспорта Российской Федерации;</li> <li>• Водным кодексом Российской Федерации.</li> </ul>




ВП.1.1.15	Что должен выполнить судоводитель для предотвращения непосредственно угрожающей опасности или ее возможных последствий?	?	<ul style="list-style-type: none"> <li>• следовать безопасной скоростью</li> <li>• уменьшить скорость до минимальной</li> <li>• увеличить скорость до максимальной</li> <li>• остановиться</li> </ul>
ВП.1.1.16	Отметьте правильный ответ на вопрос: «Что должен выполнить судоводитель для предотвращения непосредственно угрожающей опасности или ее возможных последствий»?	?	<ul style="list-style-type: none"> <li>• принять все меры, которые диктуются практикой судовождения.</li> <li>• принять все меры, которые диктуются практикой судовождения или особыми обстоятельствами.</li> <li>• принять все меры, которые диктуются практикой судовождения или особыми обстоятельствами, не отступая от Правил плавания по ВВП РФ.</li> <li>• принять все меры, которые диктуются практикой судовождения или особыми обстоятельствами, даже если вынужден отступать от Правил плавания по ВВП РФ.</li> </ul>
ВП.1.1.17	Что должен выполнить судоводитель в случае неуверенности в оценке ситуации (неясность в действиях других судов, неподача или неправильное подтверждение сигналов, потеря ориентировки, отсутствие или неисправность знаков навигационного оборудования и т.п.)?	?	<ul style="list-style-type: none"> <li>• уменьшить ход или прекратить движение до выяснения ситуации;</li> <li>• продолжать движение, не меняя курса и скорости;</li> <li>• максимально быстро покинуть место развития ситуации;</li> <li>• изменить курс и двигаться к ближайшему берегу.</li> </ul>




ВП.1.1.18	Что обязан выполнить судоводитель, находящийся поблизости от аварийного судна, если имеется опасность для находящихся на нем людей?	?	<ul style="list-style-type: none"> <li>• оказать немедленную помощь</li> <li>• насколько это совместимо с безопасностью его судна, оказать немедленную помощь;</li> <li>• не оказывать помощь;</li> <li>• привлечь внимание других судов</li> </ul>
ВП.1.1.19	Что необходимо выполнить судоводителю маломерного судна при встрече немаломмерного судна на судовом ходу?	?	<ul style="list-style-type: none"> <li>• заблаговременно уйти с его пути без обмена звуковыми и зрительными сигналами;</li> <li>• уступить дорогу после обмена звуковыми сигналами;</li> <li>• уступить дорогу после обмена зрительными сигналами;</li> <li>• потребовать, чтобы ему уступили дорогу.</li> </ul>
ВП.1.1.20	Отметьте правильное определение понятия «полоса движения»:	?	<ul style="list-style-type: none"> <li>• судовой ход;</li> <li>• часть судового хода между его осью и правой или левой кромкой;</li> <li>• ось судового хода;</li> <li>• правая сторона судового хода.</li> </ul>

ВП.1.1.21	Какому из перечисленных судов НЕ должно уступать дорогу парусное судно на ходу?	?	<ul style="list-style-type: none"> <li>• одиночное самоходное судно, толкающее или буксирующее состав (кроме плота);</li> <li>• судно, занятое ловом рыбы;</li> <li>• судно, буксирующее плот;</li> <li>• судно, лишенное возможности управляться, занятое подводными или водолазными работами</li> </ul>
ВП.1.1.22	Отметьте правильное определение понятия «маломерное судно»		<ul style="list-style-type: none"> <li>• судно, длина которого не должна превышать 18 метров и общее количество людей на котором не должно превышать 10</li> <li>• судно, длина которого не должна превышать 20 метров и общее количество людей на котором не должно превышать 12</li> <li>• судно, длина которого не должна превышать 24 метра и общее количество людей на котором не должно превышать 12</li> <li>• судно, длина которого не должна превышать 24 метра и общее количество людей на котором не должно превышать 14</li> </ul>
ВП.1.1.23	Отметьте правильное определение понятия «маломерное моторное судно»		<ul style="list-style-type: none"> <li>• маломерное судно, использующее в качестве основного средства движения подвесной мотор</li> <li>• маломерное судно, использующее в качестве основного средства стационарный двигатель</li> <li>• маломерное судно, использующее в качестве движителя гребной винт</li> <li>• маломерное судно, использующее в качестве основного средства движения механический двигатель</li> </ul>









ВП.1.1.24	Отметьте правильное определение понятия «маломерное парусное судно»		<ul style="list-style-type: none"> <li>• маломерное судно, использующее в качестве основного средства движения силу ветра</li> <li>• маломерное судно, использующее в качестве движителя парус</li> <li>• маломерное судно, оснащенное парусами</li> <li>• маломерное судно, использующее в качестве единственного средства движения парус</li> </ul>
ВП.1.1.25	Отметьте правильное определение понятия судоводитель (капитан) маломерного судна		<ul style="list-style-type: none"> <li>• лицо, управляющее маломерным судном</li> <li>• лицо, управляющее маломерным судном и имеющее необходимую для этого квалификацию</li> <li>• лицо, управляющее маломерным судном и являющееся собственником судна</li> <li>• лицо, управляющее маломерным судном по поручению судовладельца</li> </ul>
ВП.1.1.26	Отметьте правильное определения понятия «пассажир маломерного судна»		<ul style="list-style-type: none"> <li>• любое лицо на борту маломерного судна</li> <li>• любое лицо на борту маломерного судна, имеющее проездной билет</li> <li>• любое лицо на борту маломерного судна, не являющееся членом экипажа судна</li> <li>• любое лицо на борту маломерного судна, находящееся там с разрешения судоводителя (капитана)</li> </ul>

ВП.1.1.27	Отметьте правильное определения понятия «судоходство маломерных судов»		<ul style="list-style-type: none"> <li>• движение маломерных судов по водной акватории</li> <li>• движение маломерных судов по водной акватории, на которой разрешено использование маломерного судна</li> <li>• деятельность, связанная с использованием маломерных судов исключительно для производственных целей</li> <li>• деятельность, связанная с использованием маломерных судов для отдыха, туризма, а также культурных, спортивных, производственных, развлекательных и иных целей</li> </ul>
ВП.1.1.28	На какой срок выдается свидетельство о классификации маломерного судна после его постройки и (или) освидетельствования?		<ul style="list-style-type: none"> <li>• на 1 год</li> <li>• на 5 лет</li> <li>• на 10 лет</li> <li>• бессрочно</li> </ul>
ВП.1.1.29	Отметьте правильное определение состояния защищённости маломерных судов, находящихся на водных объектах, от аварий и происшествий.		<ul style="list-style-type: none"> <li>• Безопасность судоходства маломерных судов</li> <li>• Безопасность маломерных судов</li> <li>• Безопасность на водных объектах</li> <li>• Безаварийное судоходство</li> </ul>




ВП.1.1.30	Что из перечисленного НЕ является основанием прекращения действия права на управление маломерным судном?		<ul style="list-style-type: none"> <li>• истечение установленного срока действия удостоверения на право управления маломерным судном</li> <li>• ухудшение здоровья судоводителя, препятствующее безопасному управлению маломерным судном, подтвержденное медицинским заключением</li> <li>• лишение права на управление маломерным судном</li> <li>• утеря удостоверения на право управления маломерным судном</li> </ul>
ВП.1.1.31	Кто из перечисленных лиц обязан обеспечивать безопасность плавания маломерного судна?		<ul style="list-style-type: none"> <li>• судовладелец</li> <li>• судоводитель</li> <li>• капитан</li> <li>• члены экипажа</li> </ul>
ВП.1.1.32	В каком случае необходимо оформление судовой роли на маломерном судне, не укомплектованном штатным экипажем?		<ul style="list-style-type: none"> <li>• Перед освидетельствованием судна</li> <li>• Перед каждым выходом с базы стоянки</li> <li>• Перед выходом в заграничное плавание</li> <li>• Во всех перечисленных случаях</li> </ul>

ВП.1.2. Правила плавания маломерных судов, включая правила плавания в портах


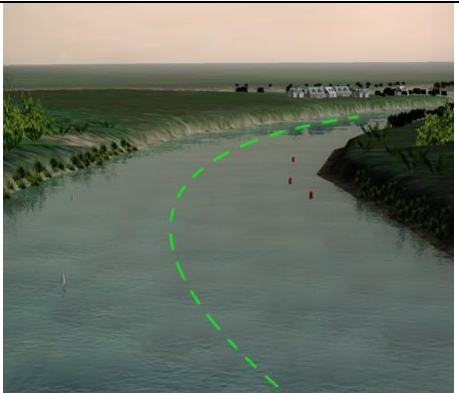

№	Вопрос	Иллюстрация	Варианты ответа (правильный выделен)
ВП.1.2.1	Что обозначает изображенный на иллюстрации знак?		<ul style="list-style-type: none"> <li>Судно на ходу</li> <li>Судно, осуществляющее перевозку радиоактивных грузов</li> <li>Судно, идущее под парусом и одновременно использующее силовую установку</li> <li>Судно, стоящее на якоре</li> </ul>
ВП.1.2.2	Что обозначает изображенный на иллюстрации знак?		<ul style="list-style-type: none"> <li>Судно, стоящее на мели</li> <li>Судно, стоящее на якоре</li> <li>Судно, идущее под парусом и одновременно использующее силовую установку</li> <li>Судно, осуществляющее перевозку опасных грузов</li> </ul>
ВП.1.2.3	Что обозначают изображенные на иллюстрации знаки?		<ul style="list-style-type: none"> <li>Лоцманское судно при исполнении своих обязанностей</li> <li>Судно, занятое буксировкой с длиной буксира более 200 м</li> <li>Судно, ограниченное в возможности маневрировать, на ходу</li> <li>Судно, лишенное возможности управляться</li> </ul>



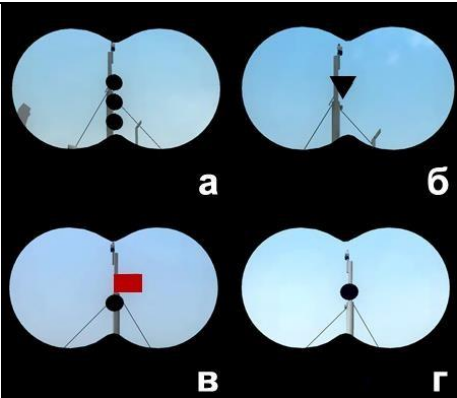
<p>ВП.1.2.4</p>	<p>Что обозначает изображенный на иллюстрации знак?</p>		<ul style="list-style-type: none"> <li>• Судно, стоящее на мели</li> <li>• Судно, стоящее на якоре</li> <li>• Судно, осуществляющее перевозку радиоактивных грузов</li> <li>• Судно, идущее под парусом и одновременно использующее силовую установку</li> </ul>
<p>ВП.1.2.5</p>	<p>На каком судне выставляется изображенный на иллюстрации сигнал?</p>		<ul style="list-style-type: none"> <li>• Судно на мели</li> <li>• Судно, занятое дноуглубительными работами</li> <li>• Судно, лишенное возможности управляться, на якоре</li> <li>• Судно терпит бедствие и нуждается в помощи</li> </ul>
<p>ВП.1.2.6</p>	<p>Что означают непрерывно повторяющиеся продолжительные сигналы либо непрерывные частые удары в колокол или металлический предмет, подаваемые судном?</p>		<ul style="list-style-type: none"> <li>• Прошу выйти на связь</li> <li>• Человек за бортом</li> <li>• Предупреждение</li> <li>• Сигнал бедствия</li> </ul>






ВП.1.2.7	Какие действия должно предпринять судно, которому уступают дорогу?		<ul style="list-style-type: none"> <li>• Увеличить свою скорость</li> <li>• Увеличить свою скорость и изменить курс на 10 градусов вправо</li> <li>• Изменить свой курс на 10 градусов вправо</li> <li>• Сохранить свои курс и скорость</li> </ul>
ВП.1.2.8	Должно ли маломерное моторное судно на ходу уступить дорогу парусному судну?		<ul style="list-style-type: none"> <li>• Не должно</li> <li>• Должно, если парусное судно идет правым галсом</li> <li>• Должно, если парусное судно приближается с левого борта</li> <li>• Должно в любом случае</li> </ul>
ВП.1.2.9	По какому борту одно маломерное судно должно обгонять другое маломерное судно?		<ul style="list-style-type: none"> <li>• Обгон не разрешается</li> <li>• По любому борту</li> <li>• По правому борту обгоняемого судна</li> <li>• По левому борту обгоняемого судна</li> </ul>




<p>ВП.1.2.10</p>	<p>Если два маломерных моторных судна идут пересекающимися курсами так, что возникает опасность столкновения, какое судно должно уступить дорогу другому судну?</p>		<ul style="list-style-type: none"> <li>• Судно, находящееся южнее другого судна</li> <li>• Судно, находящееся севернее другого судна</li> <li>• Судно, которое наблюдает другое судно по своему левому борту</li> <li>• Судно, которое наблюдает другое судно по своему правому борту</li> </ul>
<p>ВП.1.2.11</p>	<p>Как должны маневрировать маломерные суда для расхождения друг с другом на акватории, не имеющей судоходной обстановки?</p>		<ul style="list-style-type: none"> <li>• Так, чтобы разойтись правыми бортами</li> <li>• Так, чтобы расстояние между ними было не менее 50 м</li> <li>• Так, чтобы расстояние между ними было не менее трех длин корпуса большего судна</li> <li>• Так, чтобы разойтись левыми бортами</li> </ul>
<p>ВП.1.2.12</p>	<p>В каком из следующих случаев не разрешается пользоваться маломерным судном?</p>		<ul style="list-style-type: none"> <li>• У судоводителя нет при себе удостоверения на право управления судном</li> <li>• Маломерное судно не зарегистрировано в установленном порядке</li> <li>• На маломерном судне отсутствует судовой билет</li> <li>• Во всех перечисленных случаях</li> </ul>




<p>ВП.1.2.13</p>	<p>На каком расстоянии от кромки судового хода должно следовать маломерное судно по судовому ходу, если нет возможности следовать за кромкой судового хода?</p>		<ul style="list-style-type: none"> <li>• На расстоянии до 5 м от кромки судового хода</li> <li>• На расстоянии до 15 м от кромки судового хода</li> <li>• На расстоянии до 20 м от кромки судового хода</li> <li>• На расстоянии до 10 м от кромки судового хода</li> </ul>
<p>ВП.1.2.14</p>	<p>Как называется часть водного пространства на внутренних водных путях, предназначенная для движения судов и обозначенная на местности и (или) карте?</p>		<ul style="list-style-type: none"> <li>• Акватория</li> <li>• Полоса движения</li> <li>• Стрежень</li> <li>• Судовой ход</li> </ul>
<p>ВП.1.2.15</p>	<p>Что означает поднятый на судне сигнал?</p>		<ul style="list-style-type: none"> <li>• Судно на мели</li> <li>• Судно занято дноуглубительными работами</li> <li>• Судно, лишенное возможности управляться, на якоре</li> <li>• Судно терпит бедствие и нуждается в помощи</li> </ul>




<p>ВП.1.2.16</p>	<p>Что означает изображенный на иллюстрации знак, выставленный на парусном судне?</p>		<ul style="list-style-type: none"> <li>• Судно стоит на мели</li> <li>• Судно длиной более 20 м</li> <li>• Судно занимается рыбной ловлей</li> <li>• Судно идет под парусом и мотором одновременно</li> </ul>
<p>ВП.1.2.17</p>	<p>Что означает знак, выставленный на судне?</p>		<ul style="list-style-type: none"> <li>• Судно ограничено в возможности маневрировать</li> <li>• Судно занято ловом рыбы</li> <li>• Судно осуществляет перевозку опасных грузов</li> <li>• Судно стоит на якорь</li> </ul>
<p>ВП.1.2.18</p>	<p>Какой из изображенных на иллюстрации сигналов несет судно, терпящее бедствие?</p>		<ul style="list-style-type: none"> <li>• а)</li> <li>• б)</li> <li>• г)</li> <li>• в)</li> </ul>


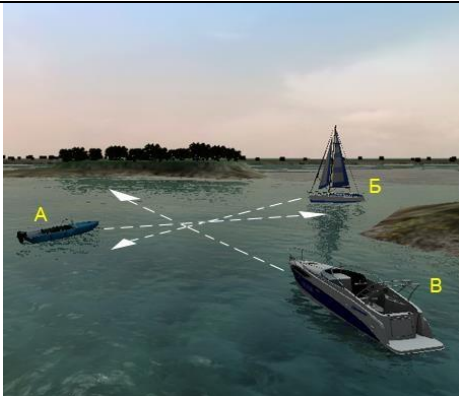

ВП.1.2.19	Что означает звуковой сигнал из трех продолжительных звуков?		<ul style="list-style-type: none"> <li>• "Прошу уменьшить ход"</li> <li>• "Я изменяю свой курс влево"</li> <li>• "Я намереваюсь сделать оборот"</li> <li>• "Человек за бортом"</li> </ul>
ВП.1.2.20	Что означает звуковой сигнал – серия, не менее пяти коротких звуков?		<ul style="list-style-type: none"> <li>• "Мои движители работают на задний ход"</li> <li>• "Прошу уменьшить ход"</li> <li>• "Я намереваюсь остановиться"</li> <li>• "Предупреждение"</li> </ul>
ВП.1.2.21	Какое судно несет на наиболее видном месте сигнал - черный конус вершиной вниз?		<ul style="list-style-type: none"> <li>• Судно, стоящее на мели</li> <li>• Судно, стоящее на якоре</li> <li>• Судно, осуществляющее перевозку радиоактивных грузов</li> <li>• Судно, идущее под парусом и одновременно использующее силовую установку</li> </ul>






ВП.1.2.22	Какие из перечисленных сигналов может подавать терпящее бедствие судно, которое просит о помощи?		<ul style="list-style-type: none"> <li>• Ракеты красного цвета</li> <li>• Частое мигание круговым огнем или вертикальное перемещение огня</li> <li>• Медленное повторяемое поднятие и опускание вытянутыми в сторону руками</li> <li>• Все перечисленные сигналы</li> </ul>
ВП.1.2.23	Какое из перечисленных маломерных судов на ходу показывает белый круговой огонь при приближении к нему других судов?		<ul style="list-style-type: none"> <li>• Катер</li> <li>• Гидроцикл</li> <li>• Моторная лодка</li> <li>• Шлюпки судов</li> </ul>
ВП.1.2.24	Какое значение имеет звуковой сигнал из одного короткого звука?		<ul style="list-style-type: none"> <li>• "Я изменяю свой курс влево"</li> <li>• "Мои двигатели работают на задний ход"</li> <li>• "Я намереваюсь сделать оборот"</li> <li>• "Я изменяю свой курс вправо"</li> </ul>


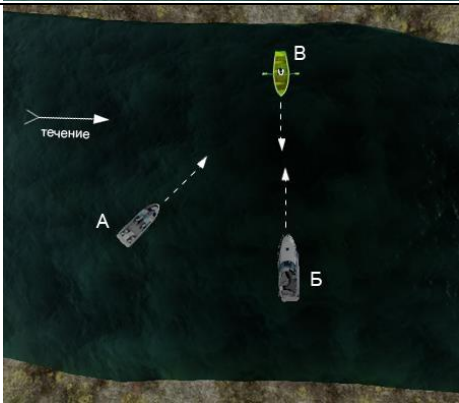

ВП.1.2.25	Какое значение имеет звуковой сигнал из двух коротких звуков?		<ul style="list-style-type: none"> <li>• "Я изменяю свой курс вправо"</li> <li>• "Мои двигатели работают на задний ход"</li> <li>• "Я намереваюсь сделать оборот"</li> <li>• "Я изменяю свой курс влево"</li> </ul>
ВП.1.2.26	Какое значение имеет звуковой сигнал из трех коротких звука?		<ul style="list-style-type: none"> <li>• "Я изменяю свой курс влево"</li> <li>• "Я изменяю свой курс вправо"</li> <li>• "Я намерен сделать оборот"</li> <li>• "Мои движители работают на задний ход"</li> </ul>
ВП.1.2.27	Какой из звуковых сигналов в условиях ограниченной видимости подает одиночное судно на якоре?		<ul style="list-style-type: none"> <li>• "а"</li> <li>• "в"</li> <li>• "г"</li> <li>• "б"</li> </ul>


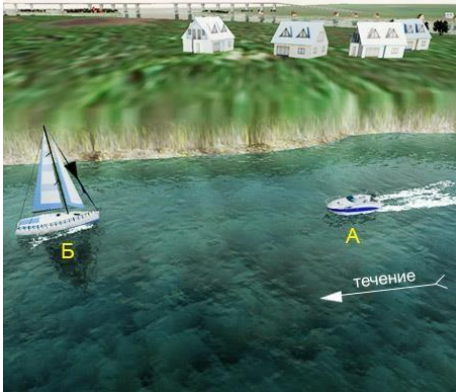

ВП.1.2.28	<p>Какое значение имеет звуковой сигнал - один продолжительный звук, подаваемый судном в условиях ограниченной видимости?</p>		<ul style="list-style-type: none"> <li>• "Несамоходное судно с экипажем на якоре или на мели в пределах судового хода"</li> <li>• "Одинокое судно или составы на якоре или на мели в пределах судового хода"</li> <li>• "Составы и плоты в движении"</li> <li>• "Одинокое судно в движении"</li> </ul>
ВП.1.2.29	<p>Какое значение имеет звуковой сигнал - 1 короткий, 1 продолжительный и 1 короткий звуки, подаваемый судном в условиях ограниченной видимости?</p>		<ul style="list-style-type: none"> <li>• "Несамоходное судно с экипажем на якоре или на мели в пределах судового хода"</li> <li>• "Одинокое судно в движении"</li> <li>• "Составы в движении"</li> <li>• "Одинокое судно или составы на якоре или на мели в пределах судового хода"</li> </ul>
ВП.1.2.30	<p>Какое значение имеет звуковой сигнал - частые удары в колокол или металлический предмет, подаваемый судном в условиях ограниченной видимости?</p>		<ul style="list-style-type: none"> <li>• "Одинокое судно в движении"</li> <li>• "Одинокое судно или составы на якоре или на мели в пределах судового хода"</li> <li>• "Составы в движении"</li> <li>• "Несамоходное судно с экипажем на якоре или на мели в пределах судового хода"</li> </ul>

<p>ВП.1.2.31</p>	<p>Какие действия должен предпринять судоводитель маломерного судна "В"?</p>		<ul style="list-style-type: none"> <li>• Следовать намеченным курсом</li> <li>• Повернуть вправо, чтобы пройти за кормой "Б"</li> <li>• Пройти за кормой судна "А"</li> <li>• Осуществить пропуск судов "А" и "Б"</li> </ul>
<p>ВП.1.2.32</p>	<p>Какому из маломерных судов "А" и "В" должно уступить дорогу парусное судно "Б"?</p>		<ul style="list-style-type: none"> <li>• "А"</li> <li>• "А" и "В"</li> <li>• "В"</li> <li>• Ни одному из судов</li> </ul>
<p>ВП.1.2.33</p>	<p>Как называется часть судового хода между его осью и правой или левой кромкой судового хода?</p>		<ul style="list-style-type: none"> <li>• Ширина судового хода</li> <li>• Полоса судового хода</li> <li>• Кромка судового хода</li> <li>• Полоса движения</li> </ul>




<p>ВП.1.2.34</p>	<p>Какому из судов ("А" – моторное судно, "В" - парусное судно) должна уступить дорогу гребная лодка "Б"?</p>		<ul style="list-style-type: none"> <li>• "А"</li> <li>• "А" и "В"</li> <li>• Никакому</li> <li>• "В"</li> </ul>
<p>ВП.1.2.35</p>	<p>Какие действия должен предпринять судоводитель маломерного судна "А" при выходе из базы стоянки?</p>		<ul style="list-style-type: none"> <li>• Пропустить "А" и начать движение</li> <li>• Пропустить судно "Б" и начать движение</li> <li>• Выйти с базы, не пропуская "Б" и "В"</li> <li>• Пропустить "Б" и "В" и начать движение</li> </ul>
<p>ВП.1.2.36</p>	<p>Как называется маневр, связанный с прохождением одного судна относительно другого при встречном плавании?</p>		<ul style="list-style-type: none"> <li>• Уклонение</li> <li>• Пропуск</li> <li>• Отворот</li> <li>• Расхождение</li> </ul>









<p>ВП.1.2.37</p>	<p>Какое маломерное судно ("А" - парусное судно, "Б" - гребная лодка, "В" - моторная лодка) имеет преимущество при расхождении перед другими?</p>		<ul style="list-style-type: none"> <li>• "Б"</li> <li>• "В"</li> <li>• Никакое</li> <li>• "А"</li> </ul>
<p>ВП.1.2.38</p>	<p>Какое маломерное судно ("А" - катер, "Б" - моторная лодка, "В" - безмоторное судно) имеет преимущество при расхождении перед другими?</p>		<ul style="list-style-type: none"> <li>• "А"</li> <li>• "А" и "Б"</li> <li>• "Б"</li> <li>• "В"</li> </ul>
<p>ВП.1.2.39</p>	<p>Что должен сделать судоводитель маломерного судна при резком ухудшении визуальной видимости, если судно имеет устройство для подачи звуковых сигналов, но не оборудовано исправными радиолокационной и радиотелефонной установками?</p>		<ul style="list-style-type: none"> <li>• Уменьшить скорость и подавать звуковые сигналы, предписанные ППВВП</li> <li>• Уменьшить скорость, усилить слуховое и визуальное наблюдение, подавать предписанные ППВВП звуковые сигналы</li> <li>• Продолжить плавание, усилив слуховое и визуальное наблюдение</li> <li>• Прекратить движение</li> </ul>

ВП.1.2.40	Как должен производиться обгон маломерным судном другого маломерного судна?		<ul style="list-style-type: none"> <li>• По правому борту обгоняемого судна</li> <li>• По правому борту при следовании вниз</li> <li>• По правому борту при следовании вверх</li> <li>• По левому борту обгоняемого судна</li> </ul>
ВП.1.2.41	Какое из маломерных судов имеет преимущество при расхождении?		<ul style="list-style-type: none"> <li>• "А" и "Б"</li> <li>• Только "А"</li> <li>• Только "Б"</li> <li>• Ни одно из них</li> </ul>
ВП.1.2.42	Какие действия должен предпринять судоводитель маломерного судна "А", если для него становится очевидным, что судно "Б" не предпринимает соответствующих действий для избежания столкновения?		<ul style="list-style-type: none"> <li>• Запустить ракету в сторону судна "Б"</li> <li>• Обратить на себя внимание подачей сигналов флагом-отмашкой</li> <li>• Подать звуковой сигнал из 5 коротких звуков</li> </ul>




ВП.1.3. Вопросы административной ответственности за нарушение правил плавания

№	Вопрос	Иллюстрация	Варианты ответа (правильный выделен)
ВП.1.3.1	На какой срок задерживается маломерное судно при совершении административного правонарушения?		<ul style="list-style-type: none"> <li>• На срок до рассмотрения дела об административном правонарушении</li> <li>• На срок до составления протокола об административном правонарушении</li> <li>• На срок до вступления постановления по делу об административном правонарушении в законную силу</li> <li>• На срок до устранения причины задержания</li> </ul>
ВП.1.3.2	Какой срок отводится Кодексом Российской Федерации об административных правонарушениях для уплаты административного штрафа?		<ul style="list-style-type: none"> <li>• 10 суток</li> <li>• 20 суток</li> <li>• 60 суток</li> <li>• 30 суток</li> </ul>
ВП.1.3.3	Какое административное наказание предусматривается за нарушение лицом, управляющим маломерным судном, правил маневрирования?		<ul style="list-style-type: none"> <li>• Административный штраф</li> <li>• Предупреждение</li> <li>• Предупреждение либо административный штраф</li> <li>• Предупреждение, либо административный штраф, либо лишение права управления маломерным судном на срок до шести месяцев</li> </ul>

<p>ВП.1.3.4</p>	<p>Какое административное наказание предусмотрено за управление маломерным судном, не зарегистрированным в установленном порядке?</p>		<ul style="list-style-type: none"> <li>• Предупреждение</li> <li>• Предупреждение либо административный штраф</li> <li>• Предупреждение, либо административный штраф, либо лишение права управления маломерным судном</li> <li>• Административный штраф</li> </ul>
<p>ВП.1.3.5</p>	<p>Какое административное наказание предусматривается за несоблюдение лицом, управляющим маломерным судном, установленной скорости?</p>		<ul style="list-style-type: none"> <li>• Административный штраф</li> <li>• Предупреждение</li> <li>• Предупреждение либо административный штраф</li> <li>• Предупреждение, либо административный штраф, либо лишение права управления маломерным судном на срок до шести месяцев</li> </ul>
<p>ВП.1.3.6</p>	<p>Какое административное наказание предусматривается за управление маломерным судном, судоводителем, не имеющем при себе судового билета?</p>		<ul style="list-style-type: none"> <li>• Предупреждение</li> <li>• Предупреждение либо административный штраф</li> <li>• Предупреждение, либо административный штраф, либо лишение права управления маломерным судном на срок до шести месяцев</li> <li>• Административный штраф</li> </ul>




<p>ВП.1.3.7</p>	<p>Какое административное наказание предусмотрено за управление маломерным судном судоводителем или иным лицом, находящимся в состоянии опьянения?</p>		<ul style="list-style-type: none"> <li>• Лишение прав управления маломерным судном</li> <li>• Предупреждение</li> <li>• Штраф</li> <li>• Штраф или лишение прав управления маломерным судном</li> </ul>
<p>ВП.1.3.8</p>	<p>Какое административное наказание предусматривается за несоблюдение лицом, управляющим маломерным судном, требований навигационных знаков?</p>		<ul style="list-style-type: none"> <li>• Административный штраф</li> <li>• Лишение права управления маломерным судном на срок до шести месяцев</li> <li>• Предупреждение</li> <li>• Одно из перечисленных</li> </ul>
<p>ВП.1.3.9</p>	<p>Какое административное наказание лица, управляющего маломерным судном, предусматривается за преднамеренную остановку или стоянку судна в запрещенных местах?</p>		<ul style="list-style-type: none"> <li>• Административный штраф</li> <li>• Предупреждение</li> <li>• Предупреждение либо административный штраф</li> <li>• Предупреждение, либо административный штраф, либо лишение права управления маломерным судном на срок до шести месяцев</li> </ul>






<p>ВП.1.3.10</p>	<p>В течение какого срока гражданин, в отношении которого вынесено административное наказание, имеет право обжаловать постановление по делу об административном правонарушении?</p>		<ul style="list-style-type: none"> <li>• 5 суток</li> <li>• 20 суток</li> <li>• 15 суток</li> <li>• 10 суток</li> </ul>
<p>ВП.1.3.11</p>	<p>В течение какого срока собственник маломерного судна обязан сообщить в орган государственной регистрации судна о любом изменении сведений, внесенных в реестр маломерных судов?</p>		<ul style="list-style-type: none"> <li>• В течение недели</li> <li>• В течение месяца</li> <li>• В течение трех недель</li> <li>• В течение двух недель</li> </ul>
<p>ВП.1.3.12</p>	<p>Кем выносится постановление о лишении права управления маломерным судном?</p>		<ul style="list-style-type: none"> <li>• Главным государственным инспектором по маломерным судам</li> <li>• Государственным инспектором по маломерным судам</li> <li>• Прокурором</li> <li>• Судьей</li> </ul>


<p>ВП.1.3.13</p>	<p>Какое административное наказание предусмотрено за превышение установленной скорости?</p>		<ul style="list-style-type: none"> <li>• Лишение права управления</li> <li>• Предупреждение</li> <li>• Штраф</li> <li>• Предупреждение или штраф, или лишение права управления</li> </ul>
<p>ВП.1.3.14</p>	<p>Какое административное наказание предусматривается за нарушение правил маневрирования?</p>		<ul style="list-style-type: none"> <li>• Административный штраф</li> <li>• Лишение прав управления маломерным судном</li> <li>• Предупреждение</li> <li>• Одно из перечисленных</li> </ul>
<p>ВП.1.3.15</p>	<p>Какое административное наказание предусмотрено за управление маломерным судном, не несущим бортовых номеров?</p>		<ul style="list-style-type: none"> <li>• Лишение права управления</li> <li>• Предупреждение или штраф</li> <li>• Предупреждение или штраф, или лишение права управления</li> <li>• Штраф</li> </ul>




<p>ВП.1.3.16</p>	<p>Какое административное наказание предусмотрено за преднамеренную остановку маломерного судна в запрещенном месте?</p>		<ul style="list-style-type: none"> <li>• Лишение права управления</li> <li>• Предупреждение</li> <li>• Штраф</li> <li>• Предупреждение или штраф, или лишение права управления</li> </ul>
<p>ВП.1.3.17</p>	<p>При совершении административного правонарушения, влекущего задержание маломерного судна, оно задерживается на время:</p>		<ul style="list-style-type: none"> <li>• До составления протокола об административном правонарушении</li> <li>• До вынесения постановления по делу об административном правонарушении</li> <li>• До исполнения постановления по делу об административном правонарушении</li> <li>• До устранения причины задержания</li> </ul>
<p>ВП.1.3.18</p>	<p>Какое административное наказание предусмотрено за передачу управления маломерным судном лицу, не имеющему на это права?</p>		<ul style="list-style-type: none"> <li>• Лишение права управления</li> <li>• Предупреждение</li> <li>• Предупреждение или штраф</li> <li>• Штраф</li> </ul>




<p>ВП.1.3.19</p>	<p>Какое административное наказание предусмотрено за управление маломерным судном с нарушением ограничений по району плавания?</p>		<ul style="list-style-type: none"> <li>• Предупреждение</li> <li>• Предупреждение или штраф, или лишение права управления</li> <li>• Штраф или лишение права управления</li> <li>• Штраф</li> </ul>
<p>ВП.1.3.20</p>	<p>Какое административное наказание предусмотрено за несоблюдение лицом, управляющим маломерным судном, установленной скорости?</p>		<ul style="list-style-type: none"> <li>• Административный штраф</li> <li>• Предупреждение</li> <li>• Предупреждение либо административный штраф</li> <li>• Предупреждение, либо административный штраф, либо лишение права управления маломерным судном на срок до шести месяцев</li> </ul>
<p>ВП.1.3.21</p>	<p>Какой срок отводится Кодексом Российской Федерации об административных правонарушениях для уплаты административного штрафа?</p>		<ul style="list-style-type: none"> <li>• 10 суток</li> <li>• 20 суток</li> <li>• 40 суток</li> <li>• 60 суток</li> </ul>

ВП.1.3.22	Какое административное наказание предусмотрено за управление маломерным судном с нарушением ограничений по условиям плавания?		<ul style="list-style-type: none"> <li>• Лишение права управления</li> <li>• Предупреждение или штраф</li> <li>• Предупреждение или штраф, или лишение права управления</li> <li>• Штраф</li> </ul>
ВП.1.3.23	Какое административное наказание предусмотрено за управление маломерным судном, не прошедшим технического освидетельствования?		<ul style="list-style-type: none"> <li>• Лишение права управления</li> <li>• Предупреждение</li> <li>• Предупреждение или штраф, или лишение права управления</li> <li>• Штраф</li> </ul>
ВП.1.3.24	Какое административное наказание предусмотрено за преднамеренную остановку или стоянку маломерного судна под судоходным пролетом моста?		<ul style="list-style-type: none"> <li>• Наказание не предусмотрено</li> <li>• Предупреждение или штраф</li> <li>• Штраф</li> <li>• Предупреждение или штраф, или лишение права управления</li> </ul>



<p>ВП.1.3.25</p>	<p>Какое административное наказание предусматривается за несоблюдение лицом, управляющим маломерным судном, требований навигационных знаков?</p>		<ul style="list-style-type: none"> <li>• Административный штраф</li> <li>• Лишение права управления маломерным судном</li> <li>• Предупреждение</li> <li>• Одно из вышеперечисленных</li> </ul>
<p>ВП.1.3.26</p>	<p>В течение какого времени судоводитель имеет право обжаловать постановление по делу об административном правонарушении со дня получения копии постановления?</p>		<ul style="list-style-type: none"> <li>• Двух недель</li> <li>• Одного месяца</li> <li>• Пяти дней</li> <li>• Десяти дней</li> </ul>
<p>ВП.1.3.27</p>	<p>За какое из перечисленных нарушений государственный инспектор по маломерным судам имеет право задержать маломерное судно и поместить его на специализированную стоянку для хранения?</p>		<ul style="list-style-type: none"> <li>• За нарушение правил маневрирования</li> <li>• За превышение установленной скорости</li> <li>• За передачу управления судном лицу, не имеющему права управления</li> <li>• За управление судном в состоянии опьянения</li> </ul>




ВП.1.3.28	За какое из перечисленных нарушений государственный инспектор по маломерным судам имеет право отстранить судоводителя от управления и поместить маломерное судно на стоянку и хранение?		<ul style="list-style-type: none"> <li>• За нарушение правил погрузки и разгрузки маломерных судов</li> <li>• За управление судном, не прошедшим технического освидетельствования</li> <li>• За нарушение правил обеспечения безопасности пассажиров в пути следования</li> <li>• За управление маломерным судном без удостоверения на право управления, судового билета или его копии, заверенной в установленном порядке</li> </ul>
ВП.1.3.29	Какое административное наказание предусмотрено за эксплуатацию маломерного судна, у которого содержание загрязняющих веществ в выбросах превышает установленные государственными стандартами нормативы?		<ul style="list-style-type: none"> <li>• Наказания не предусмотрено</li> <li>• Лишение права управления</li> <li>• Предупреждение или штраф</li> <li>• Штраф</li> </ul>
ВП.1.3.30	Какое административное наказание предусмотрено за утерю или утрату судового билета маломерного судна?		<ul style="list-style-type: none"> <li>• Предупреждение</li> <li>• Предупреждение или штраф</li> <li>• Штраф</li> <li>• Наказание не предусмотрено</li> </ul>

<p>ВП.1.3.31</p>	<p>Какое административное наказание предусмотрено за преднамеренную остановку или стоянку судна в запрещенных местах?</p>		<ul style="list-style-type: none"> <li>• Административный штраф</li> <li>• Предупреждение</li> <li>• Предупреждение либо административный штраф</li> <li>• Предупреждение, либо административный штраф, либо лишение права управления маломерным судном на срок до шести месяцев</li> </ul>
<p>ВП.1.3.32</p>	<p>Какое административное наказание предусмотрено за утерю или утрату удостоверения на право управления маломерным судном?</p>		<ul style="list-style-type: none"> <li>• Предупреждение</li> <li>• Предупреждение или штраф</li> <li>• Штраф</li> <li>• Наказание не предусмотрено</li> </ul>
<p>ВП.1.3.33</p>	<p>Какое административное наказание предусматривается за управление маломерным судном, не зарегистрированным в установленном порядке?</p>		<ul style="list-style-type: none"> <li>• Предупреждение</li> <li>• Предупреждение либо административный штраф</li> <li>• Предупреждение, либо административный штраф, либо лишение права управления маломерным судном</li> <li>• Административный штраф</li> </ul>




<p>ВП.1.3.34</p>	<p>Какое административное наказание предусмотрено за управление судном судоводителем или иным лицом, находящимся в состоянии опьянения?</p>		<ul style="list-style-type: none"> <li>• Лишение права управления маломерным судном</li> <li>• Предупреждение</li> <li>• Штраф</li> <li>• Штраф или лишение прав управления маломерным судном</li> </ul>
<p>ВП.1.3.35</p>	<p>Какое административное наказание предусмотрено за передачу управления маломерным судном лицу, не имеющему при себе удостоверения на право управления маломерным судном?</p>		<ul style="list-style-type: none"> <li>• Наказание не предусмотрено</li> <li>• Предупреждение</li> <li>• Штраф</li> <li>• Предупреждение или штраф</li> </ul>
<p>ВП.1.3.36</p>	<p>Какое административное наказание предусмотрено за управление маломерным судном судоводителю, не имеющему при себе судового билета маломерного судна или его копии, заверенной в установленном порядке, а равно документов, подтверждающих право владения, пользования или распоряжения управляемым им судном в отсутствие владельца?</p>		<ul style="list-style-type: none"> <li>• Наказание не предусмотрено</li> <li>• Предупреждение</li> <li>• Штраф</li> <li>• Предупреждение или штраф</li> </ul>









ВП.1.4. Вопросы эксплуатации маломерных судов и управления ими

No	Вопрос	Иллюстрация	Варианты ответа (правильный выделен)
ВП.1.4.1	При каком условии можно перевозить на маломерном судне детей дошкольного возраста?		<ul style="list-style-type: none"> <li>• В сопровождении взрослого, не связанного с управлением гидроцикла</li> <li>• При наличии одетого на ребенка спасательного жилета</li> <li>• Если ребенок умеет плавать</li> <li>• Нельзя ни при каких условиях</li> </ul>
ВП.1.4.2	При каком условии маломерному судну можно заходить и маневрировать на акватории пляжей?		<ul style="list-style-type: none"> <li>• Только на самом малом ходу</li> <li>• Только для высадки на берег пассажиров</li> <li>• Если в непосредственной близости от судна нет купающихся людей</li> <li>• Ни при каких условиях</li> </ul>
ВП.1.4.3	Кто допускается к управлению маломерным судном?		<ul style="list-style-type: none"> <li>• Лицо, имеющее действительный диплом на право занятия судоводительской должности</li> <li>• Лицо, имеющее справку об окончании курсов подготовки судоводителей маломерных судов</li> <li>• Любой совершеннолетний гражданин Российской Федерации</li> <li>• Лицо, имеющее действующее удостоверение на право управления маломерным судном</li> </ul>



<p>ВП.1.4.4</p>	<p>Какой из маневров на моторной лодке "А" является наиболее эффективным, чтобы уступить дорогу катеру "Б"?</p>		<ul style="list-style-type: none"> <li>• Сделать оборот через левый борт</li> <li>• Повернуть влево на 10 град</li> <li>• Повернуть вправо на 10 град</li> <li>• Уменьшить скорость и повернуть под корму катера "Б"</li> </ul>
<p>ВП.1.4.5</p>	<p>Какому из маломерных судов должно уступить дорогу маломерное судно "А"?</p>		<ul style="list-style-type: none"> <li>• В</li> <li>• Обоим судам</li> <li>• Ни одному из судов</li> <li>• Б</li> </ul>
<p>ВП.1.4.6</p>	<p>Какому из маломерных судов должно уступить дорогу маломерное судно "Б"?</p>		<ul style="list-style-type: none"> <li>• Б</li> <li>• А и В</li> <li>• Никакому</li> <li>• В</li> </ul>

<p>ВП.1.4.7</p>	<p>В каких случаях моторное маломерное судно должно уступить дорогу гребной лодке?</p>		<ul style="list-style-type: none"> <li>• Если гребная лодка находится слева</li> <li>• Если гребная лодка находится справа</li> <li>• Если гребная лодка находится по курсу</li> <li>• Во всех случаях</li> </ul>
<p>ВП.1.4.8</p>	<p>Какие действия должен предпринять судоводитель маломерного судна "А" для безопасного расхождения?</p>		<ul style="list-style-type: none"> <li>• Застопорить ход и остановиться</li> <li>• Изменить курс влево</li> <li>• Следовать прежним курсом</li> <li>• Изменить курс вправо</li> </ul>
<p>ВП.1.4.9</p>	<p>Какие действия должны предпринять судоводители маломерных моторных судов "А" и "Б" для безопасного расхождения при встречном движении (плавании)?</p>		<ul style="list-style-type: none"> <li>• Должны изменить курс влево</li> <li>• "А" должен повернуть вправо, а "Б" - влево</li> <li>• "А" должен повернуть влево, а "Б" - вправо</li> <li>• Должны изменить курс вправо</li> </ul>

<p>ВП.1.4.10</p>	<p>Как должны расходиться изображенные на иллюстрации суда?</p>		<ul style="list-style-type: none"> <li>• Катер "А" должен уступить дорогу "Б"</li> <li>• Парусно-моторное судно "Б" должно уступить дорогу "А"</li> <li>• Правыми бортами</li> <li>• Левыми бортами</li> </ul>
<p>ВП.1.4.11</p>	<p>В каком из перечисленных случаев маломерному судну разрешается маневрировать на акватории пляжа?</p>		<ul style="list-style-type: none"> <li>• Только на самом малом ходу</li> <li>• Только с принятием всех необходимых мер предосторожности</li> <li>• Если в непосредственной близости от судна нет купающихся людей</li> <li>• Ни в одном из перечисленных случаев не разрешается</li> </ul>
<p>ВП.1.4.12</p>	<p>В чьи обязанности входит проведение инструктажа пассажиров по правилам поведения на маломерном судне во время плавания?</p>		<ul style="list-style-type: none"> <li>• Государственного инспектора по маломерным судам</li> <li>• Должностного лица базы (сооружения) для стоянки маломерных судов</li> <li>• Судовладельца</li> <li>• Судоводителя</li> </ul>




<p>ВП.1.4.13</p>	<p>Какие документы во время плавания должен иметь при себе судоводитель моторного маломерного судна, если он сам управляет этим судном?</p>		<ul style="list-style-type: none"> <li>• Удостоверение на право управления</li> <li>• Акт технического освидетельствования</li> <li>• Судовой билет (или его копию)</li> <li>• Судовой билет (или его заверенную копию) и удостоверение на право управления</li> </ul>
<p>ВП.1.4.14</p>	<p>Какие документы во время плавания должен иметь при себе судоводитель маломерного судна, если он не является владельцем этого судна?</p>		<ul style="list-style-type: none"> <li>• Удостоверение на право управления и акт технического освидетельствования</li> <li>• Судовой билет и документ на право пользования судном</li> <li>• Судовой билет (или его копию) и удостоверение на право управления</li> <li>• Судовой билет (или его заверенную копию), удостоверение на право управления и документ на право пользования судном</li> </ul>
<p>ВП.1.4.15</p>	<p>При каких условиях разрешается пересадка людей с одного судна на другое во время движения?</p>		<ul style="list-style-type: none"> <li>• При отсутствии ветра и волнения</li> <li>• При отсутствии ветра и волнения с обязательно надетым на пересаживаемого человека спасательным жилетом</li> <li>• Если по условиям плавания нет возможности остановить суда</li> <li>• Пересадка во время движения запрещена во всех случаях</li> </ul>



ВП.1.4.16	При наличии какой из перечисленных неисправностей пользование маломерным судном запрещается?		<ul style="list-style-type: none"> <li>• Наличие вибрации</li> <li>• Наличие утечек топлива</li> <li>• Повреждение системы дистанционного управления двигателем</li> <li>• При любой из перечисленных</li> </ul>
ВП.1.4.17	При наличии какой из перечисленных неисправностей пользование маломерным судном запрещается?		<ul style="list-style-type: none"> <li>• Ненадежное крепление кнехтов</li> <li>• При любой из перечисленных</li> <li>• Отсутствие или неисправность ленточного или винтового стопора для удержания якорной цепи</li> <li>• Разгерметизация гермоотсеков или воздушных ящиков</li> </ul>
ВП.1.4.18	При наличии какой из перечисленных неисправностей пользование маломерным судном запрещается?		<ul style="list-style-type: none"> <li>• Наличие вибрации</li> <li>• Разгерметизация воздушных ящиков</li> <li>• Несоответствие нормам комплектации и оборудования судна, указанным в судовом билете</li> <li>• При любой из перечисленных</li> </ul>









ВП.1.4.19	При наличии какой из перечисленных неисправностей пользование маломерным судном запрещается?		<ul style="list-style-type: none"> <li>• Повреждение леерного ограждения</li> <li>• При любой из перечисленных</li> <li>• Отсутствие или неисправность ленточного или винтового стопора для удержания якорной цепи</li> <li>• Неисправность отличительных (бортовых) огней</li> </ul>
ВП.1.4.20	При наличии какой из перечисленных неисправностей пользование маломерным судном запрещается?		<ul style="list-style-type: none"> <li>• Ненадежное крепление планширя</li> <li>• При любой из перечисленных</li> <li>• Отсутствие или неисправность штормовых портиков в фальшборте</li> <li>• Отсутствие или неисправность глушителя</li> </ul>
ВП.1.4.21	При наличии какой из перечисленных неисправностей пользование маломерным судном запрещается?		<ul style="list-style-type: none"> <li>• Наличие сквозных пробоин корпуса судна выше ватерлинии</li> <li>• Несоответствие отличительных (бортовых) огней установленным требованиям</li> <li>• Неисправность блокировки запуска двигателя (мотора) при включении реверса</li> <li>• При любой из перечисленных</li> </ul>

<p>ВП.1.4.22</p>	<p>Какой орган может отменить право собственности на маломерное судно, зарегистрированное в судовой книге?</p>		<ul style="list-style-type: none"> <li>• Прокуратура</li> <li>• Прокуратура или суд</li> <li>• Вышестоящий орган ГИМС</li> <li>• Суд</li> </ul>
<p>ВП.1.4.23</p>	<p>В течение какого срока действует удостоверение на право управления маломерным судном с момента его выдачи?</p>		<ul style="list-style-type: none"> <li>• 5 лет</li> <li>• 15 лет</li> <li>• Бессрочно</li> <li>• 10 лет</li> </ul>
<p>ВП.1.4.24</p>	<p>Как должно осуществляться маневрирование маломерных судов при расхождении на водных объектах, не имеющих навигационной обстановки?</p>		<ul style="list-style-type: none"> <li>• С учетом направления течения</li> <li>• С учетом левостороннего движения</li> <li>• Порядок расхождения не установлен</li> <li>• С учетом правостороннего движения</li> </ul>

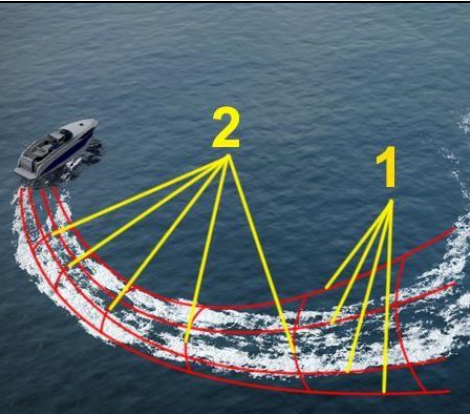
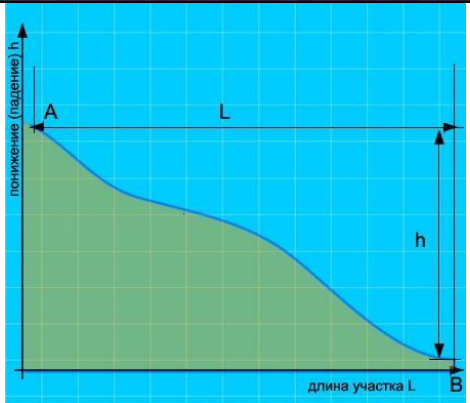

<p>ВП.1.4.25</p>	<p>Какие из перечисленных документов судоводители маломерных судов обязаны предъявлять для проверки государственному инспектору по маломерным судам?</p>		<ul style="list-style-type: none"> <li>• Удостоверение на право управления</li> <li>• Документ на право пользования судном при отсутствии на борту собственника или владельца судна</li> <li>• Судовой билет или его заверенную копию</li> <li>• Все перечисленные</li> </ul>
------------------	--	---	---




**ВП.2. Основы навигации и радиосвязи в районе плавания**



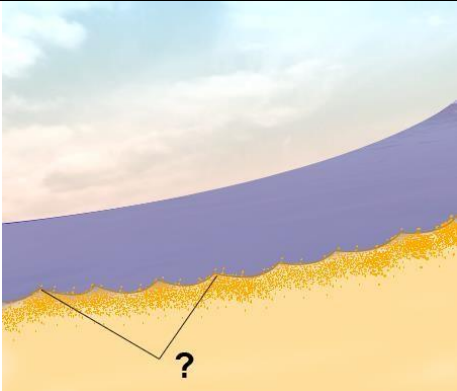
№	Вопрос	Иллюстрация	Варианты ответа (правильный выделен)
ВП.2.1	Как называется место начала реки?		<ul style="list-style-type: none"> <li>• Воложка</li> <li>• Протока</li> <li>• Стрежень</li> <li>• Исток</li> </ul>
ВП.2.2	Под каким номером на рисунке обозначен урез воды?		<ul style="list-style-type: none"> <li>• 1</li> <li>• 2</li> <li>• 4</li> <li>• 3</li> </ul>
ВП.2.3	Как называется невысокий обрывистый, как правило, вогнутый берег?		<ul style="list-style-type: none"> <li>• Обрыв</li> <li>• Овраг</li> <li>• Пески</li> <li>• Яр</li> </ul>




ВП.2.4	Как называется крутой и короткий изгиб русла в пределах долины реки?		<ul style="list-style-type: none"> <li>• Извилина</li> <li>• Излучина</li> <li>• Лука</li> <li>• Колено</li> </ul>
ВП.2.5	Как называется длинный изгиб русла вместе с долиной реки?		<ul style="list-style-type: none"> <li>• Излучина</li> <li>• Колено</li> <li>• Лука</li> <li>• Извилина</li> </ul>
ВП.2.6	Как называется столкновение струй двух водных потоков (слияние рукавов)?		<ul style="list-style-type: none"> <li>• Взброс</li> <li>• Толчая</li> <li>• Прибой</li> <li>• Спорные воды</li> </ul>






<p>ВП.2.7</p>	<p>Как называются судовые волны, обозначенные на рисунке под номерами "1" и "2"?</p>		<ul style="list-style-type: none"> <li>• Бортовые (1) и кормовые (2)</li> <li>• Носовые (1) и бортовые (2)</li> <li>• Продольные (1) и бортовые (2)</li> <li>• Расходящиеся (1) и поперечные (2) кормовые</li> </ul>
<p>ВП.2.8</p>	<p>Какая зависимость между продольным уклоном поверхности воды и скоростью течения воды в реке?</p>		<ul style="list-style-type: none"> <li>• Скорость течения возрастает с уменьшением продольного уклона</li> <li>• Скорость течения уменьшается с увеличением продольного уклона</li> <li>• Скорость течения не зависит от продольного уклона поверхности воды в реке</li> <li>• Скорость течения возрастает с увеличением продольного уклона</li> </ul>
<p>ВП.2.9</p>	<p>Как называется течение, которое создается у берега на участках, где слив воды направлен к берегу, и вызывает раскат судов в сторону берега?</p>		<ul style="list-style-type: none"> <li>• Затяжное</li> <li>• Раскатное</li> <li>• Свальное</li> <li>• Прижимное</li> </ul>

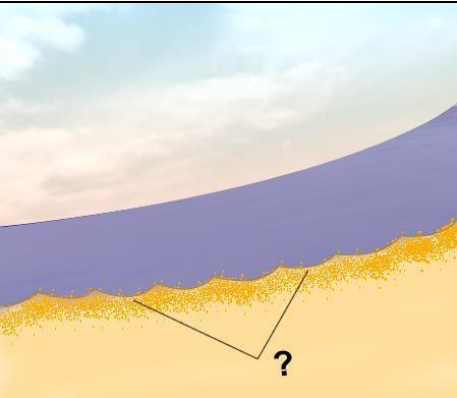


<p>ВП.2.10</p>	<p>Как называется вращательное движение воды в реке, возникающее, как правило, за выступами берегов, мысами, выпуклыми берегами, мостовыми опорами, дамбами?</p>		<ul style="list-style-type: none"> <li>• Майдан</li> <li>• Водоворот</li> <li>• Бурун</li> <li>• Суводь</li> </ul>
<p>ВП.2.11</p>	<p>Как называется неправильное течение, которое представляет собой слив воды, направленный под углом к судовому ходу, и возникающее из-за разности в уровнях воды по ширине реки?</p>		<ul style="list-style-type: none"> <li>• Затяжное</li> <li>• Спорное</li> <li>• Прижимное</li> <li>• Свальное</li> </ul>
<p>ВП.2.12</p>	<p>Как называется неправильное (беспорядочное) вращательное течение в реке, вызываемое либо столкновением струй двух водных потоков (спорными водами), либо наличием на дне реки крупных предметов?</p>		<ul style="list-style-type: none"> <li>• Майдан</li> <li>• Взбросы</li> <li>• Толчея</li> <li>• Суводь</li> </ul>




<p>ВП.2.13</p>	<p>Какой из этих изгибов реки называется "лука"?</p>		<ul style="list-style-type: none"> <li>• а)</li> <li>• б)</li> <li>• в)</li> <li>• г)</li> </ul>
<p>ВП.2.14</p>	<p>Как называется подводный глинистый выступ?</p>		<ul style="list-style-type: none"> <li>• Шалыга</li> <li>• Опечка</li> <li>• Осередок</li> <li>• Печина</li> </ul>
<p>ВП.2.15</p>	<p>Как называется скопление наносов, отложенных в виде подводной гряды по ширине русла?</p>		<ul style="list-style-type: none"> <li>• Коса</li> <li>• Порог</li> <li>• Отмель</li> <li>• Перекат</li> </ul>




<p>ВП.2.16</p>	<p>Как называется вращательное движение воды за подводным или надводным выступом?</p>		<ul style="list-style-type: none"> <li>• Майдан</li> <li>• Водоворот</li> <li>• Сулои</li> <li>• Суводь</li> </ul>
<p>ВП.2.17</p>	<p>Как называется наносное (без растительности) образование в русле, омываемое водой со всех сторон?</p>		<ul style="list-style-type: none"> <li>• Заманиха</li> <li>• Заплесок</li> <li>• Заструга</li> <li>• Осередок</li> </ul>
<p>ВП.2.18</p>	<p>Как называется клиновидное отложение наносов, образованное у выпуклого берега и расположенное под углом к нему вниз по течению?</p>		<ul style="list-style-type: none"> <li>• Заманиха</li> <li>• Заструга</li> <li>• Гряда</li> <li>• Коса</li> </ul>




ВП.2.19	Как называется песчаная отмель – бугор в русле реки?	 A photograph of a sailboat with a blue and white sail, positioned on a large, dark, rounded sandbar in the middle of a river. The water is calm, and the sky is overcast.	<ul style="list-style-type: none"> <li>• Огрудок</li> <li>• Лещадь</li> <li>• Печина</li> <li>• Шалыга</li> </ul>
ВП.2.20	Как называется одиночный камень больших размеров в русле реки?	 A photograph of a river flowing through a green, hilly landscape. A large, dark, rounded rock is visible in the river, marked with a white question mark.	<ul style="list-style-type: none"> <li>• Шалыга</li> <li>• Осередок</li> <li>• Перекат</li> <li>• Одинец</li> </ul>
ВП.2.21	Как называется небольшое обособленное скопление камней недалеко от берега?	 A photograph of a river flowing through a green, hilly landscape. A small, yellowish, rounded rock cluster is visible in the river, marked with a white question mark.	<ul style="list-style-type: none"> <li>• Шалыга</li> <li>• Осередок</li> <li>• Огрудки</li> <li>• Одинец</li> </ul>






ВП.2.22	Как называется глубоководный участок реки между двумя перекатами?		<ul style="list-style-type: none"> <li>• Рейд</li> <li>• Ложбина</li> <li>• Стрежень</li> <li>• Плёс</li> </ul>
ВП.2.23	Как называется большое скопление камней в русле либо каменная коса?		<ul style="list-style-type: none"> <li>• Шалыга</li> <li>• Огрудок</li> <li>• Печина</li> <li>• Гряда</li> </ul>
ВП.2.24	Как называется часть речной долины, затапливаемая при половодье (1 и 2)?		<ul style="list-style-type: none"> <li>• Затон</li> <li>• Воложка</li> <li>• Протока</li> <li>• Пойма</li> </ul>

<p>ВП.2.25</p>	<p>Как называется старое русло, спрямленное новым руслом и изолированное от него?</p>		<ul style="list-style-type: none"> <li>• Воложка</li> <li>• Пойма</li> <li>• Рукав</li> <li>• Старица</li> </ul>
<p>ВП.2.26</p>	<p>Как называется часть реки, которая образовалась при разделении русла островом?</p>		<ul style="list-style-type: none"> <li>• Пойма</li> <li>• Протока</li> <li>• Старица</li> <li>• Рукав</li> </ul>
<p>ВП.2.27</p>	<p>Как называется течение из главного русла, направляющееся в боковые протоки у их входов?</p>		<ul style="list-style-type: none"> <li>• Свальное</li> <li>• Боковое</li> <li>• Прижимное</li> <li>• Затяжное</li> </ul>

<p>ВП.2.28</p>	<p>Как называется выработанное речным потоком ложе, по которому осуществляется сток воды при самых низких уровнях?</p>		<ul style="list-style-type: none"> <li>• Плес</li> <li>• Пойма</li> <li>• Старица</li> <li>• Русло</li> </ul>
<p>ВП.2.29</p>	<p>Как называется участок земной поверхности, ограничивающий долину реки с боков?</p>		<ul style="list-style-type: none"> <li>• Левая пойма</li> <li>• Приток</li> <li>• Затон</li> <li>• Коренной берег</li> </ul>
<p>ВП.2.30</p>	<p>Как называется часть старого русла, соединенное с действующим?</p>		<ul style="list-style-type: none"> <li>• Левая пойма</li> <li>• Приток</li> <li>• Правая пойма</li> <li>• Затон</li> </ul>

<p>ВП.2.31</p>	<p>Как называется условная линия, соединяющая на водной поверхности реки точки с наибольшей глубиной русла и максимальными скоростями течения?</p>		<ul style="list-style-type: none"> <li>• Перевал</li> <li>• Ход</li> <li>• Ось</li> <li>• Стрежень</li> </ul>
<p>ВП.2.32</p>	<p>Как называется водный поток, вливающийся в реку?</p>		<ul style="list-style-type: none"> <li>• Побочень</li> <li>• Рукав</li> <li>• Ручей</li> <li>• Приток</li> </ul>
<p>ВП.2.33</p>	<p>Как называется часть реки, образованная при разделении русла островом?</p>		<ul style="list-style-type: none"> <li>• Прорва</li> <li>• Затон</li> <li>• Старица</li> <li>• Рукав</li> </ul>

ВП.2.34	Как называется движение двух судов, двигающихся навстречу друг другу?		<ul style="list-style-type: none"> <li>• Контрплавание</li> <li>• Осевое плавание</li> <li>• Курсовое плавание</li> <li>• Встречное плавание</li> </ul>
ВП.2.35	Выберите правильное определение термина «пеленг»		<ul style="list-style-type: none"> <li>• угол между направлением на север и направлением на объект</li> <li>• угол между направлением на север и диаметральной плоскостью судна</li> <li>• угол между диаметральной плоскостью судна и направлением на объект</li> <li>• угол между курсом судна и направлением на объект</li> </ul>
ВП.2.36	Как называется угол между северным направлением меридиана и диаметральной плоскостью судна по направлению его движения?		<ul style="list-style-type: none"> <li>• пеленг</li> <li>• курсовой угол</li> <li>• курс</li> <li>• магнитный курс</li> </ul>





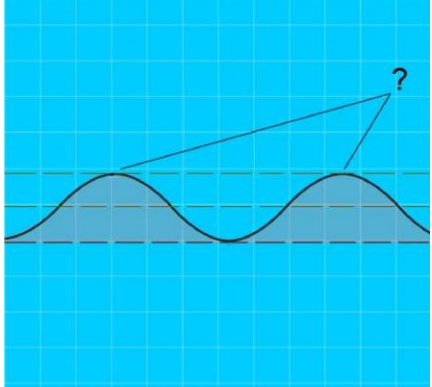
ВП.2.37	Выберите правильное определение термина «курсовой угол»	?	<ul style="list-style-type: none"> <li>• угол между направлением на север и направлением на объект</li> <li>• угол между направлением на север и диаметральной плоскостью судна</li> <li>• угол между диаметральной плоскостью судна и направлением на объект</li> <li>• угол между курсом судна и направлением на объект</li> </ul>
ВП.2.38	Для чего из перечисленного ниже используется магнитный компас?	?	<ul style="list-style-type: none"> <li>• Измерение скорости и расстояния до пункта назначения</li> <li>• Снятие пеленга на объект</li> <li>• Определение расстояния от объекта</li> <li>• Для всего вышеперечисленного</li> </ul>
ВП.2.39	Как называется угловая разница между направлением на истинный север и направлением на магнитный север?	?	<ul style="list-style-type: none"> <li>• Магнитное склонение</li> <li>• Девиация</li> <li>• Угловое склонение</li> <li>• Демаркация</li> </ul>

ВП.2.40	Как называется отклонение стрелки компаса от магнитного севера под влиянием внешних магнитных полей?	?	<ul style="list-style-type: none"> <li>• Магнитное склонение</li> <li>• Девиация</li> <li>• Угловое склонение</li> <li>• Демаркация</li> </ul>
ВП.2.41	Как называется направление на географический северный полюс?	?	<ul style="list-style-type: none"> <li>• магнитный север</li> <li>• истинный север</li> <li>• север по компасу</li> <li>• полюсный север</li> </ul>
ВП.2.42	Как называется угол между диаметральной плоскостью судна и направлением на истинный север?	?	<ul style="list-style-type: none"> <li>• курс</li> <li>• компасный курс</li> <li>• истинный курс</li> <li>• магнитный курс</li> </ul>

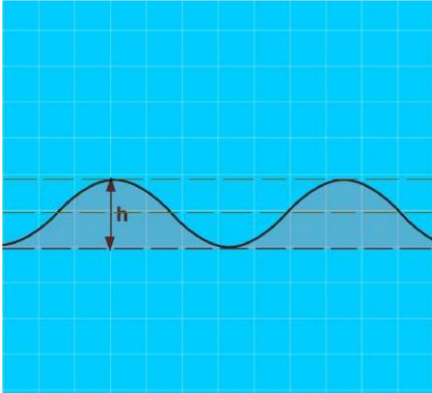


ВП.2.43	Как называется угол между диаметральной плоскостью судна и направлением на магнитный север?	?	<ul style="list-style-type: none"> <li>• курс</li> <li>• компасный курс</li> <li>• истинный курс</li> <li>• магнитный курс</li> </ul>
ВП.2.44	Как называется отклонение движущегося судна от курса под влиянием ветра?	?	<ul style="list-style-type: none"> <li>• дрейф</li> <li>• дифферент</li> <li>• крен</li> <li>• слеминг</li> </ul>
ВП.2.45	Как называется отклонение движущегося судна от курса под влиянием течения?	?	<ul style="list-style-type: none"> <li>• дрейф</li> <li>• дифферент</li> <li>• снос</li> <li>• слеминг</li> </ul>

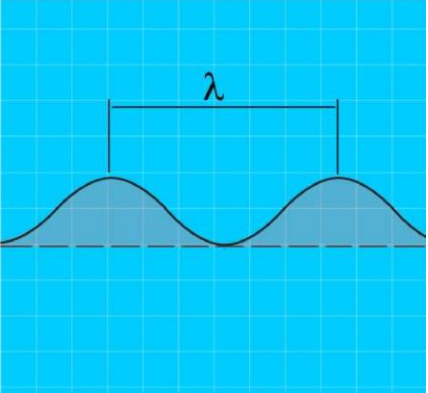


ВП.2.46	Как называется местоположение судна, полученное путем обработки результатов визуальных наблюдений различных ориентиров, положение которых известно?	?	<ul style="list-style-type: none"> <li>• обсервованное</li> <li>• счислимое</li> <li>• истинное</li> <li>• расчетное</li> </ul>
ВП.2.47	Пеленг на какой из объектов необходимо взять в последнюю очередь при определении места судна?	?	<ul style="list-style-type: none"> <li>• на объект, находящийся по носу</li> <li>• на объект, находящийся по корме</li> <li>• на объект, находящийся на траверзе</li> <li>• на любой из перечисленных</li> </ul>



### ВП.3. Основы метеорологии в районе плавания




№	Вопрос	Иллюстрация	Варианты ответа (правильный выделен)
ВП.3.1	Что измеряет барометр-анероид?		<ul style="list-style-type: none"> <li>• Температуру воды</li> <li>• Силу ветра</li> <li>• Влажность воздуха</li> <li>• Атмосферное давление</li> </ul>
ВП.3.2	Что измеряется ручным анемометром?		<ul style="list-style-type: none"> <li>• Направление ветра</li> <li>• Скорость течения</li> <li>• Атмосферное давление</li> <li>• Скорость ветра</li> </ul>
ВП.3.3	Как называется наивысшая точка волнового профиля?		<ul style="list-style-type: none"> <li>• Взброс</li> <li>• Подошва</li> <li>• Высота</li> <li>• Гребень</li> </ul>



ВП.3.4	Как называется расстояние (h) от подошвы до гребня волны?		<ul style="list-style-type: none"> <li>• Период волны</li> <li>• Диаметр волны</li> <li>• Длина волны</li> <li>• Высота волны</li> </ul>
ВП.3.5	Как называется ветер, дующий в сторону берега?		<ul style="list-style-type: none"> <li>• Прижимной</li> <li>• Прибрежный</li> <li>• Привальный</li> <li>• Навальный</li> </ul>
ВП.3.6	Как называется разновидность тумана при видимости от 1 до 10 км?		<ul style="list-style-type: none"> <li>• Мгла</li> <li>• Рефракция</li> <li>• Морось</li> <li>• Дымка</li> </ul>

<p>ВП.3.7</p>	<p>Как называется расстояние между гребнями или подошвами двух смежных волн?</p>		<ul style="list-style-type: none"> <li>• Бег волны</li> <li>• Период волны</li> <li>• Высота волны</li> <li>• Длина волны</li> </ul>
<p>ВП.3.8</p>	<p>Как называется область с повышенным давлением, которое понижается от центра к периферии?</p>		<ul style="list-style-type: none"> <li>• Циклон</li> <li>• Шторм</li> <li>• Штиль</li> <li>• Антициклон</li> </ul>
<p>ВП.3.9</p>	<p>Признаком какого изменения погоды является резкое падение атмосферного давления?</p>		<ul style="list-style-type: none"> <li>• Изменения направления ветра</li> <li>• Улучшения погоды</li> <li>• Устойчивой хорошей погоды</li> <li>• Приближения шторма</li> </ul>

ВП.3.10	Как называется явление скопления микроскопических капелек воды в нижних слоях атмосферы?		<ul style="list-style-type: none"> <li>• Мгла</li> <li>• Морось</li> <li>• Дымка</li> <li>• Туман</li> </ul>
ВП.3.11	Как называется интенсивное (при забрызгивании) нарастание слоя льда на палубе, фальшборте, надстройках, рангоуте и палубных судовых устройствах?		<ul style="list-style-type: none"> <li>• Замораживание</li> <li>• Наледь</li> <li>• Обмораживание</li> <li>• Обледенение</li> </ul>
ВП.3.12	Как называется ветер, дующий против течения реки?		<ul style="list-style-type: none"> <li>• Верховой</li> <li>• Бриз</li> <li>• Встречный</li> <li>• Низовой</li> </ul>

ВП.3.13	Как называется прибор для наблюдения за изменениями атмосферного давления и графической записи показаний?		<ul style="list-style-type: none"> <li>• Барометр</li> <li>• Гидролокатор</li> <li>• Анемометр</li> <li>• Барограф</li> </ul>
ВП.3.14	Какую погоду следует ожидать при резком падении атмосферного давления и появлении перистокучевых облаков?		<ul style="list-style-type: none"> <li>• Изменение направления ветра</li> <li>• Усиления дождя</li> <li>• Ухудшение погоды через 6-10 часов</li> <li>• Грозу и шторм через 1-2 часа</li> </ul>
ВП.3.15	Укажите единицу измерения силы ветра.		<ul style="list-style-type: none"> <li>• м/сек;</li> <li>• км/час;</li> <li>• балл;</li> <li>• градус.</li> </ul>

ВП.3.16	Что означает выражение «Шторм 9 баллов»?	?	<ul style="list-style-type: none"> <li>• волна высотой 9 метров;</li> <li>• ветер скоростью 9 м/сек;</li> <li>• ветер скоростью 9 км/час;</li> <li>• ветер силой 9 баллов.</li> </ul>
ВП.3.17	Как называется ветер, при котором воздух перемещается с запада на восток?	?	<ul style="list-style-type: none"> <li>• Западный;</li> <li>• Восточный;</li> <li>• Северный;</li> <li>• Южный.</li> </ul>
ВП.3.18	Какое название носят приливы, имеющие две полные и две малые воды в течение лунных суток?	?	<ul style="list-style-type: none"> <li>• полусуточные;</li> <li>• суточные;</li> <li>• сизигийные;</li> <li>• квадратурные.</li> </ul>



ВП.3.19	Какое название носят приливы, имеющие одну полную и одну малую воду в течение суток?	?	<ul style="list-style-type: none"> <li>• полусуточные;</li> <li>• суточные;</li> <li>• сизигийные;</li> <li>• квадратурные.</li> </ul>
ВП.3.20	Какое название носят приливы, которые наблюдаются в дни новолуния и полнолуния?	?	<ul style="list-style-type: none"> <li>• полусуточные;</li> <li>• суточные;</li> <li>• сизигийные;</li> <li>• квадратурные.</li> </ul>
ВП.3.21	Какое название носят приливы, которые наблюдаются в дни первой и последней четвертей луны?	?	<ul style="list-style-type: none"> <li>• полусуточные;</li> <li>• суточные;</li> <li>• сизигийные;</li> <li>• квадратурные.</li> </ul>

ВП.3.22	Где будет находиться область высокого давления по отношению к человеку, стоящему спиной к ветру в северном полушарии?	?	<ul style="list-style-type: none"> <li>• впереди;</li> <li>• справа,</li> <li>• слева,</li> <li>• со стороны спины</li> </ul>
ВП.3.23	Как называется ветер, который дует днем с моря на сушу, а ночью с суши на море?	?	<ul style="list-style-type: none"> <li>• пассат;</li> <li>• бора;</li> <li>• бриз;</li> <li>• муссон.</li> </ul>
ВП.3.24	По какой шкале производится визуальная оценка силы ветра?	?	<ul style="list-style-type: none"> <li>• Саффира – Симпсона</li> <li>• Бофорта</li> <li>• Цельсия</li> <li>• Кельвина</li> </ul>