
















ВВП.1.1. Нормативные правовые акты Российской Федерации, регулирующие безопасность судоходства

№	Вопрос	Иллюстрация	Варианты ответа (правильный выделен)
ВВП.1.1.1	Что означает сигнал - горизонтальное движение флагом - отماشкой, подаваемый с патрульного судна ГИМС?		<ul style="list-style-type: none"> • "Подойдите к моему борту" • "Прошу лечь на обратный курс" • "Проходите по борту со стороны отмашки" • "Прошу остановить судно"
ВВП.1.1.2	Какое движение флага-отмашки днем означает сигнал "Прошу остановиться"?		<ul style="list-style-type: none"> • Вертикальное • Вращательное • Любое • Горизонтальное
ВВП.1.1.3	В каком случае требуется заключение договора водопользования для плавания на маломерном судне?		<ul style="list-style-type: none"> • Если мощность двигателя маломерного судна более 55 кВт (75 л.с.) • Если на одного владельца зарегистрировано два и более маломерных судов • Если судовладелец использует судно для рыболовства, рыбоводства или охоты • Таких случаев законодательством не предусмотрено




ВВП.1.1.4	При какой мощности подвесного лодочного мотора (двигателя) маломерное судно массой более 200 кг подлежит государственной регистрации?		<ul style="list-style-type: none"> • Более 3,68 кВт • Более 5 кВт • Более 8 кВт • Более 10 кВт
ВВП.1.1.5	В каком из перечисленных случаев государственный инспектор по маломерным судам имеет право использовать суда, принадлежащие гражданам?		<ul style="list-style-type: none"> • Для следования к месту работы • Для транспортировки судна нарушителя • Для доставки нарушителей на медицинское обследование • Для доставки в лечебные учреждения пострадавших людей
ВВП.1.1.6	В течение какого срока собственник маломерного судна обязан сообщить в орган государственной регистрации судна о любом изменении сведений, внесенных в судовую книгу?		<ul style="list-style-type: none"> • В течение недели • В течение месяца • В течение трех недель • В течение двух недель


ВВП.1.1.7	Какова периодичность проведения очередного освидетельствования маломерного судна?		<ul style="list-style-type: none"> • Один раз в 5 лет • Один раз в 2 года • Один раз в 3 года • Ежегодно
ВВП.1.1.8	Какие первоначальные действия должен осуществлять инспектор по маломерным судам при подходе к остановленному судну?		<ul style="list-style-type: none"> • Представиться судоводителю и объявить причину остановки судна • Представиться судоводителю и информировать его о правах и обязанностей • Представиться судоводителю и потребовать от него судовые и судоводительские документы • Представиться судоводителю, предъявить служебное удостоверение, потребовать у судоводителя удостоверение на право управления, судовой билет и объявить причину остановки судна
ВВП.1.1.9	Через сколько дней заявитель, показавший неудовлетворительный результат при проверке теоретических знаний при аттестации на право управления маломерным судном, может быть повторно допущен к проверке теоретических знаний?		<ul style="list-style-type: none"> • Такой срок не установлен • Через 3 дня • Через 5 дней • Через 7 дней




ВВП.1.1.10	Какой документ, выдаваемый собственнику маломерного судна, подтверждает право плавания под Государственным флагом Российской Федерации?		<ul style="list-style-type: none"> • Удостоверение на право управления маломерными судами • Технический талон • Акт технического освидетельствования • Судовой билет
ВВП.1.1.11	В присутствии какого лица осуществляется доступ судоводителя (судовладельца) к маломерному судну, задержанному и находящемуся на специализированной стоянке?		<ul style="list-style-type: none"> • Государственного инспектора по маломерным судам • Представителя милиции • Представителя прокуратуры • Лица, ответственного за хранение судна
ВВП.1.1.12	Сколько метров составляет ширина береговой полосы водных объектов общего использования?		<ul style="list-style-type: none"> • 10 м • 30 м • 50 м • 20 м


ВВП.1.1.13	На какие органы (организации) Водным кодексом РФ возложены обязанности об информировании жителей в случае введения запрета (ограничения) на использование маломерных судов на водных объектах общего пользования?		<ul style="list-style-type: none"> • На ВОСВОД • На инспекторские подразделения • ГИМС • На территориальные органы МЧС России • На органы местного самоуправления
ВВП.1.1.14	Выберите правильное определение понятия «район плавания маломерного судна»		<ul style="list-style-type: none"> • район, по которому произведена предварительная прокладка перехода; • район, в котором фактически находится маломерное судно; • акватория, на которой допускается использование маломерного судна в соответствии с его техническими и конструктивными характеристиками; • акватория, в которой осуществляют плавание маломерные суда
ВВП.1.1.15	Какими нормативными документами регулируется безопасность судоходства маломерных судов на внутренних водных путях Российской Федерации?		<ul style="list-style-type: none"> • Правилами плавания по внутренним водным путям Российской Федерации • Правилами пользования маломерными судами на водных объектах Российской Федерации • Кодексом внутреннего водного транспорта Российской Федерации; • Всеми перечисленными




ВВП.1.1.16	<p>Каким нормативным документом регулируется безопасность судоходства маломерных судов на внутренних водах, не включенных в Перечень внутренних водных путей Российской Федерации?</p>		<ul style="list-style-type: none"> • Правилами плавания по внутренним водным путям Российской Федерации; • Правилами пользования маломерными судами на водных объектах Российской Федерации; • Кодексом внутреннего водного транспорта Российской Федерации; • Водным кодексом Российской Федерации.
ВВП.1.1.17	<p>Что должен выполнить судоводитель для предотвращения непосредственно угрожающей опасности или ее возможных последствий?</p>		<ul style="list-style-type: none"> • следовать безопасной скоростью • уменьшить скорость до минимальной • увеличить скорость до максимальной • остановиться
ВВП.1.1.18	<p>Отметьте правильный ответ на вопрос: «Что должен выполнить судоводитель для предотвращения непосредственно угрожающей опасности или ее возможных последствий»?</p>		<ul style="list-style-type: none"> • принять все меры, которые диктуются практикой судоходства. • принять все меры, которые диктуются практикой судоходства или особыми обстоятельствами. • принять все меры, которые диктуются практикой судоходства или особыми обстоятельствами, не отступая от Правил плавания по ВВП РФ. • принять все меры, которые диктуются практикой судоходства или особыми обстоятельствами, даже если вынужден отступать от Правил плавания по ВВП РФ.

ВВП.1.1.19	<p>Что должен выполнить судоводитель в случае неуверенности в оценке ситуации (неясность в действиях других судов, неподача или неправильное подтверждение сигналов, потеря ориентировки, отсутствие или неисправность знаков навигационного оборудования и т.п.)?</p>		<ul style="list-style-type: none"> • уменьшить ход или прекратить движение до выяснения ситуации; • продолжать движение, не меняя курса и скорости; • максимально быстро покинуть место развития ситуации; • изменить курс и двигаться к ближайшему берегу.
ВВП.1.1.20	<p>Что обязан выполнить судоводитель, находящийся поблизости от аварийного судна, если имеется опасность для находящихся на нем людей?</p>		<ul style="list-style-type: none"> • оказать немедленную помощь • насколько это совместимо с безопасностью его судна, оказать немедленную помощь; • не оказывать помощь; • привлечь внимание других судов
ВВП.1.1.21	<p>Что необходимо выполнить судоводителю маломерного судна при встрече немаломмерного судна на судовом ходу?</p>		<ul style="list-style-type: none"> • заблаговременно уйти с его пути без обмена звуковыми и зрительными сигналами; • уступить дорогу после обмена звуковыми сигналами; • уступить дорогу после обмена зрительными сигналами; • потребовать, чтобы ему уступили дорогу.

ВВП.1.1.22	Отметьте правильное определение понятия «полоса движения»:	?	<ul style="list-style-type: none"> • судовой ход; • часть судового хода между его осью и правой или левой кромкой; • ось судового хода; • правая сторона судового хода.
ВВП.1.1.23	Какому из перечисленных судов НЕ должно уступать дорогу парусное судно на ходу?	?	<ul style="list-style-type: none"> • одиночное самоходное судно, толкающее или буксирующее состав (кроме плота); • судно, занятое ловом рыбы; • судно, буксирующее плот; • судно, лишенное возможности управляться, занятое подводными или водолазными работами
ВВП.1.1.24	Отметьте правильное определение понятия «маломерное судно»		<ul style="list-style-type: none"> • судно, длина которого не должна превышать 18 метров и общее количество людей на котором не должно превышать 10 • судно, длина которого не должна превышать 20 метров и общее количество людей на котором не должно превышать 12 • судно, длина которого не должна превышать 24 метра и общее количество людей на котором не должно превышать 12 • судно, длина которого не должна превышать 24 метра и общее количество людей на котором не должно превышать 14



ВВП.1.1.25	Отметьте правильное определение понятия «маломерное моторное судно»		<ul style="list-style-type: none"> • маломерное судно, использующее в качестве основного средства движения подвесной мотор • маломерное судно, использующее в качестве основного средства стационарный двигатель • маломерное судно, использующее в качестве движителя гребной винт • маломерное судно, использующее в качестве основного средства движения механический двигатель
ВВП.1.1.26	Отметьте правильное определение понятия «маломерное парусное судно»		<ul style="list-style-type: none"> • маломерное судно, использующее в качестве основного средства движения силу ветра • маломерное судно, использующее в качестве движителя парус • маломерное судно, оснащенное парусами • маломерное судно, использующее в качестве единственного средства движения парус
ВВП.1.1.27	Отметьте правильное определение понятия судоводитель (капитан) маломерного судна		<ul style="list-style-type: none"> • лицо, управляющее маломерным судном • лицо, управляющее маломерным судном и имеющее необходимую для этого квалификацию • лицо, управляющее маломерным судном и являющееся собственником судна • лицо, управляющее маломерным судном по поручению судовладельца


ВВП.1.1.28	Отметьте правильное определения понятия «пассажир маломерного судна»		<ul style="list-style-type: none"> любое лицо на борту маломерного судна любое лицо на борту маломерного судна, имеющее проездной билет любое лицо на борту маломерного судна, не являющееся членом экипажа судна любое лицо на борту маломерного судна, находящееся там с разрешения судоводителя (капитана)
ВВП.1.1.29	Отметьте правильное определения понятия «судоходство маломерных судов»		<ul style="list-style-type: none"> движение маломерных судов по водной акватории движение маломерных судов по водной акватории, на которой разрешено использование маломерного судна деятельность, связанная с использованием маломерных судов исключительно для производственных целей деятельность, связанная с использованием маломерных судов для отдыха, туризма, а также культурных, спортивных, производственных, развлекательных и иных целей
ВВП.1.1.30	На какой срок выдается свидетельство о классификации маломерного судна после его постройки и (или) освидетельствования?		<ul style="list-style-type: none"> на 1 год на 5 лет на 10 лет бессрочно




ВВП.1.1.31	Отметьте правильное определение состояния защищённости маломерных судов, находящихся на водных объектах, от аварий и происшествий.		<ul style="list-style-type: none"> • Безопасность судоходства маломерных судов • Безопасность маломерных судов • Безопасность на водных объектах • Безаварийное судоходство
ВВП.1.1.32	Что из перечисленного НЕ является основанием прекращения действия права на управление маломерным судном?		<ul style="list-style-type: none"> • истечение установленного срока действия удостоверения на право управления маломерным судном • ухудшение здоровья судоводителя, препятствующее безопасному управлению маломерным судном, подтвержденное медицинским заключением • лишение права на управление маломерным судном • утеря удостоверения на право управления маломерным судном
ВВП.1.1.33	Кто из перечисленных лиц обязан обеспечивать безопасность плавания маломерного судна?		<ul style="list-style-type: none"> • судовладелец • судоводитель • капитан • члены экипажа




ВВП.1.1.34	В каком случае необходимо оформление судовой роли на маломерном судне, не укомплектованном штатным экипажем?		<ul style="list-style-type: none"> • Перед освидетельствованием судна • Перед каждым выходом с базы стоянки • Перед выходом в заграничное плавание • Во всех перечисленных случаях
------------	--	---	--




ВВП.1.2. Правила плавания маломерных судов, включая правила плавания в портах




No	Вопрос	Иллюстрация	Варианты ответа (правильный выделен)
ВВП.1.2.1	Что обозначает изображенный на иллюстрации береговой навигационный информационный знак?		<ul style="list-style-type: none"> • Участок водного пути, где движение мелких плавсредств запрещено • Пересечение судового хода • Участок водного пути, где необходимо соблюдать особую осторожность • Участок водного пути, где запрещено создавать волнение
ВВП.1.2.2	Что обозначает изображенный на иллюстрации береговой навигационный информационный знак?		<ul style="list-style-type: none"> • Место пересечения судового хода • Участок, где запрещено создавать волнение • Участок, где необходимо соблюдать особую осторожность • Участок, где на судовом ходу запрещено движение маломерных судов




ВВП.1.2.3	На что указывает изображенный на иллюстрации береговой навигационный знак?		<ul style="list-style-type: none"> • На направление судового хода • На фарватер для прохода крупных судов • На ось судового хода • На положение судового хода и его кромок
ВВП.1.2.4	Что обозначает изображенный на иллюстрации береговой навигационный информационный знак?		<ul style="list-style-type: none"> • Перекресток судовых ходов • Место приближении к перекату • Ось судового хода • Место пересечения судового хода судами и паромными переправами
ВВП.1.2.5	Что обозначает изображенный на иллюстрации береговой навигационный информационный знак?		<ul style="list-style-type: none"> • Участок судоходного пути, на котором максимальная допустимая ширина судов 15 м • Участок судоходного пути, на котором максимальная допустимая высота надводного габарита судна 15 м • Участок судоходного пути, на котором глубина судового хода 15 м • Участок судоходного пути, где скорость движения водоизмещающих судов ограничена 15 км/ч



ВВП.1.2.6	<p>Что означают изображенные на иллюстрации сигнальные фигуры и огни на семафорной мачте?</p>		<ul style="list-style-type: none"> • Ход закрыт для движения снизу • Ход закрыт для движения сверху • Ход закрыт в оба направления для маломерных судов • Ход закрыт в оба направления
ВВП.1.2.7	<p>Что означает изображенное на иллюстрации сочетание сигнальных фигур на семафорной мачте?</p>		<ul style="list-style-type: none"> • Ход закрыт в оба направления • Ход закрыт для движения сверху • Ход закрыт в оба направления для маломерных судов • Ход закрыт для движения снизу
ВВП.1.2.8	<p>Что означает изображенное на иллюстрации сочетание сигнальных фигур на семафорной мачте?</p>		<ul style="list-style-type: none"> • Ход закрыт в оба направления • Ход закрыт для движения снизу • Ход закрыт в оба направления для маломерных судов • Ход закрыт для движения сверху




ВВП.1.2.9	Что обозначает изображенный на иллюстрации плавучий навигационный знак?		<ul style="list-style-type: none"> • правую кромку судового хода • поворот судового хода и стоит у левого берега • поворот судового хода и стоит у правого берега • левую кромку судового хода
ВВП.1.2.10	Что обозначает изображенный на иллюстрации плавучий навигационный знак?		<ul style="list-style-type: none"> • ось судового хода • поворот судового хода • особо опасное место у правой кромки судового хода • особо опасное место у левой кромки судового хода
ВВП.1.2.11	Что обозначает изображенный на иллюстрации плавучий навигационный знак?		<ul style="list-style-type: none"> • левую кромку судового хода • поворот судового хода и стоит на его левой кромке • поворот судового хода и стоит на его правой кромке • правую кромку судового хода




ВВП.1.2.12	Что обозначает изображенный на иллюстрации плавучий навигационный знак?		<ul style="list-style-type: none"> • левую кромку судового хода • правую кромку судового хода • поворот судового хода и стоит на его правой кромке • поворот судового хода и стоит на его левой кромке
ВВП.1.2.13	Что обозначает изображенный на иллюстрации плавучий навигационный знак?		<ul style="list-style-type: none"> • поворот судового хода • особо опасное место у левой кромки судового хода • особо опасное место у правой кромки судового хода • ось судового хода
ВВП.1.2.14	Что обозначает изображенный на иллюстрации плавучий навигационный знак?		<ul style="list-style-type: none"> • ось судового хода • поворот судового хода • особо опасное место у левой кромки судового хода • особо опасное место у правой кромки судового хода




ВВП.1.2.15	Что обозначает изображенный на иллюстрации знак?		<ul style="list-style-type: none"> • Судно на ходу • Судно, осуществляющее перевозку радиоактивных грузов • Судно, идущее под парусом и одновременно использующее силовую установку • Судно, стоящее на якоре
ВВП.1.2.16	Что обозначает изображенный на иллюстрации знак?		<ul style="list-style-type: none"> • Судно, стоящее на мели • Судно, стоящее на якоре • Судно, идущее под парусом и одновременно использующее силовую установку • Судно, осуществляющее перевозку опасных грузов
ВВП.1.2.17	Что обозначают изображенные на иллюстрации знаки?		<ul style="list-style-type: none"> • Лоцманское судно при исполнении своих обязанностей • Судно, занятое буксировкой с длиной буксира более 200 м • Судно, ограниченное в возможности маневрировать, на ходу • Судно, лишенное возможности управляться

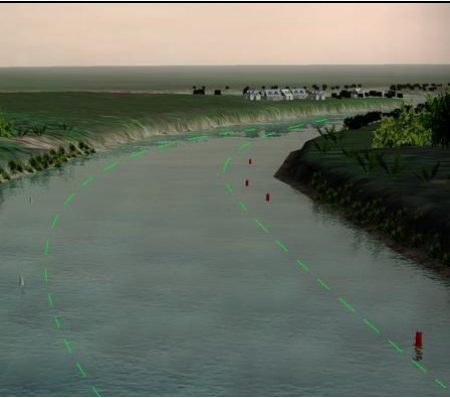

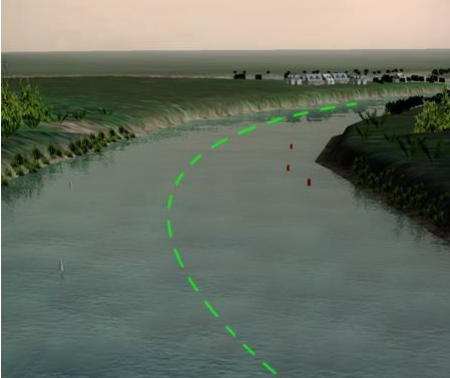
ВВП.1.2.18	Что обозначает плавучий навигационный знак на ВВП, имеющий изображенную на иллюстрации расцветку?		<ul style="list-style-type: none"> • Обозначает левую кромку судового хода • Обозначает правую кромку судового хода • Обозначает поворот судового хода и стоит на его левой кромке • Обозначает поворот судового хода и стоит на его правой кромке
ВВП.1.2.19	Что обозначает изображенный на иллюстрации знак?		<ul style="list-style-type: none"> • Судно, стоящее на мели • Судно, стоящее на якоре • Судно, осуществляющее перевозку радиоактивных грузов • Судно, идущее под парусом и одновременно использующее силовую установку
ВВП.1.2.20	Что обозначают изображенные на иллюстрации плавучие навигационные знаки?		<ul style="list-style-type: none"> • Необходимость обойти знак со стороны юга • Необходимость обойти знак со стороны запада • Необходимость обойти знак со стороны востока • Необходимость обойти знак со стороны севера




ВВП.1.2.21	<p>Что обозначают изображенные на иллюстрации плавучие навигационные знаки?</p>		<ul style="list-style-type: none"> • Необходимость обойти знак со стороны юга • Необходимость обойти знак со стороны севера • Необходимость обойти знак со стороны запада • Необходимость обойти знак со стороны востока
ВВП.1.2.22	<p>На каком судне выставляется изображенный на иллюстрации сигнал?</p>		<ul style="list-style-type: none"> • Судно на мели • Судно, занятое дноуглубительными работами • Судно, лишенное возможности управляться, на якоре • Судно терпит бедствие и нуждается в помощи
ВВП.1.2.23	<p>Что обозначают желтые поплавки или желтые флаги, расставленные на поверхности воды в непосредственной близости от судового хода?</p>		<ul style="list-style-type: none"> • Галечную отмель (опечки) • Подводный трубопровод • Подводный электрический кабель • Рыболовные сети




ВВП.1.2.24	<p>Что означают непрерывно повторяющиеся продолжительные сигналы либо беспрерывные частые удары в колокол или металлический предмет, подаваемые судном?</p>		<ul style="list-style-type: none"> • Прошу выйти на связь • Человек за бортом • Предупреждение • Сигнал бедствия
ВВП.1.2.25	<p>Какие действия должно предпринять судно, которому уступают дорогу?</p>		<ul style="list-style-type: none"> • Увеличить свою скорость • Увеличить свою скорость и изменить курс на 10 градусов вправо • Изменить свой курс на 10 градусов вправо • Сохранить свои курс и скорость
ВВП.1.2.26	<p>Должно ли маломерное моторное судно на ходу уступить дорогу парусному судну?</p>		<ul style="list-style-type: none"> • Не должно • Должно, если парусное судно идет правым галсом • Должно, если парусное судно приближается с левого борта • Должно в любом случае



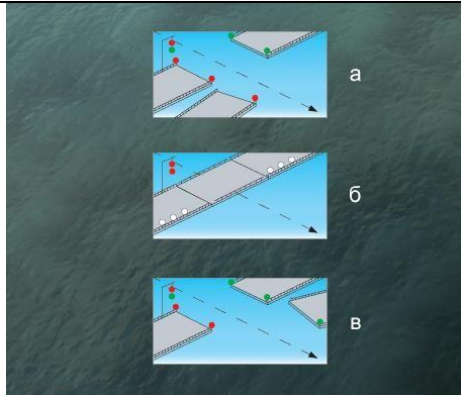
ВВП.1.2.27	По какому борту одно маломерное судно должно обгонять другое маломерное судно?		<ul style="list-style-type: none"> • Обгон не разрешается • По любому борту • По правому борту обгоняемого судна • По левому борту обгоняемого судна
ВВП.1.2.28	Если два маломерных моторных судна идут пересекающимися курсами так, что возникает опасность столкновения, какое судно должно уступить дорогу другому судну?		<ul style="list-style-type: none"> • Судно, находящееся южнее другого судна • Судно, находящееся севернее другого судна • Судно, которое наблюдает другое судно по своему левому борту • Судно, которое наблюдает другое судно по своему правому борту
ВВП.1.2.29	Как должны маневрировать маломерные суда для расхождения друг с другом на акватории, не имеющей судоходной обстановки?		<ul style="list-style-type: none"> • Так, чтобы разойтись правыми бортами • Так, чтобы расстояние между ними было не менее 50 м • Так, чтобы расстояние между ними было не менее трех длин корпуса большего судна • Так, чтобы разойтись левыми бортами

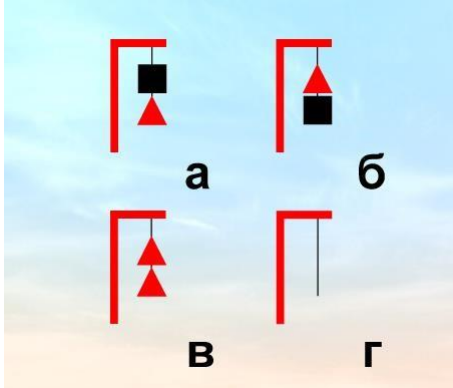


ВВП.1.2.30	Что запрещается маломерным судам при плавании по ВВП?		<ul style="list-style-type: none"> • Маневрировать и останавливаться вблизи идущих или стоящих других судов • Останавливаться и становиться на якорь в пределах судового хода и у плавучих навигационных знаков • Выходить на судовой ход при ограниченной видимости (менее 1 км) • Все перечисленные действия
ВВП.1.2.31	В каком из следующих случаев не разрешается пользоваться маломерным судном?		<ul style="list-style-type: none"> • У судоводителя нет при себе удостоверения на право управления судном • Маломерное судно не зарегистрировано в установленном порядке • На маломерном судне отсутствует судовой билет • Во всех перечисленных случаях
ВВП.1.2.32	На каком расстоянии от кромки судового хода должно следовать маломерное судно по судовому ходу, если нет возможности следовать за кромкой судового хода?		<ul style="list-style-type: none"> • На расстоянии до 5 м от кромки судового хода • На расстоянии до 15 м от кромки судового хода • На расстоянии до 20 м от кромки судового хода • На расстоянии до 10 м от кромки судового хода


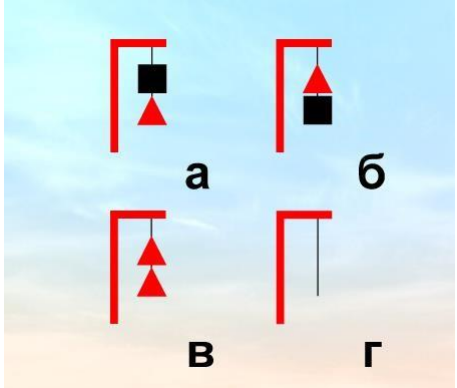

ВВП.1.2.33	Как называется условная линия, ограничивающая судовой ход по ширине?		<ul style="list-style-type: none"> • Перевал • Полоса • Стрежень • Кромка
ВВП.1.2.34	Как называется условная линия, проходящая в средней части судового хода?		<ul style="list-style-type: none"> • Фарватер • Перевал судового хода • Кромка судового хода • Ось судового хода
ВВП.1.2.35	Как называется часть водного пространства на внутренних водных путях, предназначенная для движения судов и обозначенная на местности и (или) карте?		<ul style="list-style-type: none"> • Акватория • Полоса движения • Стрежень • Судовой ход




ВВП.1.2.36	Что обозначает кромочный створ?		<ul style="list-style-type: none"> • Направление судового хода • Ось судового хода • Ось судового хода и его кромок • Положение судового хода и его кромок
ВВП.1.2.37	Что обозначает изображенный на иллюстрации береговой навигационный информационный знак?		<ul style="list-style-type: none"> • Место потери якоря • Место якорной стоянки • Якоря не бросать • Пост судоводной инспекции
ВВП.1.2.38	Определите высоту судоводного пролета этого моста?		<ul style="list-style-type: none"> • до 5 метров • от 13 до 16 метров • от 10 и до 13 метров • до 10 метров




ВВП.1.2.39	Как называется изображенный на иллюстрации береговой навигационный знак и что он обозначает?		<ul style="list-style-type: none"> • Перевальный знак, указывает перевал судового хода от одного берега к другому • Знак "Ориентир", обозначает характерные места • Ходовой знак правого берега, обозначает, что судовый ход расположен вдоль правого берега • Весенний знак правого берега, обозначает затопленный берег
ВВП.1.2.40	Что обозначает изображенный на иллюстрации береговой навигационный знак "Ориентир"?		<ul style="list-style-type: none"> • Затопляемый берег • Перевал судового хода • Вход в канал • Характерное место судоходного пути
ВВП.1.2.41	Укажите береговой навигационный информационный знак, запрещающий создавать волнение?		<ul style="list-style-type: none"> • а • б • в • г



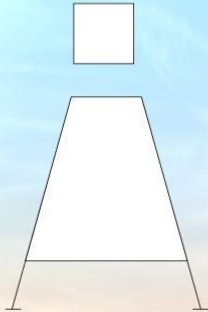
ВВП.1.2.42	Где выставляется изображенный на иллюстрации береговой навигационный знак "Ориентир"?		<ul style="list-style-type: none"> • На левом берегу • На темном фоне местности • На светлом фоне местности • На правом берегу
ВВП.1.2.43	Для прохода каких судов предназначен изображенный на иллюстрации пролет моста?		<ul style="list-style-type: none"> • Для плотовых составов • Для судов и составов, идущих снизу • Для судов и составов, идущих сверху • Для маломерных судов
ВВП.1.2.44	В каких из приведенных на иллюстрации случаев закрыт проход судам, идущим сверху?		<ul style="list-style-type: none"> • Только Б • Только А и Б • Только А и В • А, Б и В


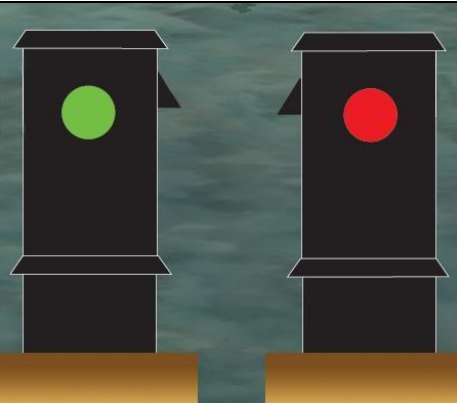
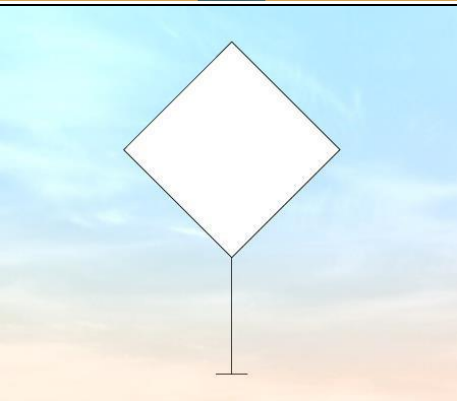
ВВП.1.2.45	<p>Какое из изображенных на иллюстрации сочетаний сигнальных фигур на семафорной мачте запрещает проход вверх?</p>		<ul style="list-style-type: none"> • Б • Б и В • Г • А и В
ВВП.1.2.46	<p>Какой из изображенных на иллюстрации береговых навигационных информационных знаков предупреждает о необходимости соблюдать осторожность?</p>		<ul style="list-style-type: none"> • б • в • г • а
ВВП.1.2.47	<p>Как называется створ из трех знаков, который указывает положение и кромки судового хода?</p>		<ul style="list-style-type: none"> • Линейный • Кромочный • Осевой • Щелевой



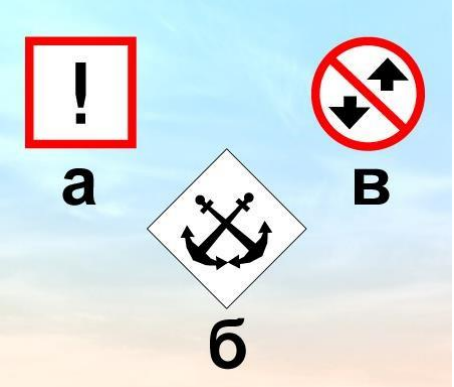
ВВП.1.2.48	Какой из этих береговых навигационных информационных знаков обозначает, что на данном участке судового хода обгон и расхождение судов запрещены?	 <p>а б в г</p>	<ul style="list-style-type: none"> • а) • в) • г) • б)
ВВП.1.2.49	Какие из изображенных сочетаний сигнальных фигур на семафорной мачте запрещают судам, следующим по течению, проход на участке с односторонним движением?	 <p>а б в г</p>	<ul style="list-style-type: none"> • А и Б • Г • Только В • Б и В
ВВП.1.2.50	Какой из изображенных на иллюстрации береговых навигационных информационных знаков выставляется в районах надводных и мостовых переходов для указания минимальной габаритной высоты?	 <p>а б в г</p>	<ul style="list-style-type: none"> • а) • б) • г) • в)


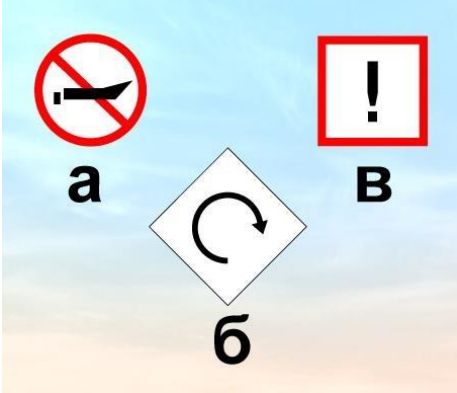
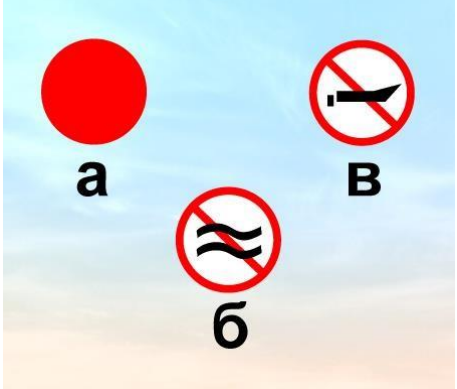
ВВП.1.2.51	Что обозначает изображенный на иллюстрации береговой навигационный знак?		<ul style="list-style-type: none"> • Ходовой знак правого берега • Опознавательный знак левого берега при входе в искусственное русло • Путевой огонь левого берега • Опознавательный знак правого берега при входе в искусственное русло
ВВП.1.2.52	Как называется изображенный на иллюстрации береговой навигационный знак?		<ul style="list-style-type: none"> • Весенний • Перевальный • Ходовой • "Ориентир"
ВВП.1.2.53	Как называется изображенный на иллюстрации береговой навигационный знак?		<ul style="list-style-type: none"> • Весенний знак левого берега • Знак "Ориентир" • Ходовой знак правого берега • Весенний знак правого берега

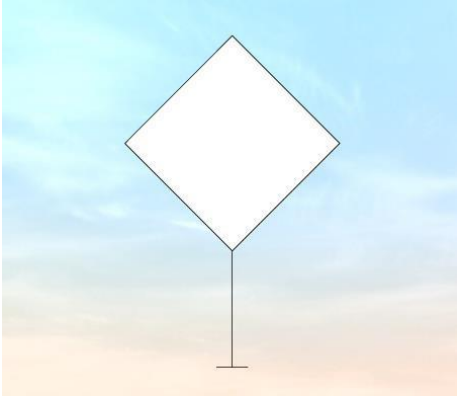


ВВП.1.2.54	Как называется изображенный на иллюстрации береговой навигационный знак?		<ul style="list-style-type: none"> • Ходовой знак левого берега • Ходовой знак правого берега • Оповестительный знак левого берега • Путевой огонь левого берега
ВВП.1.2.55	Что обозначает изображенный на иллюстрации береговой информационный знак?		<ul style="list-style-type: none"> • Максимальная скорость водоизмещающих судов 15 км/ч • Ширина судового хода 15 м • Глубина реки 15 м • Высота надводного перехода 15 м
ВВП.1.2.56	Что обозначает изображенный на иллюстрации береговой навигационный информационный знак?		<ul style="list-style-type: none"> • Ширина судового хода 12 м • Глубина на судовом ходу 12 м • Высота надводного перехода 12 м • Максимальная скорость водоизмещающих судов 12 км/ч

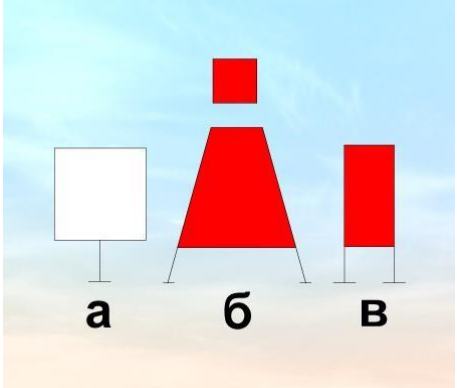
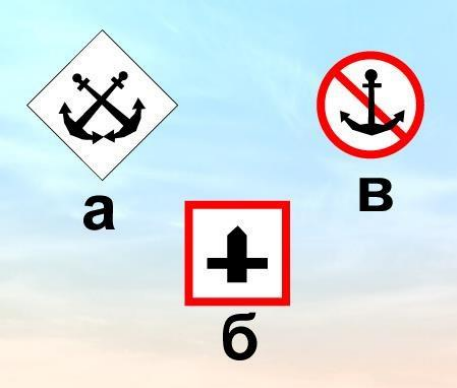
ВВП.1.2.57	Что обозначает изображенный на иллюстрации береговой навигационный информационный знак?		<ul style="list-style-type: none"> • Пересечение реки каналом • Пересечение главной реки другой рекой • Впереди мост • Место пересечения судового хода судовой или паромной переправой
ВВП.1.2.58	Что обозначает изображенный на иллюстрации береговой навигационный знак, установленный на левом берегу?		<ul style="list-style-type: none"> • Затопленный остров (мыс) у левого берега • Переход судового хода от одного берега к другому • Судовой ход расположен у левого берега • Характерное (приметное) место
ВВП.1.2.59	Что обозначает изображенный на иллюстрации береговой навигационный знак?		<ul style="list-style-type: none"> • Затоплен левый берег • Судовой ход расположен у левого берега • Судовой ход расположен у правого берега • Судовой ход меняет направление от одного берега к другому




ВВП.1.2.60	Что обозначают изображенные на иллюстрации береговые навигационные знаки?		<ul style="list-style-type: none"> • Затопленный остров (мыс) у правого берега • Характерное место судоходного пути у правого берега • Изменение направления судового хода от левого берега к правому • Судовой ход расположен у правого берега
ВВП.1.2.61	Что обозначают изображенные на иллюстрации береговые навигационные знаки?		<ul style="list-style-type: none"> • Вход в канал • Вход в камеру шлюза • Выход из камеры шлюза • Берега судоходного канала
ВВП.1.2.62	Где выставляется изображенный на иллюстрации береговой навигационный знак?		<ul style="list-style-type: none"> • На правом берегу • На темном фоне местности • На светлом фоне местности • На левом берегу




ВВП.1.2.63	Где выставляется изображенный на иллюстрации береговой навигационный знак?		<ul style="list-style-type: none"> • На берегах с темным фоном местности • На откосах берегов судоходных каналов • На затапливаемых островах, ярах, мысах у правого берега • На затопленной бровке яра
ВВП.1.2.64	Что означает изображенное на иллюстрации сочетание огней на семафорной мачте?		<ul style="list-style-type: none"> • Ход закрыт снизу • Ход открыт снизу • Ход закрыт сверху • Ход закрыт сверху и снизу
ВВП.1.2.65	Какой из изображенных на иллюстрации береговых навигационных информационных знаков запрещает отдавать якоря?		<ul style="list-style-type: none"> • а) • б) • в) • Такого знака здесь нет

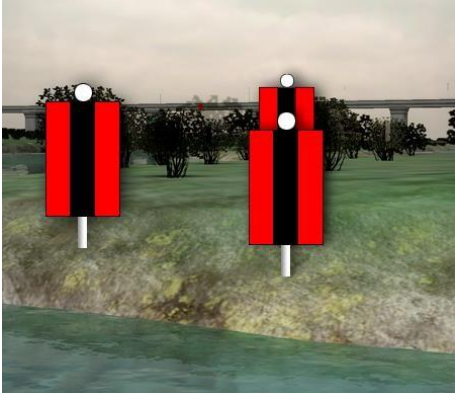


ВВП.1.2.66	Какой из изображенных на иллюстрации береговых навигационных информационных знаков запрещает отдавать якоря?		<ul style="list-style-type: none"> • а) • в) • Такого знака здесь нет • б)
ВВП.1.2.67	Какой из изображенных на иллюстрации береговых навигационных информационных знаков запрещает создавать волнение?		<ul style="list-style-type: none"> • а) • б) • в) • Такого знака здесь нет
ВВП.1.2.68	Какой из изображенных на иллюстрации береговых навигационных знаков запрещает создавать волнение?		<ul style="list-style-type: none"> • "а" и "б" • Такого знака здесь нет • "б" и "в" • "б"




ВВП.1.2.69	Изображенный на иллюстрации береговой навигационный знак означает, что судовой ход проходит ...		<ul style="list-style-type: none"> • в 50 м от знака • у правого берега • по середине реки • у левого берега
ВВП.1.2.70	Для прохода каких судов предназначен изображенный на иллюстрации пролет моста?		<ul style="list-style-type: none"> • для плотовых составов • для судов и составов, следующих вниз • для судов и составов, следующих вверх • для маломерных
ВВП.1.2.71	Как называются изображенные на иллюстрации береговые навигационные знаки, выставленные при входе в искусственное русло?		<ul style="list-style-type: none"> • Ходовые знаки • Ориентир • Путевые огни • Оповестительные знаки




ВВП.1.2.72	Какой из изображенных на иллюстрации береговых навигационных знаков обозначает направление судового хода?		<ul style="list-style-type: none"> • Такого знака здесь нет • Только "а" • Только "б" и "в" • "а", "б" и "в"
ВВП.1.2.73	Какой из изображенных на иллюстрации береговых навигационных информационных знаков запрещает движение мелких плавучих средств?		<ul style="list-style-type: none"> • "а", "в" и "б" • Такого знака здесь нет • "б" и "а" • "а"
ВВП.1.2.74	Какой из изображенных на иллюстрации береговых навигационных информационных знаков обозначает место базирования подразделения судовой инспекции?		<ul style="list-style-type: none"> • б • в • Такого знака здесь нет • а




ВВП.1.2.75	Где находится судно относительно оси судового хода, если судоводитель наблюдает задний знак осевого створа правее переднего?		<ul style="list-style-type: none"> • На оси • Левее оси • Пересекает ось • Правее оси
ВВП.1.2.76	Где находится судно относительно оси судового хода, если судоводитель наблюдает задний знак осевого створа левее переднего?		<ul style="list-style-type: none"> • На оси • На правой по ходу кромке судового хода • Правее оси • Левее оси
ВВП.1.2.77	Где находится судно относительно оси судового хода, если судоводитель наблюдает передний знак осевого створа левее заднего знака?		<ul style="list-style-type: none"> • На оси • На левой по ходу полосе судового хода • Левее оси • Правее оси




ВВП.1.2.78	Где находится судно относительно судового хода, если судоводитель наблюдает задний знак между передними знаками щелевого створа?		<ul style="list-style-type: none"> • За левой по ходу кромкой судового хода • За правой по ходу кромкой судового хода • На правой по ходу кромке судового хода • На судовом ходу
ВВП.1.2.79	Где находится судно относительно судового хода, если судоводитель наблюдает задние знаки между передними знаками кромочного створа?		<ul style="list-style-type: none"> • За пределами судового хода • На левой по ходу кромке судового хода • На правой по ходу кромке судового хода • На судовом ходу
ВВП.1.2.80	Где находится судно относительно оси судового хода, если судоводитель наблюдает в створе левый передний и задний знаки щелевого створа?		<ul style="list-style-type: none"> • За пределами левой по ходу кромки судового хода • На оси судового хода • На правой по ходу кромке судового хода • На левой по ходу кромке судового хода




ВВП.1.2.81	Где находится судно относительно оси судового хода, если судоводитель наблюдает в створе правый передний и задний знаки щелевого створа?		<ul style="list-style-type: none"> • За пределами правой по ходу кромки судового хода • На оси судового хода • На левой кромке судового хода • На правой по ходу кромке судового хода
ВВП.1.2.82	Где находится судно относительно судового хода, если судоводитель наблюдает левый передний знак в створе с правым задним знаком кромочного створа?		<ul style="list-style-type: none"> • За правой по ходу кромкой судового хода • На судовом ходу • На левой кромке судового хода • За левой по ходу кромкой судового хода
ВВП.1.2.83	Где находится судно относительно судового хода, если судоводитель наблюдает правый передний знак в створе с левым задним знаком кромочного створа?		<ul style="list-style-type: none"> • За правой по ходу кромкой судового хода • За левой по ходу кромкой судового хода • На левой по ходу кромке судового хода • На правой по ходу кромке судового хода




ВВП.1.2.84	Где находится судно относительно судового хода, если судоводитель наблюдает правый передний знак в створе с правым задним знаком кромочного створа?		<ul style="list-style-type: none"> • За правой по ходу кромкой судового хода • На оси судового хода • На левой по ходу кромке судового хода • На правой по ходу кромке судового хода
ВВП.1.2.85	Что обозначает изображенный на иллюстрации плавучий навигационный знак?		<ul style="list-style-type: none"> • Разделение судового хода • Левую кромку судового хода • Правую кромку судового хода • Поворот судового хода вправо по течению
ВВП.1.2.86	Что обозначает изображенный на иллюстрации плавучий навигационный знак?		<ul style="list-style-type: none"> • Поворот судового хода • Особо опасное место у левой кромки судового хода • Особо опасное место у правой кромки судового хода • Ось судового хода




ВВП.1.2.87	Что обозначает изображенный на иллюстрации плавучий навигационный знак?		<ul style="list-style-type: none"> • Поворот судового хода и стоит на его левой кромке • Поворот судового хода и стоит на его правой кромке • Левую кромку судового хода • Правую кромку судового хода
ВВП.1.2.88	Что обозначает изображенный на иллюстрации плавучий навигационный знак?		<ul style="list-style-type: none"> • Поворот судового хода • Ось судового хода • Особо опасное место у правой кромки судового хода • Особо опасное место у левой кромки судового хода
ВВП.1.2.89	Что обозначает изображенный на иллюстрации плавучий навигационный знак?		<ul style="list-style-type: none"> • Поворот вправо • Правую кромку судового хода • Ось судового хода • Левую кромку судового хода




ВВП.1.2.90	С какой стороны необходимо обойти изображенный на иллюстрации плавучий навигационный знак?		<ul style="list-style-type: none"> • С W (запада) • С N (севера) • С E (востока) • С S (юга)
ВВП.1.2.91	Укажите плавучий навигационный знак, обозначающий ось судового хода?		<ul style="list-style-type: none"> • а) • б) • в) • г)
ВВП.1.2.92	Укажите поворотный знак на правой кромке судового хода?		<ul style="list-style-type: none"> • а) • б) • в) • г)




ВВП.1.2.93	В каком месте выставляется изображенный на иллюстрации плавучий навигационный знак системы МАМС?		<ul style="list-style-type: none"> • К югу от опасности • К западу от опасности • К северу от опасности • Над отдельной опасностью малых размеров
ВВП.1.2.94	В какой стороне необходимо оставить изображенный на иллюстрации навигационный знак в устье крупной реки?		<ul style="list-style-type: none"> • К югу • К западу • К северу • К востоку
ВВП.1.2.95	Какой из изображенных на иллюстрации плавучих навигационных знаков выставляется на левой кромке судового хода?		<ul style="list-style-type: none"> • а) и в) • а) и г) • б) и г) • Все изображенные




ВВП.1.2.96	Какой из изображенных на иллюстрации плавучих навигационных знаков выставляется над отдельной опасностью малых размеров в морских устьях рек?		<ul style="list-style-type: none"> • а • б • в • г
ВВП.1.2.97	В какой стороне необходимо оставить изображенный на иллюстрации плавучий навигационный знак, выставленный в морском устье реки?		<ul style="list-style-type: none"> • К западу • К северу • К востоку • К югу
ВВП.1.2.98	Какой из изображенных на иллюстрации плавучих навигационных знаков обозначает особо опасное место у правой кромки судового хода?		<ul style="list-style-type: none"> • а) • б) • г) • в)




ВВП.1.2.99	Какой из изображенных на иллюстрации плавучих навигационных знаков, выставляемых в морских устьях рек, ограждает опасность с юга?		<ul style="list-style-type: none"> • а) • б) • г) • в)
ВВП.1.2.100	Какой из изображенных на иллюстрации плавучих навигационных знаков обозначает поворот оси судового хода и называется поворотнo-осевым?		<ul style="list-style-type: none"> • а) и б) • в) • г) и б) • б)
ВВП.1.2.101	В какой стороне необходимо оставить изображенный на иллюстрации плавучий навигационный знак, выставленный в морском устье реки?		<ul style="list-style-type: none"> • К югу • К северу • К востоку • К западу




ВВП.1.2.102	Какой из изображенных на иллюстрации плавучих навигационных знаков называется "Свальный"?		<ul style="list-style-type: none"> • б) • в) • г) • а)
ВВП.1.2.103	Какой из изображенных на иллюстрации плавучих навигационных знаков выставляется непосредственно над оконечностью препятствия (опасности) со стороны судового хода на левой кромке?		<ul style="list-style-type: none"> • б) • в) • г) • а)
ВВП.1.2.104	Какой из изображенных на иллюстрации плавучих навигационных знаков называется "Осевой"?		<ul style="list-style-type: none"> • а • б • Такого знака здесь нет • в




ВВП.1.2.105	Какой из изображенных на иллюстрации плавучих навигационных знаков называется "Свальный"?		<ul style="list-style-type: none"> • а) • б) • в) • Такого знака здесь нет
ВВП.1.2.106	Какой из изображенных на иллюстрации плавучих навигационных знаков называется "Свальный"?		<ul style="list-style-type: none"> • а) • б) • Такого знака здесь нет • в)
ВВП.1.2.107	Какой из изображенных на иллюстрации плавучих навигационных знаков называется "Разделительный"?		<ul style="list-style-type: none"> • б) • в) • Такого знака здесь нет • а)




ВВП.1.2.108	Какой из изображенных на иллюстрации плавучих навигационных знаков называется "Кромочный"?		<ul style="list-style-type: none"> • а) • б) • в) • Такого знака здесь нет
ВВП.1.2.109	Что обозначает изображенный на иллюстрации плавучий навигационный знак?		<ul style="list-style-type: none"> • Поворот судового хода и стоит у левого берега • Поворот судового хода и стоит у правого берега • Правую кромку судового хода • Левую кромку судового хода
ВВП.1.2.110	Что обозначает изображенный на иллюстрации плавучий навигационный знак?		<ul style="list-style-type: none"> • Поворот судового хода и стоит на его правой кромке • Правую кромку судового хода • Левую кромку судового хода • Поворот судового хода и стоит на его левой кромке


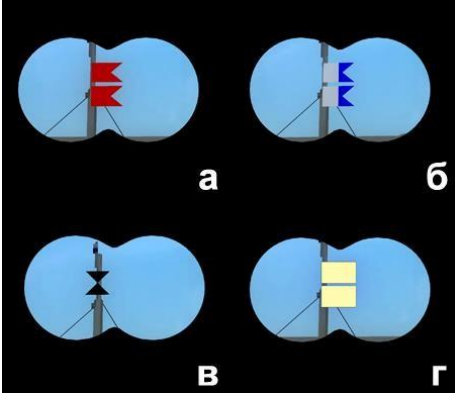
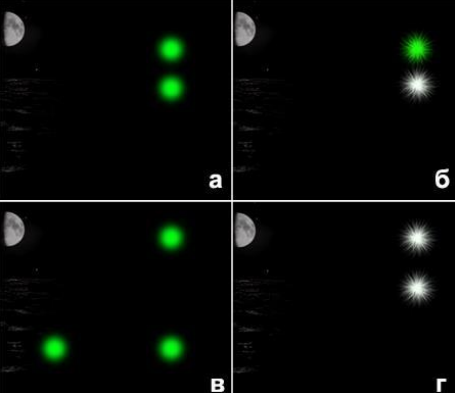
ВВП.1.2.111	Какой из изображенных на иллюстрации плавучих навигационных знаков называется "Знак опасности"?		<ul style="list-style-type: none"> • а) • в) • Такого знака здесь нет • б)
ВВП.1.2.112	Какой из изображенных на иллюстрации плавучих навигационных знаков называется "Знак опасности"?		<ul style="list-style-type: none"> • а) • б) • Такого знака здесь нет • в)
ВВП.1.2.113	Какой цвет огня имеет кромочный знак, устанавливающийся на левой кромке судового хода?		<ul style="list-style-type: none"> • Белый, зеленый или красный • Желтый, белый или красный • Зеленый, желтый или красный • Белый, желтый или зеленый




ВВП.1.2.114	Какой цвет огня имеет свальный знак, устанавливающийся на правой кромке судового хода?		<ul style="list-style-type: none"> • Белый • Желтый • Зеленый • Красный
ВВП.1.2.115	Какой цвет огня имеет знак опасности, устанавливающийся на левой кромке судового хода?		<ul style="list-style-type: none"> • Белый • Желтый • Красный • Зеленый
ВВП.1.2.116	Какой цвет огня имеет знак опасности, устанавливающийся на левой кромке судового хода?		<ul style="list-style-type: none"> • Белый • Желтый • Зеленый • Красный




ВВП.1.2.117	Какой цвет огня имеет кромочный знак, устанавливающийся на левой кромке судового хода?		<ul style="list-style-type: none"> • Белый • Красный или желтый • Красный, или белый, или зеленый • Красный
ВВП.1.2.118	С какого борта маломерное судно должно оставлять изображенные на иллюстрации знаки, следуя вниз за пределами левой кромки судового хода?		<ul style="list-style-type: none"> • С левого "а" и "б" • "а" - с левого, "б" - с правого • "а" - с правого, "б" - с левого • С правого "а" и "б"
ВВП.1.2.119	С какого борта маломерное судно должно оставлять изображенные на иллюстрации знаки, следуя вверх за пределами левой кромки судового хода?		<ul style="list-style-type: none"> • С правого "а" и "б" • "а" - с левого, "б" - с правого • "а" - с правого, "б" - с левого • С левого "а" и "б"

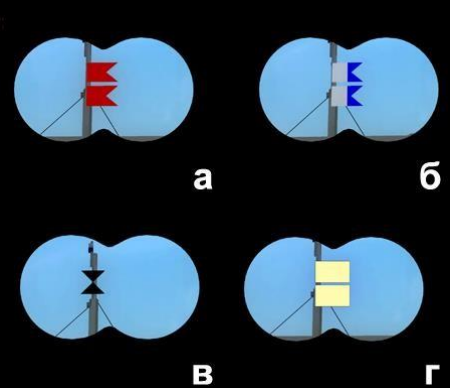
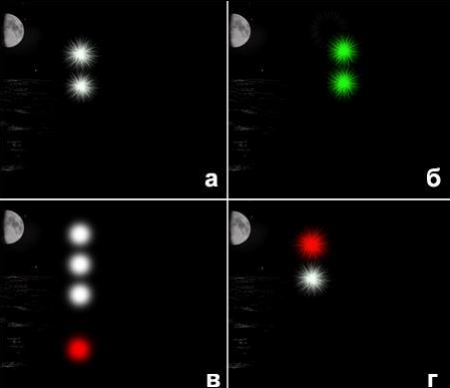

ВВП.1.2.120	С какого борта маломерное судно должно оставлять изображенное на иллюстрации плавучий навигационный знак, следуя вниз за пределами правой кромки судового хода?		<ul style="list-style-type: none"> • С любого • С правого • Судно должно остановиться перед знаком • С левого
ВВП.1.2.121	С какого борта маломерное судно должно оставлять изображенные на иллюстрации плавучие навигационные знаки, следуя вверх за пределами правой кромки судового хода?		<ul style="list-style-type: none"> • С левого "а" и "б" • "а" - с левого, "б" - с правого • "а" - с правого, "б" - с левого • С правого "а" и "б"
ВВП.1.2.123	Какой из изображенных на иллюстрации плавучих навигационных знаков выставляется непосредственно над оконечностью опасности со стороны судового хода на правой кромке?		<ul style="list-style-type: none"> • а) • б) • в) • г)

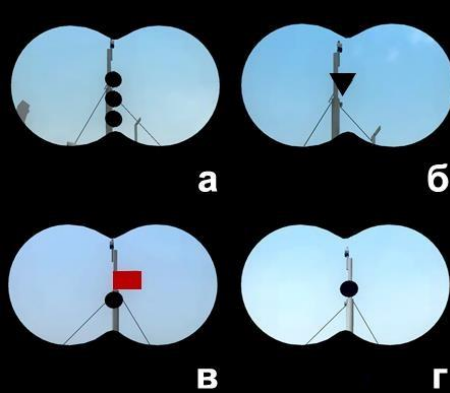


ВВП.1.2.124	С какого борта маломерное судно должно оставлять изображенные на иллюстрации знаки, следуя вверх по судовому ходу вдоль правой по ходу кромки в пределах до 10 м от нее?		<ul style="list-style-type: none"> • С левого "а" и "б" • "а" - с левого, "б" - с правого • "а" - с правого, "б" - с левого • С правого "а" и "б"
ВВП.1.2.125	Какую длину имеет изображенное на иллюстрации парусное судно?		<ul style="list-style-type: none"> • Более 7 м • До 7 м • От 7 м до 20 м • 20 м и более
ВВП.1.2.126	Что означает поднятый на судне сигнал?		<ul style="list-style-type: none"> • Судно на мели • Судно занято дноуглубительными работами • Судно, лишенное • возможности управляться, на якорь • Судно терпит бедствие и нуждается в помощи




ВВП.1.2.127	Укажите огни судна, буксирующего плот.		<ul style="list-style-type: none"> • а) • б) • в) • г)
ВВП.1.2.128	Какое из изображенных на иллюстрации судов занято ловом рыбы?		<ul style="list-style-type: none"> • а) • б) • г) • в)
ВВП.1.2.129	Укажите огни судна, занятого ловом рыбы.		<ul style="list-style-type: none"> • а) • в) • г) • б)

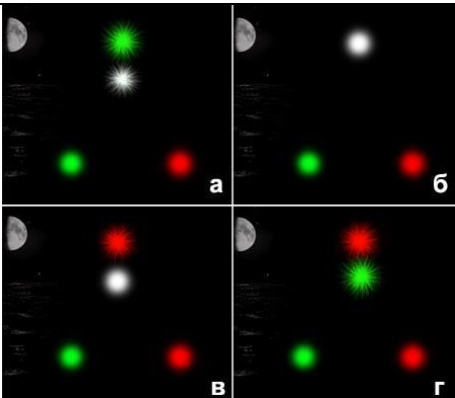


ВВП.1.2.130	Укажите огни судна, занятого ловом рыбы.		<ul style="list-style-type: none"> • а) • б) • в) • г)
ВВП.1.2.131	В каком направлении движется судно с огнями, приведенными на иллюстрации?		<ul style="list-style-type: none"> • Идет от нас • Стоит на мели • Стоит на якоре • Идет на нас
ВВП.1.2.132	Что означает изображенный на иллюстрации знак, выставленный на парусном судне?		<ul style="list-style-type: none"> • Судно стоит на мели • Судно длиной более 20 м • Судно занимается рыбной ловлей • Судно идет под парусом и мотором одновременно

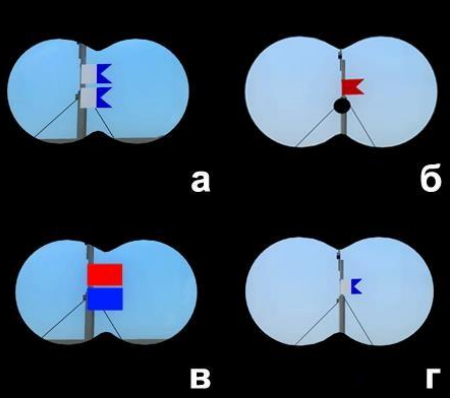
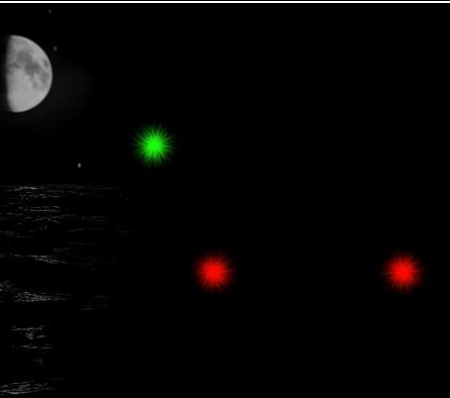

ВВП.1.2.133	Какое из перечисленных судов несет изображенные на иллюстрации огни?		<ul style="list-style-type: none"> Парусное судно под мотором. Парусное судно длиной менее 20 м. Рыболовное судно. Парусное судно длиной 20 м и более.
ВВП.1.2.134	Какое из перечисленных судов несет изображенные на иллюстрации огни?		<ul style="list-style-type: none"> Самоходное судно на мели Самоходное судно на якоре Самоходное судно идет на нас Самоходное судно длиной менее 50 м идет влево
ВВП.1.2.135	Что означает знак, выставленный на судне?		<ul style="list-style-type: none"> Судно ограничено в возможности маневрировать Судно занято ловом рыбы Судно осуществляет перевозку опасных грузов Судно стоит на якоре


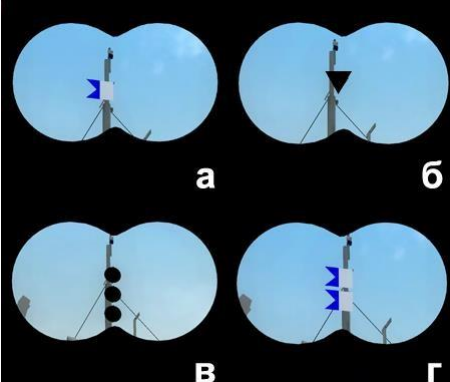
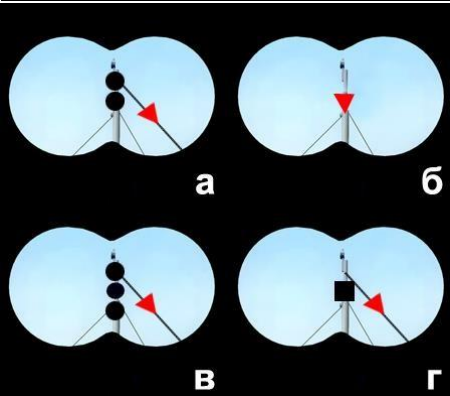
ВВП.1.2.136	Какое из изображенных на иллюстрации судов занято водолазными работами?		<ul style="list-style-type: none"> • а) • в) • г) • б)
ВВП.1.2.137	Укажите огни судна, занятого водолазными работами.		<ul style="list-style-type: none"> • а) • в) • г) • б)
ВВП.1.2.138	Какое из перечисленных судов должно нести изображенные на иллюстрации огни?		<ul style="list-style-type: none"> • Маломерное судно на мели • Несамостоятельное судно на буксире • Судно, занятое ловом рыбы • Парусное судно длиной менее 50м, идущее под мотором




ВВП.1.2.139	Какой из изображенных на иллюстрации сигналов несет судно, терпящее бедствие?		<ul style="list-style-type: none"> • а) • б) • г) • в)
ВВП.1.2.140	Укажите огни пассажирского судна, работающего на переправе?		<ul style="list-style-type: none"> • а) • в) • г) • б)
ВВП.1.2.141	Что означает звуковой сигнал из трех продолжительных звуков?		<ul style="list-style-type: none"> • "Прошу уменьшить ход" • "Я изменяю свой курс влево" • "Я намереваюсь сделать оборот" • "Человек за бортом"




ВВП.1.2.142	Что означает звуковой сигнал – серия, не менее пяти коротких звуков?		<ul style="list-style-type: none"> • "Мои движители работают на задний ход" • "Прошу уменьшить ход" • "Я намереваюсь остановиться" • "Предупреждение"
ВВП.1.2.143	Какое значение имеет звуковой сигнал из четырех коротких звуков?		<ul style="list-style-type: none"> • "Мои движители работают назад" • "Прошу увеличить ход" • "Человек за бортом" • "Я намереваюсь сделать оборот"
ВВП.1.2.144	Какое судно из перечисленных должно нести ночью изображенные на иллюстрации огни на ходу?		<ul style="list-style-type: none"> • Маломерное моторное • Парусное, идущее под мотором • Одинокое самоходное длиной менее 50 м • Каждое из перечисленных




ВВП.1.2.145	Укажите огни одиночного самоходного судна, которое следует на нас?		<ul style="list-style-type: none"> • а) • в) • г) • б)
ВВП.1.2.146	Чем занято судно с изображенными на иллюстрации огнями?		<ul style="list-style-type: none"> • Занято рыбной ловлей • Идет влево • Лежит в дрейфе • Стоит на якоре
ВВП.1.2.147	Как движется это судно по отношению к наблюдателю?		<ul style="list-style-type: none"> • Идет вправо • Идет на наблюдателя • Идет от наблюдателя • Идет влево


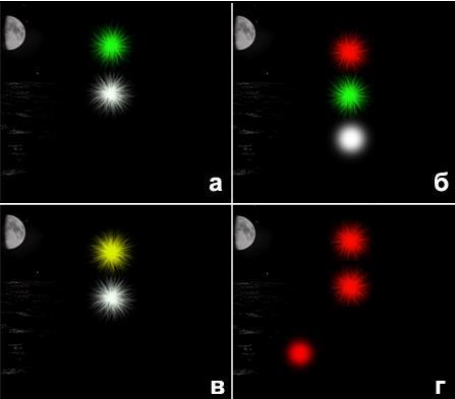

ВВП.1.2.148	Какой из изображенных на иллюстрации сигналов несет днем судно, занятое водолазными работами?		<ul style="list-style-type: none"> • б) • в) • г) • а)
ВВП.1.2.149	Определите, какому виду (типу) плавсредств принадлежит изображенная на иллюстрации ночная сигнализация?		<ul style="list-style-type: none"> • Плавучий кран • Дноочистительный снаряд • Водолазное судно • Дноуглубительный снаряд
ВВП.1.2.150	Какое судно несет на наиболее видном месте сигнал - черный конус вершиной вниз?		<ul style="list-style-type: none"> • Судно, стоящее на мели • Судно, стоящее на якоря • Судно, осуществляющее перевозку радиоактивных грузов • Судно, идущее под парусом и одновременно использующее силовую установку



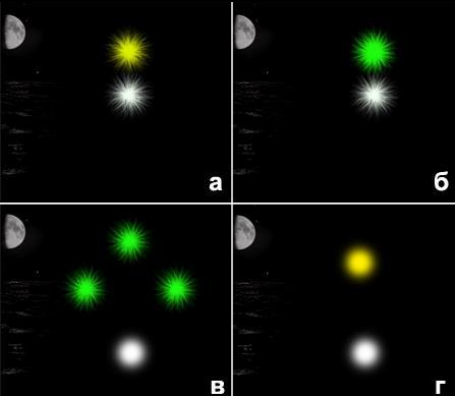
ВВП.1.2.151	Какие из перечисленных сигналов может подавать терпящее бедствие судно, которое просит о помощи?		<ul style="list-style-type: none"> • Ракеты красного цвета • Частое мигание круговым огнем или вертикальное перемещение огня • Медленное повторяемое поднятие и опускание вытянутыми в сторону руками • Все перечисленные сигналы
ВВП.1.2.152	Укажите сигнал, выставляемый днем на стоящем на мели судне, со стороны, с которой проход других судов невозможен?		<ul style="list-style-type: none"> • а) • б) • г) • в)
ВВП.1.2.153	Какой из изображенных на иллюстрации сигналов днем должно нести самоходное судно с ядовитыми или взрывчатыми веществами на мели?		<ul style="list-style-type: none"> • а) • б) • г) • в)




ВВП.1.2.154	<p>Какое из перечисленных маломерных судов на ходу показывает белый круговой огонь при приближении к нему других судов?</p>		<ul style="list-style-type: none"> • Катер • Гидроцикл • Моторная лодка • Шлюпки судов
ВВП.1.2.155	<p>Какой звуковой сигнал должно подавать одиночное самоходное судно на якоре или на мели при ограниченной (менее 1 км) видимости?</p>		<ul style="list-style-type: none"> • Один продолжительный и два коротких звука • Один короткий и один продолжительный звука • Три коротких звука • Один короткий, один продолжительный и один короткий звуки
ВВП.1.2.156	<p>Через сколько метров должны обозначаться круговыми огнями (красными - у правого берега, белыми или желтыми, или зелеными - у левого берега) сети, поставленные в непосредственной близости от судового хода?</p>		<ul style="list-style-type: none"> • Через 20 м • Через 50 м • Через 200 м • Через 100 м


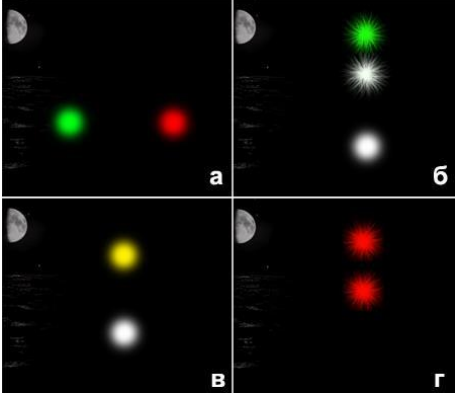

ВВП.1.2.157	Какое судно несет изображенные на иллюстрации огни?		<ul style="list-style-type: none"> Пассажирское водоизмещающее судно на переправе. Лежит в дрейфе Пассажирское водоизмещающее судно на переправе. Стоит на якоре Пассажирское водоизмещающее судно на переправе. Стоит у причала Паром канатной переправы
ВВП.1.2.158	Какое судно несет изображенные на иллюстрации огни?		<ul style="list-style-type: none"> Самоходный дноуглубительный снаряд на ходу с волочащимся грунтоподъемником Таких огней для судов не предусмотрено Дноочистительный снаряд, занятый подводными работами Рефулерный снаряд при отвале грунта к правому берегу
ВВП.1.2.159	Какое судно несет изображенный на иллюстрации сигнал?		<ul style="list-style-type: none"> Паром канатной переправы на стоянке у берега Дебаркадер на буксире Судно, лишенное возможности управляться Самоходный <p>дноуглубительный снаряд с волочащимся грунтоподъемником на ходу</p>




ВВП.1.2.160	Какое судно несет изображенный на иллюстрации сигнал?		<ul style="list-style-type: none"> • Парусное судно на якоре • Дноуглубительный снаряд, работающий у правого берега • Рыболовное судно, занятое выборкой трала • Судно с опасными грузами на якоре
ВВП.1.2.161	Какое значение имеет звуковой сигнал из одного короткого звука?		<ul style="list-style-type: none"> • "Я изменяю свой курс влево" • "Мои двигатели работают на задний ход" • "Я намереваюсь сделать оборот" • "Я изменяю свой курс вправо"
ВВП.1.2.162	Какое значение имеет звуковой сигнал из двух коротких звуков?		<ul style="list-style-type: none"> • "Я изменяю свой курс вправо" • "Мои двигатели работают на задний ход" • "Я намереваюсь сделать оборот" • "Я изменяю свой курс влево"

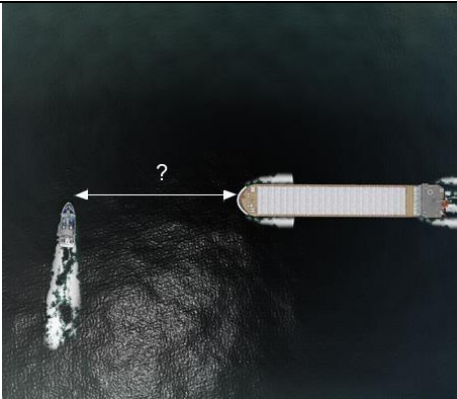


ВВП.1.2.163	Какое значение имеет звуковой сигнал из трех коротких звука?		<ul style="list-style-type: none"> • "Я изменяю свой курс влево" • "Я изменяю свой курс вправо" • "Я намерен сделать оборот" • "Мои движители работают на задний ход"
ВВП.1.2.164	Какие из изображенных на иллюстрации огней принадлежат судну, лишенному возможности управляться?		<ul style="list-style-type: none"> • а • б • в • г
ВВП.1.2.165	Что обозначают изображенные на иллюстрации круговые огни, выставленные в непосредственной близости от судового хода?		<ul style="list-style-type: none"> • Место работы водолазного судна у левой кромки судового хода • Местонахождение затонувшего судна у левой кромки судового хода • Рыболовные сети у правой кромки судового хода • Рыболовные сети у левой кромки судового хода




ВВП.1.2.166	Что обозначают изображенные на иллюстрации круговые огни, выставленные в непосредственной близости от судового хода?		<ul style="list-style-type: none"> • Место работы водолазного судна у правой кромки судового хода • Местонахождение затонувшего судна у правой кромки судового хода • Рыболовные сети у левой кромки судового хода • Рыболовные сети у правой кромки судового хода
ВВП.1.2.167	Какой из звуковых сигналов в условиях ограниченной видимости подает одиночное судно на якоре?		<ul style="list-style-type: none"> • "а" • "в" • "г" • "б"
ВВП.1.2.168	Какие из изображенных на иллюстрации огней принадлежат парому канатной переправы?		<ul style="list-style-type: none"> • "б" • "в" • "г" • "а"




ВВП.1.2.169	Какие из круговых огней выставляются у левой кромки судового хода для обозначения рыболовных сетей?		<ul style="list-style-type: none"> • Зеленые или белые • Зеленые или желтые • Красные • Зеленые, белые или желтые
ВВП.1.2.170	Что обозначают выставленные в непосредственной близости от судового хода желтые поплавки или желтые флаги?		<ul style="list-style-type: none"> • Место работы водолазного судна • Местонахождение затонувшего судна • Границу заплыва для купания • Рыболовные сети
ВВП.1.2.171	Какой цвет должны иметь круговые огни, выставяемые у левой кромки судового хода для обозначения рыболовных сетей?		<ul style="list-style-type: none"> • Белые или синие • Синие • Красные • Белые, зеленые или желтые


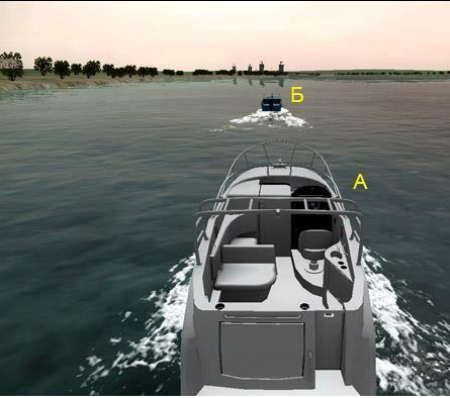

ВВП.1.2.172	Какие из круговых огней выставляются у левой кромки судового хода для обозначения места работы водолазного судна?		<ul style="list-style-type: none"> • Желтые • Зеленые • Красные • Таких огней на рисунке нет
ВВП.1.2.173	Какие из указанных огней принадлежат судну, лишенному возможности управляться и не имеющему хода относительно воды?		<ul style="list-style-type: none"> • "а" • "б" • "в" • "г"
ВВП.1.2.174	Какое значение имеет звуковой сигнал - один продолжительный звук, подаваемый судном в условиях ограниченной видимости?		<ul style="list-style-type: none"> • "Несамоходное судно с экипажем на якоре или на мели в пределах судового хода" • "Одиночные суда или составы на якоре или на мели в пределах судового хода" • "Составы и плоты в движении" • "Одиночные суда в движении"


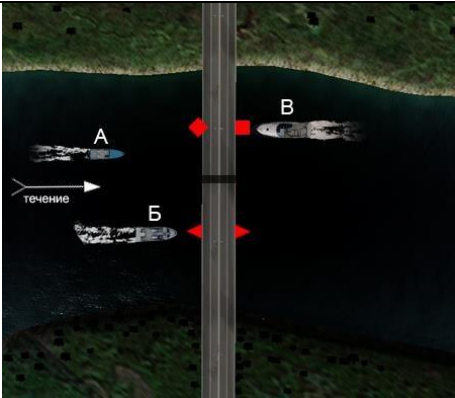

ВВП.1.2.175	<p>Какое значение имеет звуковой сигнал - 1 короткий, 1 продолжительный и 1 короткий звуки, подаваемый судном в условиях ограниченной видимости?</p>		<ul style="list-style-type: none"> • "Несамостоятельное судно с экипажем на якоре или на мели в пределах судового хода" • "Одиночные суда в движении" • "Составы в движении" • "Одиночные суда или составы на якоре или на мели в пределах судового хода"
ВВП.1.2.176	<p>Какое значение имеет звуковой сигнал - частые удары в колокол или металлический предмет, подаваемый судном в условиях ограниченной видимости?</p>		<ul style="list-style-type: none"> • "Одиночные суда в движении" • "Одиночные суда или составы на якоре или на мели в пределах судового хода" • "Составы в движении" • "Несамостоятельное судно с экипажем на якоре или на мели в пределах судового хода"
ВВП.1.2.177	<p>Какие действия должен предпринять судоводитель маломерного судна в районе переката?</p>		<ul style="list-style-type: none"> • Уменьшить ход и пройти перекат, оставляя красные плавучие знаки слева • Подать звуковой сигнал на перекате и оставить белый буй слева • Остановиться перед перекатной мачтой • Проследовать через перекат, соблюдая осторожность, оставив красный буй справа



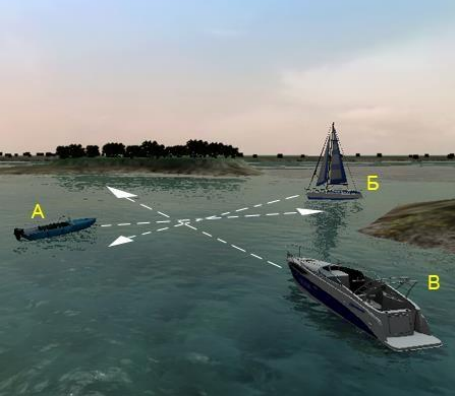
ВВП.1.2.178	На каком минимальном расстоянии от приближающегося судна разрешается пересекать судовой ход маломерному судну?		<ul style="list-style-type: none"> • 0,5 км • 0,8 км • 1,5 км • 1 км
ВВП.1.2.179	Какое из перечисленных действий необходимо предпринять судоводителю маломерного судна, уступая дорогу немаломерному судну?		<ul style="list-style-type: none"> • Подать звуковой сигнал • Подать отмашку и звуковой сигнал • Подать отмашку с соответствующего борта • Уступить дорогу без подачи сигналов
ВВП.1.2.180	В каких пределах маломерное судно может следовать по судовому ходу вдоль правой по ходу кромки, если по условиям пути следовать за пределами судового хода невозможно?		<ul style="list-style-type: none"> • До 7 м • До 20 м • До 15 м • До 10 м




ВВП.1.2.181	Какое из маломерных судов нарушило ППВВП?		<ul style="list-style-type: none"> • "А" • "А" и "Б" • "А" и "Б" правил не нарушили • "Б"
ВВП.1.2.182	Какое из маломерных судов нарушило ППВВП?		<ul style="list-style-type: none"> • "А" и "Б" • "А", "Б" и "В" • "Б" и "В" • "А" и "В"
ВВП.1.2.183	Какое из маломерных судов не нарушает ППВВП?		<ul style="list-style-type: none"> • Только "Б" • Только "В" • только "А" • "А" и "В"

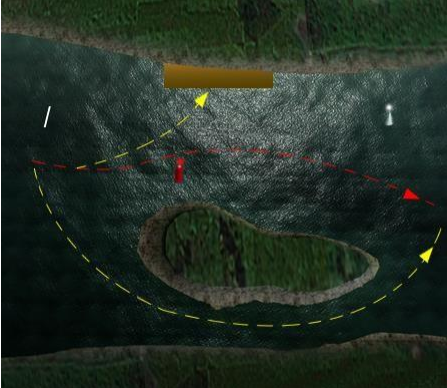


ВВП.1.2.184	Какое из маломерных судов не нарушило ППВВП?		<ul style="list-style-type: none"> • "А" и "Б" • "А" и "Б" нарушили • "Б" • "А"
ВВП.1.2.185	Какое из маломерных судов нарушает ППВВП?		<ul style="list-style-type: none"> • "Б" и "В" • Только "Б" • Только "В" • "А" и "Б"
ВВП.1.2.186	Как называется условная линия, ограничивающая судовой ход по ширине?		<ul style="list-style-type: none"> • Изобата судового хода • Кромка полосы движения • Крайняя ось судового хода • Кромка судового хода



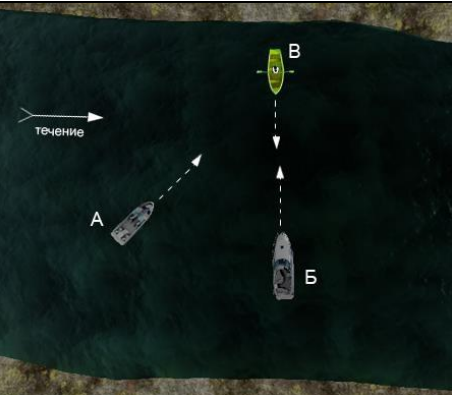
ВВП.1.2.187	Какое из судов имеет приоритет при расхождении в данной ситуации?		<ul style="list-style-type: none"> • "А" и "Б" • "Б" • Ни "А", ни "Б" • "А"
ВВП.1.2.188	С какого борта катер "А" должен оставить при обгоне моторную лодку "Б", согласно требованиям ППВВП?		<ul style="list-style-type: none"> • С любого • С левого при движении вниз • С левого при движении вверх • С правого
ВВП.1.2.189	Какие действия должен предпринять судоводитель маломерного судна "В"?		<ul style="list-style-type: none"> • Следовать намеченным курсом • Повернуть вправо, чтобы пройти за кормой "Б" • Пройти за кормой судна "А" • Осуществить пропуск судов "А" и "Б"

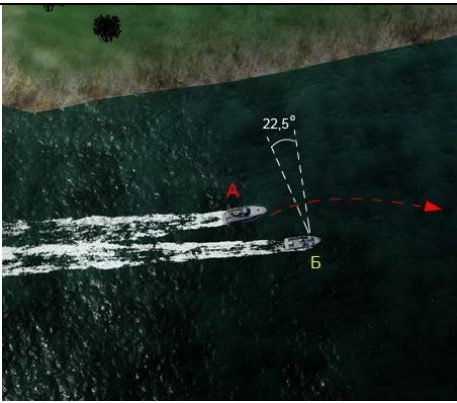


ВВП.1.2.190	Какое из маломерных судов пересекло судовой ход без нарушения ППВВП?		<ul style="list-style-type: none"> • "А" и "Б" нарушили правила • только "А" • только "Б" • "А" и "Б"
ВВП.1.2.191	Какое из маломерных судов не нарушает ППВВП при проходе под мостом?		<ul style="list-style-type: none"> • "Б" и "В" • Только "А" • Только "В" • Только "Б"
ВВП.1.2.192	Какое из маломерных судов нарушило ППВВП в части стоянки и постановки на якорь?		<ul style="list-style-type: none"> • "А" и "Б" • "Б" и "В" • "Г" и "В" • "А" и "Г"

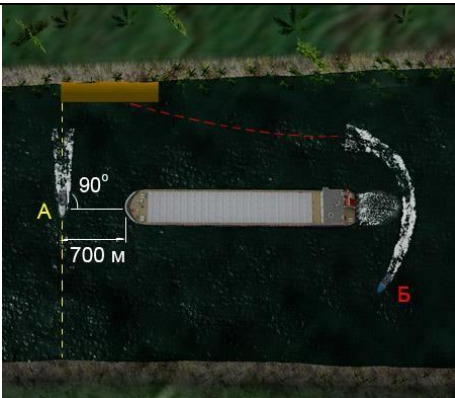


ВВП.1.2.193	Какой из катеров, буксирующих другие суда, не нарушает ППВВП в данной ситуации?		<ul style="list-style-type: none"> • "А" и "Б" нарушают • Только "А" • Только "Б" • "А" и "Б"
ВВП.1.2.194	Какие действия должен предпринять судоводитель в случае неуверенности в оценке ситуации?		<ul style="list-style-type: none"> • Связаться с диспетчером порта по радиосвязи и получить консультацию • Повернуть судно на обратный курс • Подать звуковой сигнал из 5 коротких звуков • Уменьшить ход или прекратить движение судна
ВВП.1.2.195	Какому из маломерных судов "А" и "В" должно уступить дорогу парусное судно "Б"?		<ul style="list-style-type: none"> • "А" • "А" и "В" • "В" • Ни одному из судов



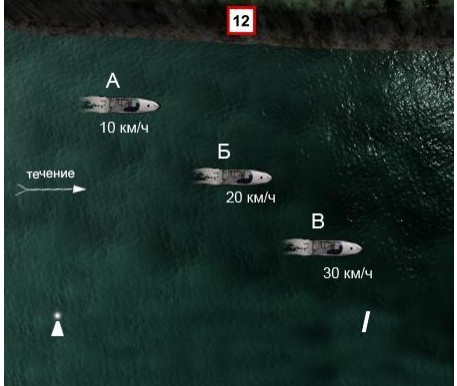
ВВП.1.2.196	Как называется часть судового хода между его осью и правой или левой кромкой судового хода?		<ul style="list-style-type: none"> • Ширина судового хода • Полоса судового хода • Кромка судового хода • Полоса движения
ВВП.1.2.197	Какому из судов ("А" – моторное судно, "В" - парусное судно) должна уступить дорогу гребная лодка "Б"?		<ul style="list-style-type: none"> • "А" • "А" и "В" • Никакому • "В"
ВВП.1.2.198	Какие действия должен предпринять судоводитель маломерного судна "А" при выходе из базы стоянки?		<ul style="list-style-type: none"> • Пропустить "А" и начать движение • Пропустить судно "Б" и начать движение • Выйти с базы, не пропуская "Б" и "В" • Пропустить "Б" и "В" и начать движение


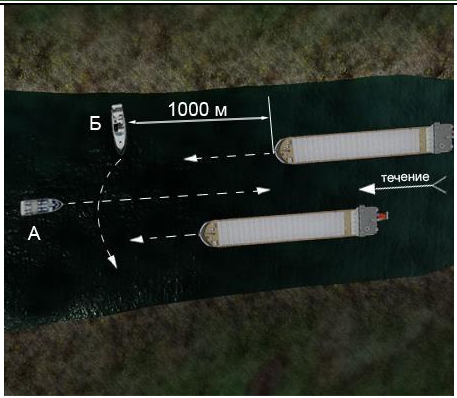

ВВП.1.2.199	<p>Как называется судовой ход, являющийся главным по отношению к другим судовым ходам в данном районе?</p>		<ul style="list-style-type: none"> • Главный судовой ход • Осевой судовой ход • Основная полоса движения • Основной судовой ход
ВВП.1.2.200	<p>Какие из маломерных судов ("А", "Б", "В" и "Г") осуществляет проход под мостом в соответствии с требованиями ППВВП?</p>		<ul style="list-style-type: none"> • "А" и "В" • "А" и "Г" • "Б" и "В" • "Б" и "Г"
ВВП.1.2.201	<p>Как в соответствии с ППВВП называется наименьшая скорость судна, при которой оно сохраняет управляемость?</p>		<ul style="list-style-type: none"> • Безопасная • Экономичная • Эксплуатационная • Минимальная




ВВП.1.2.202	Как называется маневр, связанный с прохождением одного судна относительно другого при встречном плавании?		<ul style="list-style-type: none"> • Уклонение • Пропуск • Отворот • Расхождение
ВВП.1.2.203	Какое маломерное судно ("А" - парусное судно, "Б" - гребная лодка, "В" - моторная лодка) имеет преимущество при расхождении перед другими?		<ul style="list-style-type: none"> • "Б" • "В" • Никакое • "А"
ВВП.1.2.204	Какое маломерное судно ("А" - катер, "Б" - моторная лодка, "В" - безмоторное судно) имеет преимущество при расхождении перед другими?		<ul style="list-style-type: none"> • "А" • "А" и "Б" • "Б" • "В"

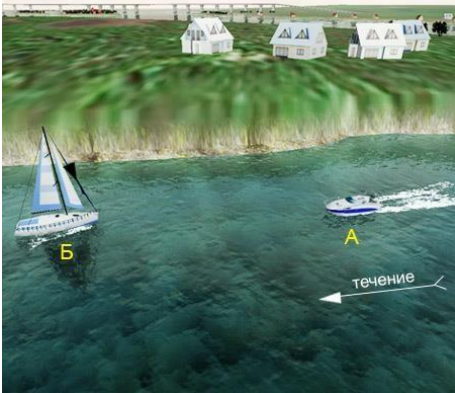


ВВП.1.2.205	<p>Как называется приближение обгоняющего судна "А" к судну "Б" в направлении под углом более 22,5 градусов позади траверза обгоняемого судна и обгон его?</p>		<ul style="list-style-type: none"> • Обход • Опережение • Пропуск • Обгон
ВВП.1.2.206	<p>Как называется судовой ход, отходящий от основного, а затем соединяющийся с ним, а также судовой ход, отходящий от основного, и предназначенный для подхода к берегу, причалам, затонам и т.д.?</p>		<ul style="list-style-type: none"> • Запасной • Обходной • Второстепенный • Дополнительный
ВВП.1.2.207	<p>Что должен сделать судоводитель маломерного судна при резком ухудшении визуальной видимости, если судно имеет устройство для подачи звуковых сигналов, но не оборудовано исправными радиолокационной и радиотелефонной установками?</p>		<ul style="list-style-type: none"> • Уменьшить скорость и подавать звуковые сигналы, предписанные ППВВП • Уменьшить скорость, усилить слуховое и визуальное наблюдение, подавать предписанные ППВВП звуковые сигналы • Продолжить плавание, усилив слуховое и визуальное наблюдение • Прекратить движение




ВВП.1.2.208	Какое из маломерных судов нарушило ППВВП?		<ul style="list-style-type: none"> • "А" и "Б" • "А" и "Б" нарушили • "Б" • "А"
ВВП.1.2.209	Что означает в соответствии с ППВВП термин "судно на ходу"?		<ul style="list-style-type: none"> • Судно, не стоящее на якоре или на мели, и не лежащее в дрейфе • Судно, движение которого осуществляется при помощи двигателя, паруса или мускульной силы • Судно, не стоящее на якоре или на мели, и движение которого осуществляется при помощи двигателя • Судно, не стоящее на якоре, не ошвартованное к берегу, причалу, плавучему сооружению, другому стоящему судну и не стоящее на мели
ВВП.1.2.210	Что означает в соответствии с ППВВП термин "судно на стоянке"?		<ul style="list-style-type: none"> • Судно, стоящее на якоре • Судно, стоящее на якоре, или лежащее в дрейфе • Судно, стоящее на якоре, или ошвартованное к берегу или причалу • Судно, стоящее на якоре, ошвартованное к берегу, причалу, плавучему сооружению или другому стоящему судну


ВВП.1.2.211	Что означает в соответствии с ППВВП термин "безопасная скорость"?		<ul style="list-style-type: none"> • Наименьшая скорость, которая позволяет маневрировать и останавливать судно на минимальном расстоянии в данных условиях и обстоятельствах • Минимальная скорость, при которой судно сохраняет управляемость в данных условиях и обстоятельствах • Скорость, которая обеспечивает управляемость и маневрирование в сложившихся обстоятельствах • Выбранная скорость, которая позволяет обеспечивать безопасное движение, маневрирование и остановку судна в пределах расстояния, требуемого сложившимися обстоятельствами
ВВП.1.2.212	Что означает в соответствии с ППВВП термин "минимальная скорость"?		<ul style="list-style-type: none"> • Скорость, которую судно развивает на самых малых оборотах двигателя • Скорость, которая обеспечивает маневрирование судна на самом малом ходу • Скорость, которая обеспечивает безопасное движение и маневрирование судна • Наименьшая скорость судна, при которой оно сохраняет управляемость в данных условиях и обстоятельствах
ВВП.1.2.213	Какие из маломерных судов нарушили ППВВП в районе действия приведенного на иллюстрации берегового информационного знака?		<ul style="list-style-type: none"> • "А" и "Б" • "А" и "В" • "А", "Б" и "В" • "Б" и "В"




ВВП.1.2.214	Какие из маломерных судов нарушили ППВВП в районе действия приведенного берегового информационного знака?		<ul style="list-style-type: none"> • "А" и "Б" • "А" и "В" • "Б" и "В" • "А", "Б" и "В"
ВВП.1.2.215	Какое из маломерных моторных судов нарушает в данной ситуации ППВВП?		<ul style="list-style-type: none"> • "А" • "А" и "Б" не нарушают • "Б" • "А" и "Б"
ВВП.1.2.216	Как должен производиться обгон маломерным судном другого маломерного судна?		<ul style="list-style-type: none"> • По правому борту обгоняемого судна • По правому борту при следовании вниз • По правому борту при следовании вверх • По левому борту обгоняемого судна





ВВП.1.2.217	Какое из маломерных судов нарушило ППВВП в районе действия указанного знака?		<ul style="list-style-type: none"> • "А" и "Б" • "А" и "В" • "В" и "Б" • Никакое
ВВП.1.2.218	Как в соответствии с ППВВП маломерное судно должно обгонять немаломерное судно?		<ul style="list-style-type: none"> • По любому борту • По левому борту • По борту, который укажет отмашкой немаломерное судно • По правому борту, находясь в разрешенной для маломерных судов полосе движения
ВВП.1.2.219	Какое (-ие) из маломерных судов ("А", "Б" и "В") осуществляет (ют) проход под мостом с нарушением ППВВП?		<ul style="list-style-type: none"> • "А" • "А" и "В" • "Б" и "В" • "А", "Б" и "В"

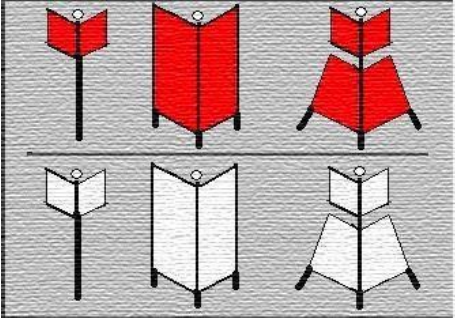
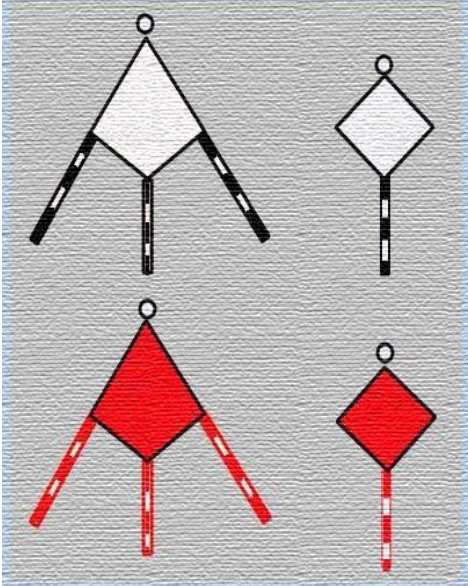
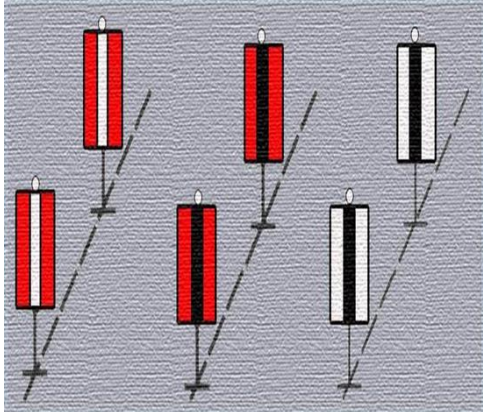
ВВП.1.2.220	Какое из маломерных судов имеет преимущество при расхождении?		<ul style="list-style-type: none"> • "А" и "Б" • Только "А" • Только "Б" • Ни одно из них
ВВП.1.2.221	Какие в соответствии с ППВВП звуковые сигналы должно подавать маломерное судно при обгоне немаломерного судна?		<ul style="list-style-type: none"> • Два коротких звука при обгоне по левому борту • Один короткий звук при обгоне по правому борту • Три коротких звука • Сигналы не подаются
ВВП.1.2.222	Как в соответствии с ППВВП должен производиться обгон маломерным судном "А" немаломерного судна в данной ситуации?		<ul style="list-style-type: none"> • По любому борту • По левому борту обгоняемого судна • Оставить обгоняемое судно справа • По правому борту немаломерного судна

ВВП.1.2.223	В каком случае маломерное судно может идти по судовому ходу вдоль правой по ходу кромки в пределах до 10 м от нее?		<ul style="list-style-type: none"> • Если на судовом ходу нет встречных немаломерных судов • Если на судовом ходу в пределах видимости нет немаломерных судов • Если маломерное судно оборудовано зрительной и звуковой сигнализацией • Если, по условиям пути, следование за кромкой невозможно
ВВП.1.2.224	Как в соответствии с ППВВП называется частный случай расхождения, когда хотя бы одно из судов остановилось или уменьшило скорость до минимальной?		<ul style="list-style-type: none"> • "Маневр" • "Обгон" • "Отстой" • "Пропуск"
ВВП.1.2.225	Какие действия должен предпринять судоводитель маломерного судна "А", если для него становится очевидным, что судно "Б" не предпринимает соответствующих действий для избежания столкновения?		<ul style="list-style-type: none"> • Запустить ракету в сторону судна "Б" • Обратить на себя внимание подачей сигналов флагомотмашкой • Подать звуковой сигнал из 5 коротких звуков

ВВП.1.2.226	С какого борта в соответствии с ППВВП при буксировке "лагом" должно быть ошвартовано буксируемое судно по отношению к буксировщику?		<ul style="list-style-type: none"> • С любого • С левого • С левого при движении вверх (против течения) • С правого
ВВП.1.2.227	При каких условиях разрешается плавание маломерного судна при ограниченной видимости?		<ul style="list-style-type: none"> • Плавание не разрешается ни при каких условиях • При наличии компаса и туманного горна • При наличии радиолокационной станции (РЛС), исправного компаса и радиостанции УКВ • При наличии исправных УКВ-радиостанции, компаса и туманного горна (сирены) и радиолокационной станции (РЛС)
ВВП.1.2.228	При какой видимости маломерным судам запрещается выходить на судовой ход?		<ul style="list-style-type: none"> • Менее 2,0 км • Менее 0,5 км • Менее 0,8 км • Менее 1,0 км





ВВП.1.2.229	В каком случае маломерному судну разрешается останавливаться или становиться на якорь в пределах судового хода?		<ul style="list-style-type: none"> • При поломке двигателя • Если впереди нет приближающихся судов • Если расстояние до кромки судового хода менее 10 м • Таких случаев не предусмотрено
ВВП.1.2.230	Внутренние водные пути РФ. Указанный на рисунке навигационный знак – это		<ul style="list-style-type: none"> • Пересечение судового хода • Внимание • Скорость ограничена • Соблюдать надводный габарит
ВВП.1.2.231	Огонь, устанавливаемый на навигационном знаке, ограждающем правую кромку судового хода, может быть		<ul style="list-style-type: none"> • Зеленый • Белый • Желтый • Красный

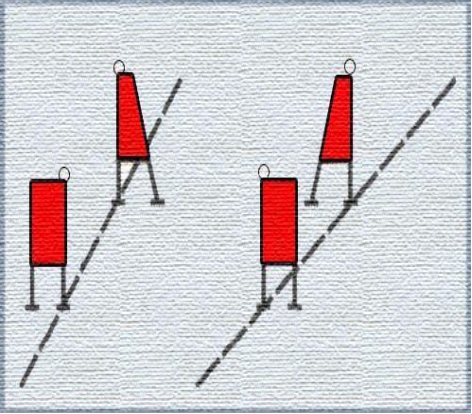



ВВП.1.2.232	Что обозначает изображенный на иллюстрации навигационный знак?		<ul style="list-style-type: none"> • Левую кромку судового хода • Правую кромку судового хода • Поворот судового хода в сторону левого берега • Поворот судового хода в сторону правого берега
ВВП.1.2.233	Что обозначает изображенный на иллюстрации навигационный знак?		<ul style="list-style-type: none"> • Поворот оси судового хода • Разделение судового хода • Свал воды на правую кромку судового хода • Свал воды на левую кромку судового хода
ВВП.1.2.234	Что обозначает изображенный на иллюстрации навигационный знак?		<ul style="list-style-type: none"> • Место оборота судов • Пост судоходной инспекции • Указатель рейда • Поворот судового хода
ВВП.1.2.235	Что обозначает изображенный на иллюстрации навигационный знак?		<ul style="list-style-type: none"> • Поворот судового хода в сторону правого берега • Левую кромку судового хода • Правую кромку судового хода • Поворот судового хода в сторону левого берега

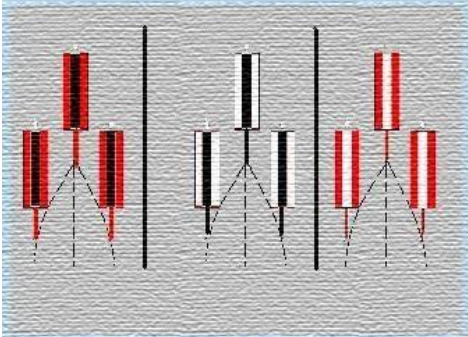


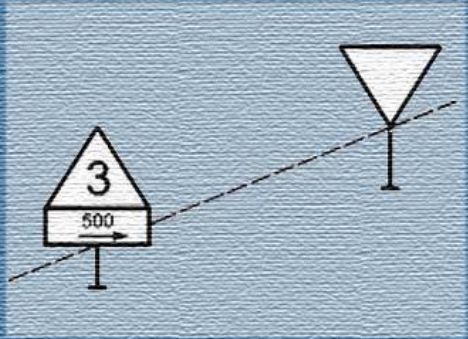
ВВП.1.2.236	Какой навигационный знак изображен на иллюстрации?		<ul style="list-style-type: none"> • Перевальный, для обозначения направления судового хода • Линейный (осевой), створный для обозначения направления оси судового хода • Ходовой, для обозначения судового хода, расположенного вдоль берега • Весенний, для обозначения затопленных берегов
ВВП.1.2.237	Какой навигационный знак изображен на иллюстрации?		<ul style="list-style-type: none"> • Ходовой, для обозначения судового хода, расположенного вдоль берега • Перевальный, для обозначения направления судового хода • Весенний, для обозначения затопленных берегов • «Ориентир» для обозначения характерных береговых мест судового хода
ВВП.1.2.238	Какой навигационный знак изображен на иллюстрации?		<ul style="list-style-type: none"> • Линейный (осевой) створный, для обозначения направления оси судового хода • Щелевой створный, для обозначения положения судового хода и его кромок • Кромочный створный, для обозначения кромок судового хода и его направления • Ходовой, для обозначения судового хода, расположенного вдоль берега

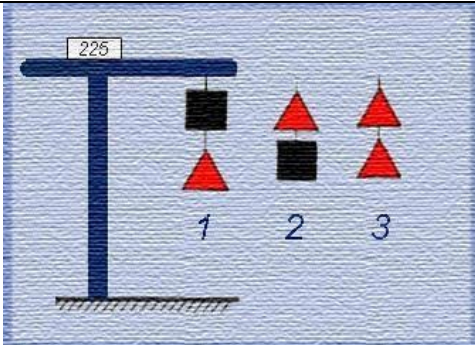


ВВП.1.2.239	Что обозначает изображенный на иллюстрации навигационный знак?		<ul style="list-style-type: none"> • Поворот судового хода в сторону левого берега • Левую кромку судового хода • Правую кромку судового хода • Поворот судового хода в сторону правого берега
ВВП.1.2.240	Что обозначает изображенный на иллюстрации навигационный знак?		<ul style="list-style-type: none"> • Якоря не бросать • Расхождение и обгон запрещены • Расхождение и обгон составов запрещены • Не создавать волнения
ВВП.1.2.241	Что обозначает изображенный на иллюстрации навигационный знак?		<ul style="list-style-type: none"> • Расхождение и обгон составов запрещены • Расхождение и обгон запрещены • Якоря не бросать • Не создавать волнения




ВВП.1.2.242	Что обозначает изображенный на иллюстрации навигационный знак?		<ul style="list-style-type: none"> • Свал воды на левую кромку судового хода • Разделение судового хода • Свал воды на правую кромку судового хода • Поворот оси судового хода
ВВП.1.2.243	Какой навигационный знак изображен на иллюстрации?		<ul style="list-style-type: none"> • «Ориентир», для обозначения характерных береговых мест судового хода • Перевальный, для обозначения направления судового хода • Весенний, для обозначения затопленных берегов • Ходовой, для обозначения судового хода, расположенного вдоль берега
ВВП.1.2.244	Что обозначает изображенный на иллюстрации навигационный знак?		<ul style="list-style-type: none"> • Не создавать волнения • Расхождение и обгон запрещены • Расхождение и обгон составов запрещены • Якоря не бросать





ВВП.1.2.245	Что обозначает изображенный на иллюстрации навигационный знак?		<ul style="list-style-type: none"> • Опасные места и навигационные препятствия у правой кромки судового хода • Левую кромку судового хода • Правую кромку судового хода • Опасные места и навигационные препятствия у левой кромки судового хода
ВВП.1.2.246	Что обозначает изображенный на иллюстрации навигационный знак?		<ul style="list-style-type: none"> • Движение мелких плавсредств запрещено • Расхождение и обгон запрещены • Расхождение и обгон составов запрещены • Не создавать волнения
ВВП.1.2.247	Что обозначает изображенный на иллюстрации навигационный знак?		<ul style="list-style-type: none"> • Пост судоходной инспекции • Место оборота судов • Указатель рейда • «Якоря не бросать»
ВВП.1.2.248	Что обозначает изображенный на иллюстрации навигационный знак?		<ul style="list-style-type: none"> • Опасные места и навигационные препятствия у левой кромки судового хода • Левую кромку судового хода • Правую кромку судового хода • Опасные места и навигационные препятствия у правой кромки судового хода

ВВП.1.2.249	Какой навигационный знак изображен на иллюстрации?		<ul style="list-style-type: none"> • Кромочный створный, для обозначения кромок судового хода и его направления • Перевальный, для обозначения направления судового хода • Линейный (осевой) створный, для обозначения направления оси судового хода • Щелевой створный, для обозначения положения судового хода и его кромок
ВВП.1.2.250	Что обозначает изображенный на иллюстрации навигационный знак?		<ul style="list-style-type: none"> • Скорость ограничена • Внимание • Пересечение судового хода • Соблюдать надводный габарит
ВВП.1.2.251	Что обозначает изображенный на иллюстрации навигационный знак?		<ul style="list-style-type: none"> • Поворот судового хода в сторону правого берега • Левую кромку судового хода • Правую кромку судового хода • Поворот судового хода в сторону левого берега
ВВП.1.2.252	Что обозначает изображенный на иллюстрации навигационный знак?		<ul style="list-style-type: none"> • Расхождение и обгон запрещены • Расхождение и обгон составов запрещены • Якоря не бросать • Не создавать волнения

ВВП.1.2.253	Какой навигационный знак изображен на иллюстрации?		<ul style="list-style-type: none"> • Щелевой створный, для обозначения положения судового хода и его кромок • Линейный (осевой) створный, для обозначения направления оси судового хода • Весенний, для обозначения затопленных берегов • Ходовой, для обозначения судового хода, расположенного вдоль берега
ВВП.1.2.254	Что обозначает изображенный на иллюстрации навигационный знак?		<ul style="list-style-type: none"> • Левую кромку судового хода • Правую кромку судового хода • Поворот судового хода в сторону левого берега • Поворот судового хода в сторону правого берега
ВВП.1.2.255	Какой навигационный знак изображен на иллюстрации?		<ul style="list-style-type: none"> • Соблюдать надводный габарит • Пересечение судового хода • Внимание • Скорость ограничена
ВВП.1.2.256	Какой навигационный знак изображен на иллюстрации?		<ul style="list-style-type: none"> • Указатель рейда • Пост судоходной инспекции • Место оборота судов • Стоянка запрещена

ВВП.1.2.257	Какой навигационный знак изображен на иллюстрации?		<ul style="list-style-type: none"> • Семафор • Сигнальная мачта • Указатель рейда • Пост судоходной инспекции
ВВП.1.2.258	Что обозначает изображенный на иллюстрации навигационный знак?		<ul style="list-style-type: none"> • Поворот судового хода в сторону левого берега • Левую кромку судового хода • Правую кромку судового хода • Поворот судового хода в сторону правого берега
ВВП.1.2.259	Что обозначает изображенный на иллюстрации навигационный знак?		<ul style="list-style-type: none"> • Поворот оси судового хода • Разделение судового хода • Свал воды на правую кромку судового хода • Свал воды на левую кромку судового хода


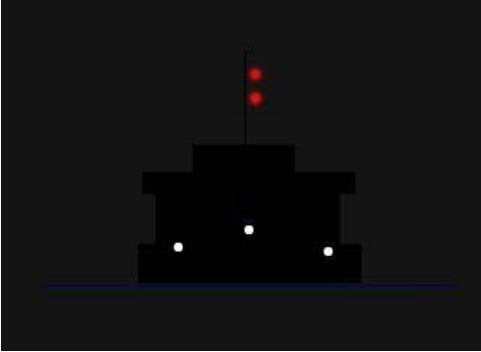

ВВП.1.2.260	Что обозначает изображенный на иллюстрации навигационный знак?		<ul style="list-style-type: none"> • Левую кромку судового хода • Правую кромку судового хода • Поворот судового хода в сторону левого берега • Поворот судового хода в сторону правого берега
ВВП.1.2.261	Что обозначает изображенный на иллюстрации навигационный знак?		<ul style="list-style-type: none"> • Свал воды на правую кромку судового хода • Разделение судового хода • Свал воды на левую кромку судового хода • Поворот оси судового хода
ВВП.1.2.262	Что обозначает изображенный на иллюстрации навигационный знак?		<ul style="list-style-type: none"> • Ось судового хода • Разделение судового хода • Свал воды на правую кромку судового хода • Свал воды на левую кромку судового хода

ВВП.1.2.263	Что обозначает изображенный на иллюстрации навигационный знак?		<ul style="list-style-type: none"> • Разделение судового хода • Свал воды на правую кромку судового хода • Свал воды на левую кромку судового хода • Поворот оси судового хода
ВВП.1.2.264	Что обозначает изображенный на иллюстрации навигационный знак?		<ul style="list-style-type: none"> • Разделение судового хода • Свал воды на правую кромку судового хода • Свал воды на левую кромку судового хода • Поворот оси судового хода
ВВП.1.2.265	Что обозначает изображенный на иллюстрации навигационный знак?		<ul style="list-style-type: none"> • Опасные места и навигационные препятствия у правой кромки судового хода • Левую кромку судового хода • Правую кромку судового хода • Опасные места и навигационные препятствия у левой кромки судового хода
ВВП.1.2.266	Что обозначает изображенный на иллюстрации навигационный знак?		<ul style="list-style-type: none"> • Внимание • Скорость ограничена • Пересечение судового хода • Соблюдать надводный габарит

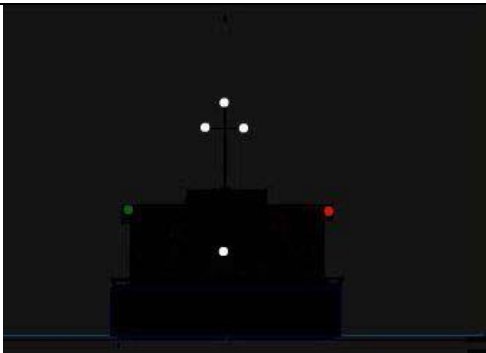


ВВП.1.2.267	Что обозначает изображенный на иллюстрации навигационный знак?		<ul style="list-style-type: none"> • Свал воды на левую кромку судового хода • Разделение судового хода • Свал воды на правую кромку судового хода • Поворот оси судового хода
ВВП.1.2.268	Два самоходных судна, изображенные на рисунке		<ul style="list-style-type: none"> • Соединены бортами, выполняют буксировку на тросе состава с опасным грузом, следуют курсом на нас • Соединены бортами, выполняют буксировку на тросе сухогрузного состава, следуют курсом на нас • Соединены бортами, выполняют буксировку на тросе плотового состава, следуют курсом на нас • Соединены бортами, следуют курсом на нас
ВВП.1.2.269	Самоходное судно, изображенное на рисунке, следует курсом на нас и занято буксировкой на тросе		<ul style="list-style-type: none"> • Сухогрузного состава • Состав с опасным грузом • Плотового состава • Смешанного состава

ВВП.1.2.270	Любое обгоняемое судно, кроме парусного, при обгоне его другим парусным судном должно		<ul style="list-style-type: none"> • Обеспечить проход обгоняющего судна с наветренной стороны • Обеспечить проход обгоняющего судна с подветренной стороны • Изменить курс и уйти с пути обгоняющего судна • Не допускать отклонения от своего пути и уменьшить
ВВП.1.2.271	Внутренние водные пути РФ. Вы наблюдаете навигационные огни следующего курсом от нас одиночного самоходного судна		<ul style="list-style-type: none"> • Шириной более 5 м • Шириной 5 м и менее • Шириной 5 м и менее, при работе на переправе • Судходного надзора, шириной 5 м и менее
ВВП.1.2.272	Укажите тип судна		<ul style="list-style-type: none"> • Самоходный дноуглубительный снаряд на ходу при заборе грунта • Судно, занятое водолазными работами • Судно, занятое протаскиванием траловых сетей или другого орудия лова рыбы • Судно судходного надзора




ВВП.1.2.273	Если два судна идут встречными курсами таким образом, что может возникнуть опасность столкновения, то		<ul style="list-style-type: none"> • Каждое судно должно изменить курс вправо с тем, чтобы они могли разойтись левыми бортами • Судно, идущее вверх, должно изменить курс вправо с тем, чтобы они могли разойтись левыми бортами • Судно, идущее вверх, должно уменьшить ход или остановиться и подать сигнал "Предупреждение" • Каждое судно должно уменьшить ход или остановиться и согласовать по радиосвязи дальнейшие действия
ВВП.1.2.274	Если два маломерных судна идут курсами, пересекающимися таким образом, что может возникнуть опасность столкновения, то		<ul style="list-style-type: none"> • Маломерные не моторные суда и суда, не идущие под парусом, должны уступить дорогу парусным судам • Парусные суда должны уступить дорогу всем другим маломерным судам • Маломерные не моторные суда и суда, не идущие под парусом, должны уступить дорогу парусным судам, находящим на правых курсовых углах • Парусные суда, должны уступить дорогу, маломерным не моторные суда и судам, не идущих под парусом, находящим на правых курсовых углах
ВВП.1.2.275	В тех случаях, когда положениями настоящих Правил предусмотрены звуковые сигналы, маломерные суда должны подавать их		<ul style="list-style-type: none"> • Посредством колокола или рожка • Криком • Свистом • Ударами гаечного ключа по релингу или мачте



ВВП.1.2.276	Не нарушая положений Правил плавания на ВВП, судоводители должны выбрать место якорной стоянки		<ul style="list-style-type: none"> • Как можно ближе к берегу, насколько это позволяют осадка и местные условия, и так, чтобы не препятствовать судоходству • Только на рейдах и в местах, указанных на карте и (или) на местности • Как можно ближе к кромке судового хода • В конечных пунктах - на рейдах, в пути следования - в удобном месте в пределах судового хода
ВВП.1.2.277	Вы наблюдаете навигационные огни		<ul style="list-style-type: none"> • Одиночного самоходного судна (шириной более 5 м) лишенного возможности управляться, и имеет ход относительно воды, следует курсом от нас • Одиночного самоходного судна, лишенного возможности управляться, имеет ход относительно воды, следует курсом от нас • Судна (состава), лишенного возможности управляться, не имеет хода относительно воды • Буксирного состава, лишенного возможности управляться, имеет ход относительно воды, следует курсом от нас
ВВП.1.2.278	Вы наблюдаете навигационные огни следующего курсом от нас одиночного самоходного судна		<ul style="list-style-type: none"> • Шириной 5 м и менее • Шириной более 5 м • Шириной 5 м и менее, при работе на переправе • Шириной более 5 м, при работе на переправе




ВВП.1.2.279	На рисунке изображен следующий вправо от нас буксирный состав		<ul style="list-style-type: none"> • С несамоходными судами, длиной более 50 м • С двумя несамоходными судами • С несамоходными судами, длиной менее 50 м • С одним несамоходным судном
ВВП.1.2.280	При постановке судна на якорь на судовом ходу судоводитель обязан, используя все доступные средства связи, уведомить об этом		<ul style="list-style-type: none"> • Диспетчера движения судов • Участковую инспекцию судоходного надзора • Судовладельца • Диспетчера пункта назначения
ВВП.1.2.281	При сближении с немаломерными судами, маломерное судно должно		<ul style="list-style-type: none"> • Заблаговременно уходить с их пути без обмена звуковыми и зрительными сигналами • Подать «отмашку», чтобы указать сторону расхождения • Согласовать сторону расхождения по УКВ радиосвязи • Подать звуковой сигнал «Предупреждение», чтобы обратить на себя внимание приближающегося судна





ВВП.1.2.282	На рисунке вы наблюдаете навигационные огни следующего курсом на нас		<ul style="list-style-type: none"> • Толкаемого сухогрузного состава с несамоходными судами, соединенными в кильватер • Толкаемого сухогрузного состава с одним несамоходным судном • Толкаемого сухогрузного состава • Толкаемого сухогрузного состава с толкачом шириной 5 м и менее
ВВП.1.2.283	Как следует поступить в случаях, когда два судна идут пересекающимися курсами так, что возникает опасность столкновения?		<ul style="list-style-type: none"> • Судно, которое имеет другое судно на своей правой стороне, должно уступить ему дорогу • Каждое из них должно изменить свой курс вправо с тем чтобы разойтись левыми бортами • По радиотелефонной связи согласовать сторону расхождения • Каждое из них должно изменить свой курс влево с тем чтобы разойтись правыми бортами
ВВП.1.2.284	Запрещается пересечение судном полосы движения или всего судового хода		<ul style="list-style-type: none"> • На расстоянии менее 1 км от приближающихся судов без согласования взаимных действий • На расстоянии менее 1 км от приближающихся судов • По носу приближающихся судов • Без предварительной подачи звукового сигнала - четыре коротких звука




ВВП.1.2.285	В случае, когда по условиям пути маломерным судам следование в установленных границах невозможно, они могут		<ul style="list-style-type: none"> Идти по судовому ходу вдоль правой по ходу кромки в пределах до 10 м от нее Идти по судовому ходу вдоль правой по ходу кромки в пределах до 50 м от нее Идти по судовому ходу вдоль правой по ходу кромки в пределах от нее до 0,5 ширины полосы движения Идти в пределах судового хода
ВВП.1.2.286	На рисунке изображена		<ul style="list-style-type: none"> Буксировка сухогрузного состава двумя самоходными судами, соединенными в кильватер Буксировка плотового состава двумя самоходными судами, соединенными в кильватер Буксировка состава из двух самоходных судов с опасным грузом, соединенными в кильватер Буксировка самоходного судна другим самоходным судном
ВВП.1.2.287	Запрещается расхождение судов		<ul style="list-style-type: none"> В пределах 500 м выше и ниже мостов, если движение осуществляется через один пролет (кроме скоростных) В пределах 1 км выше и ниже мостов, если движение осуществляется через один пролет (кроме скоростных) В пределах 500 м выше и ниже мостов (кроме скоростных) В пределах 1 км выше и ниже наплавных мостов (кроме скоростных)




ВВП.1.2.288	При подходе к затруднительному и не просматриваемому участку судно должно		<ul style="list-style-type: none"> • Сообщить о подходе по радиотелефонной связи, уменьшить ход и подать сигнал "Один продолжительный звук" • Сообщить о подходе по радиотелефонной связи, уменьшить ход и подать сигнал "Два продолжительных звука" • Объявиться о подходе по радиотелефонной связи • Объявить по радиотелефонной связи о занятии данного участка
ВВП.1.2.289	При приближении к участкам, где расхождение запрещено		<ul style="list-style-type: none"> • Судно, идущее вверх, должно остановиться в безопасном месте и пропустить судно, идущее вниз • Судно, идущее вниз, должно остановиться в безопасном месте и пропустить судно, идущее вверх • Толкаемый или буксируемый состав должен остановиться и пропустить одиночное самоходное судно • Одиночное самоходное судно должно остановиться и пропустить толкаемый или буксируемый состав
ВВП.1.2.290	Какое судно движется курсом на нас?		<ul style="list-style-type: none"> • Парусное судно длиной 20 м и более • Парусное судно длиной менее 7 м • Парусное судно длиной от 7 до 20 м • Парусно-моторное судно, идущее под мотором или парусом и мотором



ВВП.1.2.291	В случае, когда по условиям пути или каким-либо другим причинам, пропуск по левому борту невозможно		<ul style="list-style-type: none"> • Судно, идущее вверх, должно заблаговременно перейти на левую по ходу сторону в наиболее удобное место, убавить ход или остановиться и осуществить пропуск встречного судна по правому борту • Судно, идущее вниз, должно заблаговременно перейти на левую по ходу сторону в наиболее удобное место, убавить ход или остановиться и осуществить пропуск встречного судна по правому борту • Судно, идущее вверх, должно остановиться и дожидаться прохождения судна, идущего вниз, в наиболее удобном месте • Допускается, как исключение, расхождение правыми бортами
ВВП.1.2.292	Пересечение судном полосы движения или всего судового хода должно производиться		<ul style="list-style-type: none"> • Под углом, близким к прямому • Под меньшим углом по отношению оси судового хода • Только под кормой судов, следующих в полосе движения • Без предварительной подачи звукового сигнала - четыре коротких звука





ВВП.1.2.293	При расхождении судно, идущее вниз, должно		<ul style="list-style-type: none"> • Принять и незамедлительно подтвердить указанную сторону расхождения (пропуска) подачей отмашки • Согласовать свои действия по радиотелефонной связи и подать отмашку с левого борта • Подать маневроуказующий звуковой сигнал и отмашку с левого борта • Подать маневроуказующий звуковой сигнал и отмашку на расхождение с соответствующего борта
ВВП.1.2.294	Каждое судно при расхождении со встречными судами левыми бортами должно		<ul style="list-style-type: none"> • Своевременно уклониться вправо, на сколько это необходимо и безопасно • Своевременно уклониться вправо • Своевременно уклониться вправо и уменьшить скорость хода
ВВП.1.2.295	Маломерные и парусные суда могут пересекать судовой ход (полосу движения, рекомендованный курс)		<ul style="list-style-type: none"> • Как правило, за кормой проходящих судов под углом, близким к прямому • За кормой проходящих судов под небольшим углом к оси судового хода • Не ближе 500 м от проходящих судов




ВВП.1.2.296	На рисунке изображено следующее курсом на нас самоходное судно, занятое буксировкой		<ul style="list-style-type: none"> • Плотового состава на тросе • Сухогрузного состава на тросе • Состава с опасным грузом на тросе • Смешанного состава на тросе
ВВП.1.2.297	На рисунке изображено		<ul style="list-style-type: none"> • Одинокое самоходное судно с опасным грузом, длиной 50 м и более • Одинокое самоходное судно ограниченное в возможности маневрировать, длиной 50 м и более • Одинокое самоходное судно с опасным грузом, длиной менее 50 м • Одинокое самоходное судно лишенное возможности управляться
ВВП.1.2.298	На рисунке изображено одинокое самоходное судно с опасным грузом		<ul style="list-style-type: none"> • Длиной 50 м и более, следует курсом на нас • Следует курсом на нас • Длиной до 50 м, следует курсом на нас • Шириной более 5 м, следует курсом на нас
ВВП.1.2.299	На рисунке изображено		<ul style="list-style-type: none"> • Судно, занятое протаскиванием траловых сетей или другого орудия лова рыбы, идет курсом на нас • Самоходный дноуглубительный снаряд на ходу при заборе грунта, следует курсом на нас • Судно, занятое водолазными работами • Судно, занятое устранением девиации



ВВП.1.2.300	Запрещается расхождение и обгон судов		<ul style="list-style-type: none"> • В зоне расположения аварийно-ремонтных, заградительных ворот каналов • В зоне 1км от аварийно-ремонтных, заградительных ворот каналов • В зоне 500 м от аварийно-ремонтных, заградительных ворот каналов • При красном огне светофора в зоне расположения аварийно- ремонтных, заградительных ворот каналов
ВВП.1.2.301	Вы наблюдаете на рисунке		<ul style="list-style-type: none"> • Паром канатной паромной переправы на ходу • Судно, работающее на паромной переправе • Судно, занятое изыскательскими работами • Судно, занятое ловом рыбы, не имеющее хода относительно воды
ВВП.1.2.302	Когда судно, терпящее бедствие, просит о помощи, оно подает		<ul style="list-style-type: none"> • Непрерывно повторяющие продолжительные звуковые сигналы • Непрерывные удары в колокол • Один продолжительный звуковой сигнал • Сигнал из серии коротких звуков • Один продолжительный, один короткий и один продолжительный звуки

ВВП.1.2.303	Укажите тип судна		<ul style="list-style-type: none"> • Толкаемый состав, с толкачом шириной 5 м и менее, следует курсом от нас • Толкаемый состав, с толкачом шириной более 5 м, следует курсом от нас • Буксирный состав, шириной 5 м и менее, следует курсом от нас • Буксирный состав, шириной более 5 м, следует курсом от нас
ВВП.1.2.304	Укажите тип судна		<ul style="list-style-type: none"> • Дноуглубительный снаряд, работает на левой кромке судового хода • Дноуглубительный снаряд, работает на правой кромке судового хода • Рефулерный снаряд, работает на левой кромке судового хода • Рефулерный снаряд, работает на правой кромке судового хода
ВВП.1.2.305	Что обозначают знаки, поднятые на судне?		<ul style="list-style-type: none"> • Терпящее бедствие судно нуждается в помощи • Судно, стоящее на карантине • Судно, устраняющее девиацию • Судно, ограниченное в возможности маневрирования


ВВП.1.2.306	Судно, когда оно намерено предупредить другое судно об опасности, должно подавать сигнал "Предупреждение", состоящее из ...		<ul style="list-style-type: none"> • Серии коротких, не менее 5, звуков • Четырех коротких звуков • Серии продолжительных звуков • Продолжительного звука
ВВП.1.2.307	На рисунке Вы наблюдаете навигационные огни судна, занятого		<ul style="list-style-type: none"> • Водолазными работами • Протаскиванием траловых сетей или другого орудия лова рыбы • Подводными работами (без водолаза) • Устранением девиации
ВВП.1.2.308	На рисунке изображено		<ul style="list-style-type: none"> • Парусное судно длиной 20 м и более, следует курсом от нас • Парусное судно длиной от 7 до 20 м, следует курсом на нас • Парусное судно длиной менее 7м или гребное судно на ходу • Парусно-моторное судно, идущее под мотором или парусом и мотором, следует курсом от нас




ВВП.1.2.309	На рисунке изображен следующий курсом влево от нас буксирный состав ...		<ul style="list-style-type: none"> • С двумя несамоходными судами с нефтегрузом • С тремя несамоходными судами с нефтегрузом • С одним несамоходным судном длиной более 50 м с опасным грузом
ВВП.1.2.310	Укажите тип судна		<ul style="list-style-type: none"> • Толкаемый состав, с толкачом шириной более 5 м, следует курсом от нас • Толкаемый состав, с толкачом шириной 5 м и менее, следует курсом от нас • Буксирный состав, шириной 5 м и менее, следует курсом от нас • Буксирный состав, шириной более 5 м, следует курсом от нас
ВВП.1.2.311	Вы наблюдаете навигационные огни следующего курсом от нас судна		<ul style="list-style-type: none"> • Занятого буксировкой • Занятого буксировкой, шириной 5 м и менее • Занятого буксировкой, шириной более 5 м • Занятого буксировкой, при работе на переправе
ВВП.1.2.312	На рисунке изображено		<ul style="list-style-type: none"> • Парусное судно длиной от 7 до 20 м, следует курсом на нас • Парусное судно длиной 20 м и более, следует курсом на нас • Парусное судно длиной менее 7м или гребное судно на ходу • Парусно-моторное судно, идущее под мотором или парусом и мотором, следует курсом на нас




ВВП.1.2.313	В случае, когда по условиям пути или каким-либо другим причинам расхождение затруднено		<ul style="list-style-type: none"> • Судно, идущее вверх, должно регулировать свое движение таким образом, чтобы встреча произошла в наиболее удобном месте • Судно, идущее вниз, должно регулировать свое движение таким образом, чтобы встреча произошла в наиболее удобном месте • Судно, идущее вверх, должно встать на якорь и дожидаться прохождения судна, идущего вниз, в наиболее удобном месте • Судно, идущее вверх, должно регулировать движение своего судна и судна, идущего вниз, таким образом, чтобы встреча произошла в наиболее удобном месте
ВВП.1.2.314	На рисунке изображено		<ul style="list-style-type: none"> • Парусное судно длиной менее 7м или гребное судно на ходу • Парусно-моторное судно, идущее под мотором или парусом и мотором, следует курсом от нас • Парусное судно длиной от 7 до 20 м, следует курсом на нас • Парусное судно длиной 20 м и более, следует курсом от нас
ВВП.1.2.315	Маломерным судам НЕ запрещается		<ul style="list-style-type: none"> • Маневрировать и • останавливаться вблизи идущих или стоящих судов и в промежутках между ними • Останавливаться и становиться на якорь в пределах судового хода, а также у плавучих навигационных знаков • Выходить на судовый ход при ограниченной (менее 1км) видимости, а парусным судам, кроме того, и ночью • Движение в пролет моста, предназначенный для других судов




ВВП.1.2.316	Запрещается расхождение и обгон судов		<ul style="list-style-type: none"> • В пролете мостов • В пролете мостов, при ширине пролета менее 100 м • В пролете мостов, при ширине пролета менее 200 м • В пролете мостов, при ширине пролета менее 5 кратной суммарной ширины судов (составов)
ВВП.1.2.317	Правилами плавания по ВВП запрещается использовать для швартовки судов		<ul style="list-style-type: none"> • Парапеты, поручни, колонны, знаки судоходной обстановки и т.п • Швартовные механизмы, находящиеся в неисправном техническом состоянии • Швартовные тросы, не прошедшие испытания • Синтетические тросы, имеющие большой коэффициент растяжения




ВВП.1.3. Вопросы административной ответственности за нарушение правил плавания

No	Вопрос	Иллюстрация	Варианты ответа (правильный выделен)
ВВП.1.3.1	На какой срок задерживается маломерное судно при совершении административного правонарушения?		<ul style="list-style-type: none"> • На срок до рассмотрения дела об административном правонарушении • На срок до составления протокола об административном правонарушении • На срок до вступления постановления по делу об административном правонарушении в законную силу • На срок до устранения причины задержания




ВВП.1.3.2	Какой срок отводится Кодексом Российской Федерации об административных правонарушениях для уплаты административного штрафа?		<ul style="list-style-type: none"> • 10 суток • 20 суток • 60 суток • 30 суток
ВВП.1.3.3	Какое административное наказание предусматривается за нарушение лицом, управляющим маломерным судном, правил маневрирования?		<ul style="list-style-type: none"> • Административный штраф • Предупреждение • Предупреждение либо административный штраф • Предупреждение, либо административный штраф, либо лишение права управления маломерным судном на срок до шести месяцев
ВВП.1.3.4	Какое административное наказание предусмотрено за управление маломерным судном, не зарегистрированным в установленном порядке?		<ul style="list-style-type: none"> • Предупреждение • Предупреждение либо административный штраф • Предупреждение, либо административный штраф, либо лишение права управления маломерным судном • Административный штраф




ВВП.1.3.5	Какое административное наказание предусматривается за несоблюдение лицом, управляющим маломерным судном, установленной скорости?		<ul style="list-style-type: none"> • Административный штраф • Предупреждение • Предупреждение либо административный штраф • Предупреждение, либо административный штраф, либо лишение права управления маломерным судном на срок до шести месяцев
ВВП.1.3.6	Какое административное наказание предусматривается за управление маломерным судном, судоводителем, не имеющем при себе судового билета?		<ul style="list-style-type: none"> • Предупреждение • Предупреждение либо административный штраф • Предупреждение, либо административный штраф, либо лишение права управления маломерным судном на срок до шести месяцев • Административный штраф
ВВП.1.3.7	Какое административное наказание предусмотрено за управление маломерным судном судоводителем или иным лицом, находящимся в состоянии опьянения?		<ul style="list-style-type: none"> • Лишение прав управления маломерным судном • Предупреждение • Штраф • Штраф или лишение прав управления маломерным судном




ВВП.1.3.8	Какое административное наказание предусматривается за несоблюдение лицом, управляющим маломерным судном, требований навигационных знаков?		<ul style="list-style-type: none"> • Административный штраф • Лишение права управления маломерным судном на срок до шести месяцев • Предупреждение • Одно из перечисленных
ВВП.1.3.9	Какое административное наказание лица, управляющего маломерным судном, предусматривается за преднамеренную остановку или стоянку судна в запрещенных местах?		<ul style="list-style-type: none"> • Административный штраф • Предупреждение • Предупреждение либо административный штраф • Предупреждение, либо административный штраф, либо лишение права управления маломерным судном на срок до шести месяцев
ВВП.1.3.10	В течение какого срока гражданин, в отношении которого вынесено административное наказание, имеет право обжаловать постановление по делу об административном правонарушении?		<ul style="list-style-type: none"> • 5 суток • 20 суток • 15 суток • 10 суток




ВВП.1.3.11	В течение какого срока собственник маломерного судна обязан сообщить в орган государственной регистрации судна о любом изменении сведений, внесенных в реестр маломерных судов?		<ul style="list-style-type: none"> • В течение недели • В течение месяца • В течение трех недель • В течение двух недель
ВВП.1.3.12	Кем выносится постановление о лишении права управления маломерным судном?		<ul style="list-style-type: none"> • Главным государственным инспектором по маломерным судам • Государственным инспектором по маломерным судам • Прокурором • Судьей
ВВП.1.3.13	Какое административное наказание предусмотрено за превышение установленной скорости?		<ul style="list-style-type: none"> • Лишение права управления • Предупреждение • Штраф • Предупреждение или штраф, или лишение права управления




ВВП.1.3.14	Какое административное наказание предусматривается за нарушение правил маневрирования?		<ul style="list-style-type: none"> • Административный штраф • Лишение прав управления маломерным судном • Предупреждение • Одно из перечисленных
ВВП.1.3.15	Какое административное наказание предусмотрено за управление маломерным судном, не несущим бортовых номеров?		<ul style="list-style-type: none"> • Лишение права управления • Предупреждение или штраф • Предупреждение или штраф, или лишение права управления • Штраф
ВВП.1.3.16	Какое административное наказание предусмотрено за преднамеренную остановку маломерного судна в запрещенном месте?		<ul style="list-style-type: none"> • Лишение права управления • Предупреждение • Штраф • Предупреждение или штраф, или лишение права управления




ВВП.1.3.17	При совершении административного правонарушения, влекущего задержание маломерного судна, оно задерживается на время:		<ul style="list-style-type: none"> • До составления протокола об административном правонарушении • До вынесения постановления по делу об административном правонарушении • До исполнения постановления по делу об административном правонарушении • До устранения причины задержания
ВВП.1.3.18	Какое административное наказание предусмотрено за передачу управления маломерным судном лицу, не имеющему на это права?		<ul style="list-style-type: none"> • Лишение права управления • Предупреждение • Предупреждение или штраф • Штраф
ВВП.1.3.19	Какое административное наказание предусмотрено за управление маломерным судном с нарушением ограничений по району плавания?		<ul style="list-style-type: none"> • Предупреждение • Предупреждение или штраф, или лишение права управления • Штраф или лишение права управления • Штраф



ВВП.1.3.20	Какое административное наказание предусмотрено за несоблюдение лицом, управляющим маломерным судном, установленной скорости?		<ul style="list-style-type: none"> • Административный штраф • Предупреждение • Предупреждение либо административный штраф • Предупреждение, либо административный штраф, либо лишение права управления маломерным судном на срок до шести месяцев
ВВП.1.3.21	Какой срок отводится Кодексом Российской Федерации об административных правонарушениях для уплаты административного штрафа?		<ul style="list-style-type: none"> • 10 суток • 20 суток • 40 суток • 60 суток
ВВП.1.3.22	Какое административное наказание предусмотрено за управление маломерным судном с нарушением ограничений по условиям плавания?		<ul style="list-style-type: none"> • Лишение права управления • Предупреждение или штраф • Предупреждение или штраф, или лишение права управления • Штраф

ВВП.1.3.23	Какое административное наказание предусмотрено за управление маломерным судном, не прошедшим технического освидетельствования?		<ul style="list-style-type: none"> • Лишение права управления • Предупреждение • Предупреждение или штраф, или лишение права управления • Штраф
ВВП.1.3.24	Какое административное наказание предусмотрено за преднамеренную остановку или стоянку маломерного судна под судоходным пролетом моста?		<ul style="list-style-type: none"> • Наказание не предусмотрено • Предупреждение или штраф • Штраф • Предупреждение или штраф, или лишение права управления
ВВП.1.3.25	Какое административное наказание предусматривается за несоблюдение лицом, управляющим маломерным судном, требований навигационных знаков?		<ul style="list-style-type: none"> • Административный штраф • Лишение права управления маломерным судном • Предупреждение • Одно из вышеперечисленных


ВВП.1.3.26	В течение какого времени судоводитель имеет право обжаловать постановление по делу об административном правонарушении со дня получения копии постановления?		<ul style="list-style-type: none"> • Двух недель • Одного месяца • Пяти дней • Десяти дней
ВВП.1.3.27	За какое из перечисленных нарушений государственный инспектор по маломерным судам имеет право задержать маломерное судно и поместить его на специализированную стоянку для хранения?		<ul style="list-style-type: none"> • За нарушение правил маневрирования • За превышение установленной скорости • За передачу управления судном лицу, не имеющему права управления • За управление судном в состоянии опьянения
ВВП.1.3.28	За какое из перечисленных нарушений государственный инспектор по маломерным судам имеет право отстранить судоводителя от управления и поместить маломерное судно на стоянку и хранение?		<ul style="list-style-type: none"> • За нарушение правил погрузки и разгрузки маломерных судов • За управление судном, не прошедшим технического освидетельствования • За нарушение правил обеспечения безопасности пассажиров в пути следования • За управление маломерным судном без удостоверения на право управления, судового билета или его копии, заверенной в установленном порядке




ВВП.1.3.29	<p>Какое административное наказание предусмотрено за эксплуатацию маломерного судна, у которого содержание загрязняющих веществ в выбросах превышает установленные государственными стандартами нормативы?</p>		<ul style="list-style-type: none"> • Наказания не предусмотрено • Лишение права управления • Предупреждение или штраф • Штраф
ВВП.1.3.30	<p>Какое административное наказание предусмотрено за утерю или утрату судового билета маломерного судна?</p>		<ul style="list-style-type: none"> • Предупреждение • Предупреждение или штраф • Штраф • Наказание не предусмотрено
ВВП.1.3.31	<p>Какое административное наказание предусмотрено за преднамеренную остановку или стоянку судна в запрещенных местах?</p>		<ul style="list-style-type: none"> • Административный штраф • Предупреждение • Предупреждение либо административный штраф • Предупреждение, либо административный штраф, либо лишение права управления маломерным судном на срок до шести месяцев




ВВП.1.3.32	Какое административное наказание предусмотрено за утерю или утрату удостоверения на право управления маломерным судном?		<ul style="list-style-type: none"> • Предупреждение • Предупреждение или штраф • Штраф • Наказание не предусмотрено
ВВП.1.3.33	Какое административное наказание предусматривается за управление маломерным судном, не зарегистрированным в установленном порядке?		<ul style="list-style-type: none"> • Предупреждение • Предупреждение либо административный штраф • Предупреждение, либо административный штраф, либо лишение права управления маломерным судном • Административный штраф
ВВП.1.3.34	Какое административное наказание предусмотрено за управление судном судоводителем или иным лицом, находящимся в состоянии опьянения?		<ul style="list-style-type: none"> • Лишение права управления маломерным судном • Предупреждение • Штраф • Штраф или лишение прав управления маломерным судном




ВВП.1.3.35	Какое административное наказание предусмотрено за передачу управления маломерным судном лицу, не имеющему при себе удостоверения на право управления маломерным судном?		<ul style="list-style-type: none"> • Наказание не предусмотрено • Предупреждение • Штраф • Предупреждение или штраф
ВВП.1.3.36	Какое административное наказание предусмотрено за управление маломерным судном судоводителю, не имеющему при себе судового билета маломерного судна или его копии, заверенной в установленном порядке, а равно документов, подтверждающих право владения, пользования или распоряжения управляемым им судном в отсутствие владельца?		<ul style="list-style-type: none"> • Наказание не предусмотрено • Предупреждение • Штраф • Предупреждение или штраф



ВВП.1.4. Вопросы эксплуатации маломерных судов и управления ими

№	Вопрос	Иллюстрация	Варианты ответа (правильный выделен)
ВВП.1.4.1	При каком условии можно перевозить на маломерном судне детей дошкольного возраста?		<ul style="list-style-type: none"> • В сопровождении взрослого, не связанного с управлением гидроцикла • При наличии одетого на ребенка спасательного жилета • Если ребенок умеет плавать • Нельзя ни при каких условиях




ВВП.1.4.2	При каком условии маломерному судну можно заходить и маневрировать на акватории пляжей?		<ul style="list-style-type: none"> • Только на самом малом ходу • Только для высадки на берег пассажиров • Если в непосредственной близости от судна нет купающихся людей • Ни при каких условиях
ВВП.1.4.3	Кто допускается к управлению маломерным судном?		<ul style="list-style-type: none"> • Лицо, имеющее действительный диплом на право занятия судоводительской должности • Лицо, имеющее справку об окончании курсов подготовки судоводителей маломерных судов • Любой совершеннолетний гражданин Российской Федерации • Лицо, имеющее действующее удостоверение на право управления маломерным судном
ВВП.1.4.4	Какой из маневров на моторной лодке "А" является наиболее эффективным, чтобы уступить дорогу катеру "Б"?		<ul style="list-style-type: none"> • Сделать оборот через левый борт • Повернуть влево на 10 град • Повернуть вправо на 10 град • Уменьшить скорость и повернуть под корму катера "Б"




ВВП.1.4.5	Какому из маломерных судов должно уступить дорогу маломерное судно "А"?		<ul style="list-style-type: none"> • В • Обоим судам • Ни одному из судов • Б
ВВП.1.4.6	Какому из маломерных судов должно уступить дорогу маломерное судно "Б"?		<ul style="list-style-type: none"> • Б • А и В • Никакому • В
ВВП.1.4.7	В каких случаях моторное маломерное судно должно уступить дорогу гребной лодке?		<ul style="list-style-type: none"> • Если гребная лодка находится слева • Если гребная лодка находится справа • Если гребная лодка находится по курсу • Во всех случаях




ВВП.1.4.8	Какие действия должен предпринять судоводитель маломерного судна "А" для безопасного расхождения?		<ul style="list-style-type: none"> • Застопорить ход и остановиться • Изменить курс влево • Следовать прежним курсом • Изменить курс вправо
ВВП.1.4.9	Какие действия должны предпринять судоводители маломерных моторных судов "А" и "Б" для безопасного расхождения при встречном движении (плавании)?		<ul style="list-style-type: none"> • Должны изменить курс влево • "А" должен повернуть вправо, а "Б" - влево • "А" должен повернуть влево, а "Б" - вправо • Должны изменить курс вправо
ВВП.1.4.10	Как должны расходиться изображенные на иллюстрации суда?		<ul style="list-style-type: none"> • Катер "А" должен уступить дорогу "Б" • Парусно-моторное судно "Б" должно уступить дорогу "А" • Правыми бортами • Левыми бортами

ВВП.1.4.11	В каком из перечисленных случаев маломерному судну разрешается маневрировать на акватории пляжа?		<ul style="list-style-type: none"> • Только на самом малом ходу • Только с принятием всех необходимых мер предосторожности • Если в непосредственной близости от судна нет купающихся людей • Ни в одном из перечисленных случаев не разрешается
ВВП.1.4.12	В чьи обязанности входит проведение инструктажа пассажиров по правилам поведения на маломерном судне во время плавания?		<ul style="list-style-type: none"> • Государственного инспектора по маломерным судам • Должностного лица базы (сооружения) для стоянки маломерных судов • Судовладельца • Судоводителя
ВВП.1.4.13	Какие документы во время плавания должен иметь при себе судоводитель моторного маломерного судна, если он сам управляет этим судном?		<ul style="list-style-type: none"> • Удостоверение на право управления • Акт технического освидетельствования • Судовой билет (или его копию) • Судовой билет (или его заверенную копию) и удостоверение на право управления




ВВП.1.4.14	Какие документы во время плавания должен иметь при себе судоводитель маломерного судна, если он не является владельцем этого судна?		<ul style="list-style-type: none"> • Удостоверение на право управления и акт технического освидетельствования • Судовой билет и документ на право пользования судном • Судовой билет (или его копию) и удостоверение на право управления • Судовой билет (или его заверенную копию), удостоверение на право управления и документ на право пользования судном
ВВП.1.4.15	При каких условиях разрешается пересадка людей с одного судна на другое во время движения?		<ul style="list-style-type: none"> • При отсутствии ветра и волнения • При отсутствии ветра и волнения с обязательно надетым на пересаживаемого человека спасательным жилетом • Если по условиям плавания нет возможности остановить суда • Пересадка во время движения запрещена во всех случаях
ВВП.1.4.16	При наличии какой из перечисленных неисправностей пользование маломерным судном запрещается?		<ul style="list-style-type: none"> • Наличие вибрации • Наличие утечек топлива • Повреждение системы дистанционного управления двигателем • При любой из перечисленных




ВВП.1.4.17	При наличии какой из перечисленных неисправностей пользование маломерным судном запрещается?		<ul style="list-style-type: none"> • Ненадежное крепление кнехтов • При любой из перечисленных • Отсутствие или неисправность ленточного или винтового стопора для удержания якорной цепи • Разгерметизация гермоотсеков или воздушных ящиков
ВВП.1.4.18	При наличии какой из перечисленных неисправностей пользование маломерным судном запрещается?		<ul style="list-style-type: none"> • Наличие вибрации • Разгерметизация воздушных ящиков • Несоответствие нормам комплектации и оборудования судна, указанным в судовом билете • При любой из перечисленных
ВВП.1.4.19	При наличии какой из перечисленных неисправностей пользование маломерным судном запрещается?		<ul style="list-style-type: none"> • Повреждение леерного ограждения • При любой из перечисленных • Отсутствие или неисправность ленточного или винтового стопора для удержания якорной цепи • Неисправность отличительных (бортовых) огней




ВВП.1.4.20	При наличии какой из перечисленных неисправностей пользование маломерным судном запрещается?		<ul style="list-style-type: none"> • Ненадежное крепление планширя • При любой из перечисленных • Отсутствие или неисправность штормовых портиков в фальшборте • Отсутствие или неисправность глушителя
ВВП.1.4.21	При наличии какой из перечисленных неисправностей пользование маломерным судном запрещается?		<ul style="list-style-type: none"> • Наличие сквозных пробоин корпуса судна выше ватерлинии • Несоответствие отличительных (бортовых) огней установленным требованиям • Неисправность блокировки запуска двигателя (мотора) при включении реверса • При любой из перечисленных
ВВП.1.4.22	Какой орган может отменить право собственности на маломерное судно, зарегистрированное в реестре маломерных судов?		<ul style="list-style-type: none"> • Прокуратура • Прокуратура или суд • Вышестоящий орган ГИМС • Суд




<p>ВВП.1.4.23</p>	<p>В течение какого срока действует удостоверение на право управления маломерным судном с момента его выдачи?</p>		<ul style="list-style-type: none"> • 5 лет • 15 лет • Бессрочно • 10 лет
<p>ВВП.1.4.24</p>	<p>Как должно осуществляться маневрирование маломерных судов при расхождении на водных объектах, не имеющих навигационной обстановки?</p>		<ul style="list-style-type: none"> • С учетом направления течения • С учетом левостороннего движения • Порядок расхождения не установлен • С учетом правостороннего движения
<p>ВВП.1.4.25</p>	<p>Какие из перечисленных документов судоводители маломерных судов обязаны предъявлять для проверки государственному инспектору по маломерным судам?</p>		<ul style="list-style-type: none"> • Удостоверение на право управления • Документ на право пользования судном при отсутствии на борту собственника или владельца судна • Судовой билет или его заверенную копию • Все перечисленные




ВВП.2. Правила шлюзования

№	Вопрос	Иллюстрация	Варианты ответа (правильный выделен)
ВВП.2.1	В каких из перечисленных случаев маломерным судам разрешен обгон судов в подходных каналах и камере шлюза?		<ul style="list-style-type: none"> • При шлюзовании вниз • При шлюзовании вверх • Если при входе подходного канала горит зеленый огонь светофора • Таких случаев не предусмотрено
ВВП.2.2	В каком порядке осуществляется вход маломерных судов в шлюз?		<ul style="list-style-type: none"> • В произвольном порядке • Одновременно с немаломерными судами • Перед немаломерными судами • После немаломерных судов
ВВП.2.3	За какой промежуток времени суда, идущие на шлюзование, обязаны сообщать по радиотелефонной связи диспетчеру шлюза о расчетном времени подхода к границам шлюза?		<ul style="list-style-type: none"> • За 1,5 часа • За 1 час • За 0,5 часа • Сразу при подходе к границам шлюза

ВВП.2.4	На каком расстоянии от границ шлюза судоводитель должен запросить по радиотелефонной связи у диспетчера шлюза уточненные данные о порядке судопропуска и доложить о готовности к шлюзованию?		<ul style="list-style-type: none"> • Не менее чем за 1 км • Не менее чем за 3 км • Не менее чем за 100 м • Сразу по прибытии к границам шлюза
ВВП.2.5	К месту отстоя рядом со шлюзом подошли суда в следующем хронологическом порядке: нефтяной танкер, маломерное судно, сухогруз. Каким по порядку будет пропущено в шлюз маломерное судно?		<ul style="list-style-type: none"> • Первым • Вторым • Третьим • Не будет пропущено
ВВП.2.6	Могут ли маломерные суда, находящиеся в очереди, потребовать пройти шлюзование, отдельное от других судов?		<ul style="list-style-type: none"> • Не могут ни при каких обстоятельствах • Могут, при наличии заключенного договора на шлюзование • Могут, если они будут находиться в шлюзе в счале • Могут




ВВП.2.7	С какой скоростью маломерное судно должно заходить в шлюз?		<ul style="list-style-type: none"> • 10 км/ч • 3 км/ч • 1 км/ч • С безопасной скоростью, чтобы избежать повреждения шлюза и судов
ВВП.2.8	Каким образом судоводитель маломерного судна может подтвердить получение распоряжений от диспетчера шлюза, касающиеся расстановки судов у причальных стенок шлюзов, порядка судопропуска и расстановки в камере шлюза, в случае неисправности радиотелефонной связи?		<ul style="list-style-type: none"> • С помощью подачи звукового сигнала «Я Вас понял» • С помощью подачи светового сигнала «Я Вас понял» • С помощью подачи сигнала – отмашки • С помощью языка жестов
ВВП.2.9	При каком условии разрешается вход маломерных судов в камеру шлюза?		<ul style="list-style-type: none"> • Только при зеленом сигнале входного семафора • По команде диспетчера шлюза, поданной через громкоговорящее устройство • Через одну минуту после начала движения впередистоящего немаломерного судна • При зеленом сигнале входного семафора, или при отсутствии на нем сигнала

ВВП.2.10	Что должны иметь суда, следующие на шлюзование?		<ul style="list-style-type: none"> • Втянутые в клюзы и закрепленные якоря • Поднятый флаг Российской Федерации • Посторонние предметы на якорях • Утечки нефтепродуктов
ВВП.2.11	В каком документе, применительно к отдельным шлюзам, могут быть применены нормы, иные чем в Правилах пропуска судов через шлюзы внутренних водных путей?		<ul style="list-style-type: none"> • Правила движения и стоянки судов в бассейнах внутренних водных путей • Правила движения и стоянки судов в Российской Федерации • Инструкция по шлюзованию • Кодекс торгового судоходства
ВВП.2.12	Кто осуществляет руководство пропуском судов через шлюз?		<ul style="list-style-type: none"> • Диспетчер шлюза • Капитан бассейна • Директор шлюза • Дежурный по шлюзу

ВВП.2.13	На какой канал должны быть переключены судовые УКВ радиостанции в границах шлюза?		<ul style="list-style-type: none"> • На 70 канал • На 16 канал • На канал диспетчера шлюза • На 5 канал
ВВП.2.14	Что должен предпринять судоводитель маломерного судна, находясь в границах шлюза, в случае, если из-за маневренных характеристик судна не удастся следовать полученным указаниям диспетчера шлюза?		<ul style="list-style-type: none"> • Об этом обстоятельстве необходимо незамедлительно сообщить диспетчеру шлюза, не предпринимать никаких действий до принятия решения, согласованного с диспетчером шлюза. • Не предпринимать никаких действий. • Об этом обстоятельстве необходимо незамедлительно сообщить диспетчеру шлюза, и все-таки попытаться выполнить указание диспетчера шлюза. • Попросить помощи у других судов выполнить необходимый маневр
ВВП.2.15	Что запрещается делать в границах шлюза?		<ul style="list-style-type: none"> • выход на территорию шлюза и посадка с территории шлюза пассажиров и членов экипажей судов без разрешения диспетчера шлюза • работа на судах радиовещательных установок • нанесение надписей и иных меток на поверхности камер и голов шлюза, на причальные палы, причальные стенки и другие конструкции шлюза • все перечисленное

ВВП.2.16	<p>Что должен предпринять судоводитель маломерного судна в случае утери в границах шлюза крупногабаритных судовых принадлежностей?</p>		<ul style="list-style-type: none"> • Обязан незамедлительно сообщить об этом диспетчеру шлюза • Попытаться незамедлительно принять меры по подъему этого предмета • Обязан сделать запрос о помощи в подъеме этого предмета у другого судна • Ничего предпринимать не должен
----------	--	--	--

ВВП.3. Основы навигации и радиосвязи в районе плавания

№	Вопрос	Иллюстрация	Варианты ответа (правильный выделен)
ВВП.3.1	Какой вид радиосвязи на ВВП является основным?		<ul style="list-style-type: none"> • телефонная радиосвязь • буквопечатающая телеграфная радиосвязь • слуховая телеграфная радиосвязь • сотовая связь
ВВП.3.2	На каком из указанных УКВ каналов должно вестись постоянное наблюдение?		<ul style="list-style-type: none"> • На 2 канале • На 3 канале • На 4 канале • На 5 канале
ВВП.3.3	На каком из указанных УКВ каналов передаются радиотелефонные сигналы срочности?		<ul style="list-style-type: none"> • На 2 канале • На 3 канале • На 4 канале • На 5 канале

ВВП.3.4	На каком из указанных УКВ каналов передаются радиотелефонные сигналы безопасности?		<ul style="list-style-type: none"> • На 2 канале • На 3 канале • На 4 канале • На 5 канале
ВВП.3.5	На каком из указанных УКВ каналов ведется радиообмен при бедствии?		<ul style="list-style-type: none"> • На 2 канале • На 3 канале • На 4 канале • На 5 канале
ВВП.3.6	На каком из указанных УКВ каналов передаются радиотелефонные сигналы бедствия?		<ul style="list-style-type: none"> • На 2 канале • На 3 канале • На 4 канале • На 5 канале

ВВП.3.7	На каком из указанных каналов осуществляется радиотелефонная связь с диспетчером шлюза?		<ul style="list-style-type: none"> • На 2 канале • На 3 канале • На 4 канале • На 25 канале
ВВП.3.8	В каком случае необходимо передать сигнал бедствия?		<ul style="list-style-type: none"> • При наличии очень срочного сообщения, касающегося безопасности судна или какого-либо лица, находящегося на нем или видимого с него • При наличии сообщения, касающегося обеспечения безопасности плавания • На основании получения штормового предупреждения • Если судно находится под угрозой серьезной и неминуемой опасности и ему требуется немедленная помощь
ВВП.3.9	Какое сообщение предваряется сигналом срочности?		<ul style="list-style-type: none"> • сообщение, о требуемой немедленной помощи, в связи с серьезной и неминуемой опасностью • сообщение, передаваемое во время движения и маневрирования • сообщение, касающееся обеспечения безопасности плавания • очень срочное сообщение, касающееся безопасности судна или какого-либо лица, находящегося на нем или видимого с него

ВВП.3.10	Какое сообщение предваряется сигналом безопасности?		<ul style="list-style-type: none"> • сообщение, о требуемой немедленной помощи, в связи с серьезной и неминуемой опасностью • сообщение, передаваемое в условиях ограниченной видимости • сообщение, касающееся обеспечения безопасности плавания • очень срочное сообщение, касающееся безопасности судна или какого-либо лица, находящегося на нем или видимого с него
ВВП.3.11	В каком случае категорически запрещается передача сигналов бедствия, срочности и безопасности?		<ul style="list-style-type: none"> • Без действительной необходимости • В случае стоянки вне пределов судового хода • В случае отсутствия разрешения на право пользования судовой радиостанцией • Без получения разрешения судовладельца
ВВП.3.12	Выберите правильный формат вызова при бедствии, передаваемого по радиотелефону.		<ul style="list-style-type: none"> • Слово "ТРЕВОГА", передаваемое три раза; слово "ПЕРЕДАЕТ", один раз; название судна, передаваемое три раза • Слово "ВСЕМ", передаваемое три раза; слово "Я", передаваемое один раз; название судна, передаваемое три раза • Слово "АВАРИЯ", передаваемое три раза; слово "ГОВОРИТ", передаваемое один раз; название судна, передаваемое три раза • Слово "БЕДСТВИЕ", передаваемое три раза; слово "ГОВОРИТ", передаваемое один раз; название судна, передаваемое три раза

ВВП.3.13	Что следует предпринять, если радиостанция судна, терпящего бедствие, не получит ответ на вызов и сообщение о бедствии на 5 канале УКВ?		<ul style="list-style-type: none"> • Громче говорить в микрофон • Прекратить передачу сообщения о бедствии • Использовать сотовый телефон • Повторить сообщение на любом другом канале, на котором можно привлечь внимание
ВВП.3.14	До каких пор следует повторять вызов и сообщение о бедствии?		<ul style="list-style-type: none"> • до тех пор, пока не прибудет помощь • до тех пор, пока в зоне видимости не появится судно • до тех пор, пока не будет установлена связь по мобильному телефону • до тех пор, пока не будет получено подтверждение о приеме
ВВП.3.15	Какая команда применяется для прекращения передач, мешающих аварийному радиотелефонному обмену?		<ul style="list-style-type: none"> • "ВСЕМ СУДАМ СОБЛЮДАТЬ МОЛЧАНИЕ" • "ВНИМАНИЕ! ВЕДЕТСЯ СПАСАТЕЛЬНАЯ ОПЕРАЦИЯ" • "КАНАЛ ЗАНЯТ АВАРИЙНЫМ ОБМЕНОМ" • "ПРЕКРАТИТЕ ПЕРЕДАЧУ", "БЕДСТВИЕ"




ВВП.3.16	Какая фраза передается в сообщении, передаваемом по окончании радиообмена в случае бедствия?		<ul style="list-style-type: none"> • "ВНИМАНИЕ! КАНАЛ СВОБОДЕН" • "ВОЗОБНОВЛЕНИЕ НОРМАЛЬНОЙ РАБОТЫ" • "АВАРИЙНЫЙ ОБМЕН ЗАВЕРШЕН" • "ОБМЕН О БЕДСТВИИ ОКОНЧЕН"
ВВП.3.17	Над каким сигналом НЕ имеет приоритет сигнал СРОЧНОСТИ?		<ul style="list-style-type: none"> • БЕЗОПАСНОСТИ • ТОЧНОГО ВРЕМЕНИ • БЕДСТВИЯ
ВВП.3.18	В течение какого времени радиостанции, принявшие сигнал срочности, должны продолжать наблюдение за этой передачей?		<ul style="list-style-type: none"> • Не менее 5-ти минут. • Не менее 15-ти минут. • До окончания ходовой вахты • Не менее 3-х минут.




ВВП.3.19	<p>Каким сигналом предваряется сообщение о важных гидрометеорологических предупреждениях, изменениях навигационной и путевой обстановки?</p>		<ul style="list-style-type: none"> • БЕЗОПАСНОСТИ • СРОЧНОСТИ • БЕДСТВИЯ
ВВП.3.20	<p>Когда береговой радиостанцией передаются предупреждения о штормах?</p>		<ul style="list-style-type: none"> • Сразу по поступлению предупреждения на радиостанцию • Каждый четный час • Каждые 6 часов • В ближайший сеанс передачи метеосообщений по расписанию
ВВП.3.21	<p>Как часто необходимо сверять показания часов с сигналами точного времени?</p>		<ul style="list-style-type: none"> • Один раз в сутки • Один раз в течение ходовой вахты • По мере необходимости с учетом точности хода часов • Не реже двух раз в сутки




ВВП.3.22	Какое время принято на внутренних водных путях Российской Федерации?		<ul style="list-style-type: none"> • Поясное время • Среднеевропейское время • Всемирное универсальное время • Единое московское время
ВВП.3.23	Что необходимо сделать судоводителю перед радиотелефонным вызовом?		<ul style="list-style-type: none"> • Регулятор громкости радиостанции установить на максимальный уровень • Отрегулировать шумоподаватель приемника радиостанции • Отключить все электронные устройства вблизи радиостанции • Проверить, не занята ли вызываемая станция обменом
ВВП.3.24	Что необходимо предпринять судоводителю при осуществлении вызова в случае плохого прохождения связи или неразборчивости?		<ul style="list-style-type: none"> • Обратиться ко всем с просьбой прекратить передачу на выбранном канале • Повторить вызов более громко • Повторить вызов значительно медленнее • Повторить вызов 2-3 раза


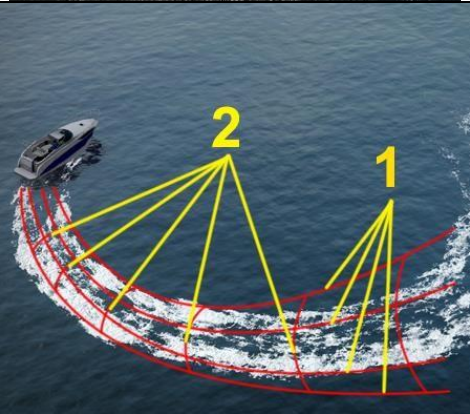
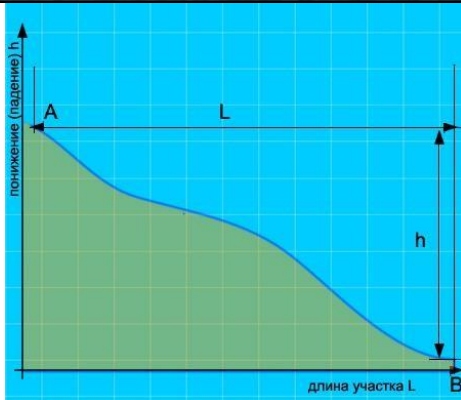
ВВП.3.25	Через какое время может быть повторен вызов после безрезультатной попытки установления связи?		<ul style="list-style-type: none"> • Через 1 мин. • Через 3 мин. • Через 5 мин. • Через 2 мин.
ВВП.3.26	Что следует предпринять судоводителю, если был принят вызов, но нет уверенности, что этот вызов предназначен радиостанции его судна?		<ul style="list-style-type: none"> • Ответить на вызов сразу же и переспросить название вызывающего судна • Обратиться ко всем судам, с просьбой уточнить название вызывающего судна • Запросить береговую радиостанцию с просьбой уточнить название вызывающего судна • Не отвечать до тех, пока вызов не будет повторен и понят.
ВВП.3.27	Какой служебной фразой при ведении радиотелефонного обмена оценивается качество радиосвязи?		<ul style="list-style-type: none"> • Сигнал слабый (сильный) • Слышимость 1 (2,3,4,5) балл • Слышимость разборчивая (неразборчивая) • Слышу хорошо (удовлетворительно, плохо)




ВВП.3.28	Какие документы должны находиться на маломерном судне, оборудованном УКВ радиостанцией?		<ul style="list-style-type: none"> • Правила радиосвязи на внутренних водных путях Российской Федерации • Разрешение на право пользования судовой радиостанцией • Указания по организации судовой радиосвязи в бассейне (регионе) • Все перечисленные
ВВП.3.29	Как правильно передать слово «ДЕЛЬТА» при плохих условиях приема?		<ul style="list-style-type: none"> • Денис, Егор, Людмила, Знак, Тимофей, Алена • Дмитрий, Евгений, Лариса, Мягкий знак, Тимофей, Аркадий • Дмитрий, Елена, Леонид, Мягкий знак, Татьяна, Анна • Денис, Евгений, Леонид, Мягкий знак, Тарас, Антонина
ВВП.3.30	Что обязан сделать судоводитель маломерного судна при приеме сигнала бедствия?		<ul style="list-style-type: none"> • установить и поддерживать непрерывную радиосвязь с береговой радиостанцией • установить радиосвязь с судном в бедствии • установить радиосвязь с судами на месте бедствия • прекратить все передачи, доложить капитану судна (если предусмотрено штатным расписанием) и произвести запись в вахтенном журнале




ВВП.3.31	При подходе к работающему на судовом ходу дноуглубительному или дноочистительному снаряду судно должно		<ul style="list-style-type: none"> • На расстоянии не менее 1 км должно подать звуковой сигнал "Внимание" и согласовать по УКВ радиосвязи сторону прохода • На расстоянии не менее 500 м должно подать звуковой сигнал "Внимание" и согласовать по УКВ радиосвязи сторону прохода • На расстоянии не менее 1 км, при движении сверху, и не менее 500 м, при движении снизу, должно подать звуковой сигнал "Внимание" и согласовать по УКВ радиосвязи сторону прохода • Заблаговременно убавить скорость хода и запросить разрешение на проход
ВВП.3.32	При расхождении судно, идущее вверх, первым заблаговременно должно		<ul style="list-style-type: none"> • Согласовать свои действия по радиотелефонной связи и подать отмашку с левого борта • Подать маневроуказующий звуковой сигнал и отмашку с левого борта • Подать отмашку с левого борта • Подать маневроуказующий звуковой сигнал и отмашку на расхождение с соответствующего борта
ВВП.3.33	Укажите звуковой сигнал, который необходимо подать, если необходимо вызвать на радиосвязь другое судно		<ul style="list-style-type: none"> • Один продолжительный, один короткий и один продолжительный звуки • Один продолжительный звук • Один продолжительный и один короткий звуки • Один продолжительный, один короткий, один продолжительный и один короткий звуки

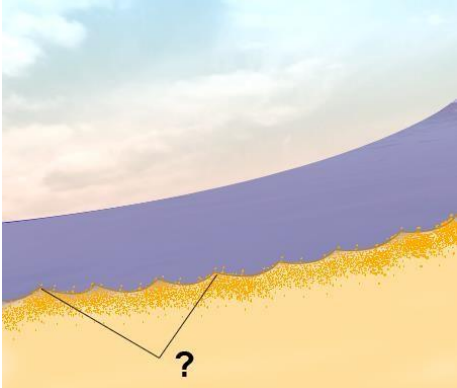


ВВП.3.34	При движении по затруднительному и не просматриваемому участку судно должно		<ul style="list-style-type: none"> • Информировать по радиотелефонной связи о своем местонахождении и через 2-3 минуты подавать звуковой сигнал: два продолжительных звука • Информировать по радиотелефонной связи о своем местонахождении и через 2-3 минуты подавать звуковой сигнал: один продолжительный звук • Информировать по радиотелефонной связи о своем местонахождении • Информировать по радиотелефонной связи о своем местонахождении и через 2-3 минуты подавать звуковой сигнал: один продолжительный, один короткий и один продолжительный звуки
ВВП.3.35	Как называется место начала реки?		<ul style="list-style-type: none"> • Воложка • Протока • Стрежень • Исток
ВВП.3.36	Под каким номером на рисунке обозначен урез воды?		<ul style="list-style-type: none"> • 1 • 2 • 4 • 3




ВВП.3.37	Как называется невысокий обрывистый, как правило, вогнутый берег?		<ul style="list-style-type: none"> • Обрыв • Овраг • Пески • Яр
ВВП.3.38	Как называется крутой и короткий изгиб русла в пределах долины реки?		<ul style="list-style-type: none"> • Извилина • Излучина • Лука • Колено
ВВП.3.39	Как называется длинный изгиб русла вместе с долиной реки?		<ul style="list-style-type: none"> • Излучина • Колено • Лука • Извилина


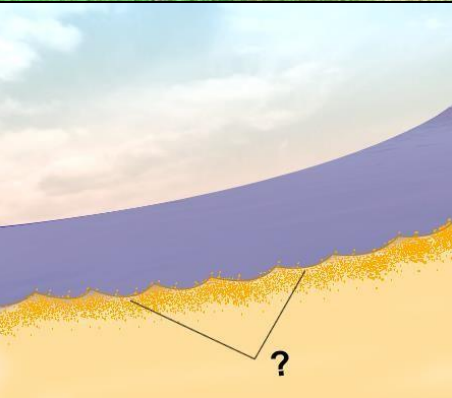

ВВП.3.40	Как называется столкновение струй двух водных потоков (слияние рукавов)?		<ul style="list-style-type: none"> • Взброс • Толчая • Прибой • Спорные воды
ВВП.3.41	Как называются судовые волны, обозначенные на рисунке под номерами "1" и "2"?		<ul style="list-style-type: none"> • Бортовые (1) и кормовые (2) • Носовые (1) и бортовые (2) • Продольные (1) и бортовые (2) • Расходящиеся (1) и поперечные (2) кормовые
ВВП.3.42	Какая зависимость между продольным уклоном поверхности воды и скоростью течения воды в реке?		<ul style="list-style-type: none"> • Скорость течения возрастает с уменьшением продольного уклона • Скорость течения уменьшается с увеличением продольного уклона • Скорость течения не зависит от продольного уклона поверхности воды в реке • Скорость течения возрастает с увеличением продольного уклона




ВВП.3.43	<p>Как называется течение, которое создается у берега на участках, где слив воды направлен к берегу, и вызывает раскат судов в сторону берега?</p>		<ul style="list-style-type: none"> • Затяжное • Раскатное • Свальное • Прижимное
ВВП.3.44	<p>Как называется вращательное движение воды в реке, возникающее, как правило, за выступами берегов, мысами, выпуклыми берегами, мостовыми опорами, дамбами?</p>		<ul style="list-style-type: none"> • Майдан • Водоворот • Бурун • Суводь
ВВП.3.45	<p>Как называется неправильное течение, которое представляет собой слив воды, направленный под углом к судовому ходу, и возникающее из-за разности в уровнях воды по ширине реки?</p>		<ul style="list-style-type: none"> • Затяжное • Спорное • Прижимное • Свальное




ВВП.3.46	<p>Как называется неправильное (беспорядочное) вращательное течение в реке, вызываемое либо столкновением струй двух водных потоков (спорными водами), либо наличием на дне реки крупных предметов?</p>		<ul style="list-style-type: none"> • Майдан • Взбросы • Толчея • Суводь
ВВП.3.47	<p>Какой из этих изгибов реки называется "лука"?</p>		<ul style="list-style-type: none"> • а) • б) • в) • г)
ВВП.3.48	<p>Как называется подводный глинистый выступ?</p>		<ul style="list-style-type: none"> • Шалыга • Опечка • Осередок • Печина




ВВП.3.49	Как называется скопление наносов, отложенных в виде подводной гряды по ширине русла?		<ul style="list-style-type: none"> • Коса • Порог • Отмель • Перекат
ВВП.3.50	Как называется вращательное движение воды за подводным или надводным выступом?		<ul style="list-style-type: none"> • Майдан • Водоворот • Сулои • Суводь
ВВП.3.51	Как называется наносное (без растительности) образование в русле, омываемое водой со всех сторон?		<ul style="list-style-type: none"> • Заманиха • Заплесок • Заструга • Осередок




ВВП.3.52	Как называется клиновидное отложение наносов, образованное у выпуклого берега и расположенное под углом к нему вниз по течению?		<ul style="list-style-type: none"> • Заманиха • Заструга • Гряда • Коса
ВВП.3.53	Как называется песчаная отмель – бугор в русле реки?		<ul style="list-style-type: none"> • Огрудок • Лещадь • Печина • Шалыга
ВВП.3.54	Как называется одиночный камень больших размеров в русле реки?		<ul style="list-style-type: none"> • Шалыга • Осередок • Перекат • Одинец

ВВП.3.55	Как называется небольшое обособленное скопление камней недалеко от берега?		<ul style="list-style-type: none"> • Шалыга • Осередок • Огрудки • Одинец
ВВП.3.56	Как называется глубоководный участок реки между двумя перекатами?		<ul style="list-style-type: none"> • Рейд • Ложбина • Стрежень • Плёс
ВВП.3.57	Как называется большое скопление камней в русле либо каменная коса?		<ul style="list-style-type: none"> • Шалыга • Огрудок • Печина • Гряда

ВВП.3.58	Как называется часть речной долины, затопляемая при половодье (1 и 2)?		<ul style="list-style-type: none"> • Затон • Воложка • Протока • Пойма
ВВП.3.59	Как называется старое русло, спрямленное новым руслом и изолированное от него?		<ul style="list-style-type: none"> • Воложка • Пойма • Рукав • Старица
ВВП.3.60	Как называется часть реки, которая образовалась при разделении русла островом?		<ul style="list-style-type: none"> • Пойма • Протока • Старица • Рукав

ВВП.3.61	Как называется течение из главного русла, направляющееся в боковые протоки у их входов?		<ul style="list-style-type: none"> • Свальное • Боковое • Прижимное • Затяжное
ВВП.3.62	Как называется выработанное речным потоком ложе, по которому осуществляется сток воды при самых низких уровнях?		<ul style="list-style-type: none"> • Плес • Пойма • Старица • Русло
ВВП.3.63	Как называется участок земной поверхности, ограничивающий долину реки с боков?		<ul style="list-style-type: none"> • Левая пойма • Приток • Затон • Коренной берег

ВВП.3.64	Как называется часть старого русла, соединенное с действующим?		<ul style="list-style-type: none"> • Левая пойма • Приток • Правая пойма • Затон
ВВП.3.65	Как называется условная линия, соединяющая на водной поверхности реки точки с наибольшей глубиной русла и максимальными скоростями течения?		<ul style="list-style-type: none"> • Перевал • Ход • Ось • Стрежень
ВВП.3.66	Как называется водный поток, вливающийся в реку?		<ul style="list-style-type: none"> • Побочень • Рукав • Ручей • Приток


ВВП.3.67	Как называется часть реки, образованная при разделении русла островом?		<ul style="list-style-type: none"> • Прорва • Затон • Старица • Рукав
ВВП.3.68	Как называется движение двух судов,двигающихся навстречу друг другу?		<ul style="list-style-type: none"> • Контрплавание • Осевое плавание • Курсовое плавание • Встречное плавание
ВВП.3.69	Какие действия необходимо предпринять судоводителю маломерного судна при выходе на судоходный участок реки из протоки?		<ul style="list-style-type: none"> • Запустить вверх ракету, если судно не оборудовано звуковой сигнализацией • Подать звуковой сигнал из 5 коротких звуков • Остановить судно у правого берега и при помощи бинокля ознакомиться с обстановкой • Уменьшить ход и быть готовым к маневрированию

ВВП.3.70	Выберите правильное определение термина «пеленг».	?	<ul style="list-style-type: none"> • угол между направлением на север и направлением на объект; • угол между направлением на север и диаметральной плоскостью судна; • угол между диаметральной плоскостью судна и направлением на объект; • угол между курсом судна и направлением на объект.
ВВП.3.71	Как называется угол между северным направлением меридиана и диаметральной плоскостью судна по направлению его движения?	?	<ul style="list-style-type: none"> • пеленг; • курсовой угол; • курс; • магнитный курс
ВВП.3.72	Выберите правильное определение термина «курсовой угол».	?	<ul style="list-style-type: none"> • угол между направлением на север и направлением на объект; • угол между направлением на север и диаметральной плоскостью судна; • угол между диаметральной плоскостью судна и направлением на объект; • угол между курсом судна и направлением на объект.



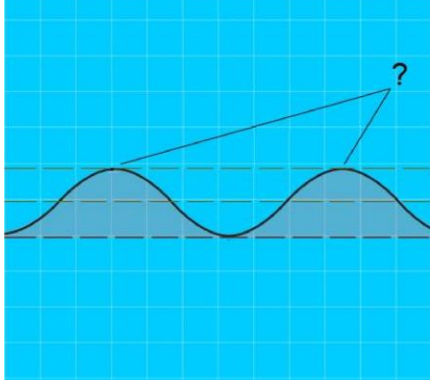
ВВП.3.73	Для чего из перечисленного ниже используется магнитный компас?	?	<ul style="list-style-type: none"> • Измерение скорости и расстояния до пункта назначения. • Снятие пеленга на объект. • Определение расстояния от объекта. • Для всего вышеперечисленного
ВВП.3.74	Как называется угловая разница между направлением на истинный север и направлением на магнитный север?	?	<ul style="list-style-type: none"> • Магнитное склонение • Девиация • Угловое склонение • Демаркация
ВВП.3.75	Как называется отклонение стрелки компаса от магнитного севера под влиянием внешних магнитных полей?	?	<ul style="list-style-type: none"> • Магнитное склонение • Девиация • Угловое склонение • Демаркация

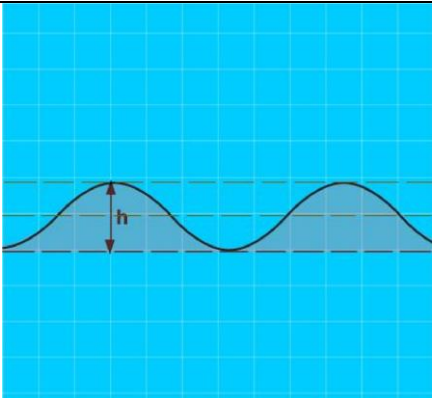


ВВП.3.76	Как называется направление на географический северный полюс?	?	<ul style="list-style-type: none"> • магнитный север; • истинный север • север по компасу • полюсный север.
ВВП.3.77	Как называется угол между диаметральной плоскостью судна и направлением на истинный север?	?	<ul style="list-style-type: none"> • курс • компасный курс • истинный курс • магнитный курс
ВВП.3.78	Как называется угол между диаметральной плоскостью судна и направлением на магнитный север?	?	<ul style="list-style-type: none"> • курс • компасный курс • истинный курс • магнитный курс

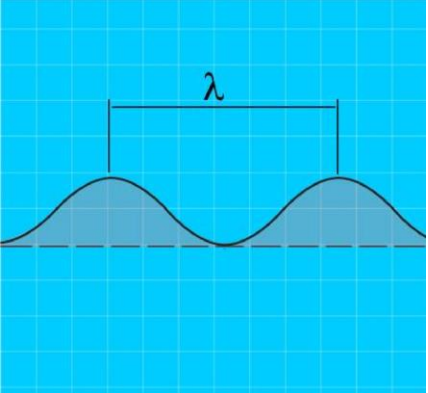


ВВП.3.79	Как называется отклонение движущегося судна от курса под влиянием ветра?	?	<ul style="list-style-type: none"> • дрейф; • дифферент; • крен; • слеминг.
ВВП.3.80	Как называется отклонение движущегося судна от курса под влиянием течения?	?	<ul style="list-style-type: none"> • дрейф; • дифферент; • снос; • слеминг.
ВВП.3.81	Как называется местоположение судна, полученное путем обработки результатов визуальных наблюдений различных ориентиров, положение которых известно?	?	<ul style="list-style-type: none"> • обсервованное; • счислимое; • истинное; • расчетное.


ВВП.3.82	Пеленг на какой из объектов необходимо взять в последнюю очередь при определении места судна?		<ul style="list-style-type: none">• на объект, находящийся по носу;• на объект, находящийся по корме;• на объект, находящийся на траверзе;• на любой из перечисленных.
----------	---	---	---




ВВП.4. Основы метеорологии в районе плавания

№	Вопрос	Иллюстрация	Варианты ответа (правильный выделен)
ВВП.4.1	Что измеряет барометр-анероид?		<ul style="list-style-type: none"> • Температуру воды • Силу ветра • Влажность воздуха • Атмосферное давление
ВВП.4.2	Что измеряется ручным анемометром?		<ul style="list-style-type: none"> • Направление ветра • Скорость течения • Атмосферное давление • Скорость ветра
ВВП.4.3	Как называется наивысшая точка волнового профиля?		<ul style="list-style-type: none"> • Взброс • Подошва • Высота • Гребень

ВВП.4.4	Как называется расстояние (h) от подошвы до гребня волны?		<ul style="list-style-type: none"> • Период волны • Диаметр волны • Длина волны • Высота волны
ВВП.4.5	Как называется ветер, дующий в сторону берега?		<ul style="list-style-type: none"> • Прижимной • Прибрежный • Привальный • Навальный
ВВП.4.6	Как называется разновидность тумана при видимости от 1 до 10 км?		<ul style="list-style-type: none"> • Мгла • Рефракция • Морось • Дымка

ВВП.4.7	Как называется расстояние между гребнями или подошвами двух смежных волн?		<ul style="list-style-type: none"> • Бег волны • Период волны • Высота волны • Длина волны
ВВП.4.8	Как называется область с повышенным давлением, которое понижается от центра к периферии?		<ul style="list-style-type: none"> • Циклон • Шторм • Штиль • Антициклон
ВВП.4.9	Признаком какого изменения погоды является резкое падение атмосферного давления?		<ul style="list-style-type: none"> • Изменения направления ветра • Улучшения погоды • Устойчивой хорошей погоды • Приближения шторма

ВВП.4.10	Как называется явление скопления микроскопических капелек воды в нижних слоях атмосферы?		<ul style="list-style-type: none"> • Мгла • Морось • Дымка • Туман
ВВП.4.11	Как называется интенсивное (при забрызгивании) нарастание слоя льда на палубе, фальшборте, надстройках, рангоуте и палубных судовых устройствах?		<ul style="list-style-type: none"> • Замораживание • Наледь • Обмораживание • Обледенение
ВВП.4.12	Как называется ветер, дующий против течения реки?		<ul style="list-style-type: none"> • Верховой • Бриз • Встречный • Низовой

ВВП.4.13	Как называется прибор для наблюдения за изменениями атмосферного давления и графической записи показаний?		<ul style="list-style-type: none"> • Барометр • Гидролокатор • Анемометр • Барограф
ВВП.4.14	Какую погоду следует ожидать при резком падении атмосферного давления и появлении перистокучевых облаков?		<ul style="list-style-type: none"> • Изменение направления ветра • Усиления дождя • Ухудшение погоды через 6-10 часов • Грозу и шторм через 1-2 часа
ВВП.4.15	Укажите единицу измерения силы ветра.		<ul style="list-style-type: none"> • м/сек; • км/час; • балл; • градус.

ВВП.4.16	Что означает выражение «Шторм 9 баллов»?	?	<ul style="list-style-type: none"> • волна высотой 9 метров; • ветер скоростью 9 м/сек; • ветер скоростью 9 км/час; • ветер силой 9 баллов.
ВВП.4.17	Как называется ветер, при котором воздух перемещается с запада на восток?	?	<ul style="list-style-type: none"> • Западный; • Восточный; • Северный; • Южный.
ВВП.4.18	Какое название носят приливы, имеющие две полные и две малые воды в течение лунных суток?	?	<ul style="list-style-type: none"> • полусуточные; • суточные; • сизигийные; • квадратурные.

ВВП.4.19	Какое название носят приливы, имеющие одну полную и одну малую воду в течение суток?	?	<ul style="list-style-type: none"> • полусуточные; • суточные; • сизигийные; • квадратурные.
ВВП.4.20	Какое название носят приливы, которые наблюдаются в дни новолуния и полнолуния?	?	<ul style="list-style-type: none"> • полусуточные; • суточные; • сизигийные; • квадратурные.
ВВП.4.21	Какое название носят приливы, которые наблюдаются в дни первой и последней четвертей луны?	?	<ul style="list-style-type: none"> • полусуточные; • суточные; • сизигийные; • квадратурные.

ВВП.4.22	Где будет находиться область высокого давления по отношению к человеку, стоящему спиной к ветру в северном полушарии?	?	<ul style="list-style-type: none"> • впереди; • справа, • слева, • со стороны спины
ВВП.4.23	Как называется ветер, который дует днем с моря на сушу, а ночью с суши на море?	?	<ul style="list-style-type: none"> • пассат; • бора; • бриз; • муссон.
ВВП.4.24	По какой шкале производится визуальная оценка силы ветра?	?	<ul style="list-style-type: none"> • Саффира – Симпсона • Бофорта • Цельсия • Кельвина